



INSTITUTO DE ATENÇÃO BÁSICA E AVANÇADA À SAÚDE – IABAS

TÉCNICO DE REGULAÇÃO MÉDICA (TARM)

CÓDIGO DA PROVA

M01W

Verifique se o código da Prova é o mesmo do seu cartão de respostas.

TRANSCREVA, EM ESPAÇO DETERMINADO NO SEU CARTÃO DE RESPOSTAS, A FRASE DE MAHATMA GANDHI PARA EXAME GRAFOTÉCNICO

“A saúde é o resultado não só de nossos atos como também de nossos pensamentos.”

ATENÇÃO

Duração da prova: 4 horas.

Este caderno contém 40 questões de múltipla escolha, cada uma com 5 alternativas de resposta – A, B, C, D e E – conforme disposição abaixo.

Disciplinas	Quantidade de questões	Valor de cada questão
Língua Portuguesa	10	1
Sistema Único de Saúde - SUS	20	2
Informática Básica	5	2
Conhecimentos Gerais	5	2

Verifique se este material está em ordem, caso contrário, notifique imediatamente o fiscal.

O tempo de duração de prova inclui o preenchimento do Cartão de Respostas.

LEIA AS INSTRUÇÕES ABAIXO:

Siga, atentamente, a forma correta de preenchimento do Cartão de Respostas, conforme estabelecido no próprio. O Cartão de Respostas é personalizado, impossibilitando a substituição.

Por motivo de segurança:

- O candidato só poderá retirar-se definitivamente da sala após 1 (uma) hora do início efetivo da prova
- Somente faltando 1 (uma) hora para o término da prova, o candidato poderá retirar-se levando o seu Caderno de Questões
- O candidato que optar por se retirar sem levar o seu Caderno de Questões não poderá copiar suas respostas por qualquer meio. O descumprimento dessa determinação acarretará a eliminação do candidato
- Ao terminar a prova, o candidato deverá se retirar imediatamente do local, não sendo possível nem mesmo a utilização dos banheiros e/ou bebedouros.

Ao terminar a prova, é de sua responsabilidade entregar ao fiscal o Cartão de Respostas assinado. Não se esqueça dos seus pertences. Os três últimos candidatos deverão permanecer na sala até que o último candidato entregue o Cartão de Respostas.

O fiscal de sala não está autorizado a alterar quaisquer dessas instruções. Em caso de dúvida, solicite a presença do coordenador local.

BOA PROVA!

A aldeia que nunca mais foi a mesma

Era uma aldeia de pescadores de onde a alegria fugira, e os dias e as noites se sucediam numa monotonia sem fim, das mesmas coisas que aconteciam, das mesmas coisas que se diziam, dos mesmos gestos que se faziam, e os olhares eram tristes, baços peixes que já nada procuravam, por saberem inútil procurar qualquer coisa, os rostos vazios de sorrisos e de surpresas, a morte prematura morando no enfado, só as intermináveis rotinas do dia a dia, prisão daqueles que se haviam condenado a si mesmos, sem esperanças, nenhuma outra praia pra onde navegar...

Até que o mar, quebrando um mundo, anunciou de longe que trazia nas suas ondas coisa nova, desconhecida, forma disforme que flutuava, e todos vieram à praia, na espera... E ali ficaram, até que o mar, sem se apressar, trouxe a coisa e a depositou na areia, surpresa triste, um homem morto...

ALVES, Rubem. A aldeia que nunca mais foi a mesma.
Folha de S. Paulo 19/05/1984

Questão 01

No primeiro parágrafo do texto o autor passa para os leitores a ideia de:

- A) tristeza momentânea pela morte de alguém.
- B) surpresa por um acontecimento inesperado.
- C) impugnação pelo desaparecimento de alguém.
- D) mesmice, da total estagnação em que se encontrava a aldeia.
- E) movimentação corriqueira de uma aldeia de pescadores.

Questão 02

O texto de Rubem Alves é marcado pelo uso de diversos recursos linguísticos com a finalidade de tornar o texto:

- A) arrastado, brando.
- B) movimentado, pesado.
- C) enfático, descritivo.
- D) leve, fluido, brando.
- E) pesado, arrastado, monótono.

Questão 03

O primeiro parágrafo é marcado pela predominância de verbos no pretérito imperfeito do indicativo. Esse tempo verbal é utilizado para dar ideia de:

- A) ação passada com ideia de condição ou desejo.
- B) duração dos fatos no tempo.
- C) um fato que pode acontecer num momento futuro.
- D) ação que teve início no passado, mas que pode se prolongar.
- E) ação concluída.

Questão 04

Do primeiro para o segundo parágrafo percebe-se a mudança no tempo verbal de pretérito imperfeito do indicativo para:

- A) futuro do pretérito.
- B) pretérito perfeito.
- C) pretérito mais-que-perfeito.
- D) futuro do presente.
- E) presente pretérito.

Questão 05

“ATÉ QUE o mar, quebrando um mundo, anunciou de longe que trazia nas suas ondas coisa nova...”

No trecho apresentado acima, pode-se substituir o conectivo destacado, mantendo o seu significado por:

- A) A MEDIDA QUE o mar, quebrando um mundo, anunciou de longe que trazia nas suas ondas coisa nova...
- B) LOGO, o mar, quebrando um mundo, anunciou de longe que trazia nas suas ondas coisa nova...
- C) EMBORA o mar, quebrando um mundo, anunciasse de longe que trazia nas suas ondas coisa nova...
- D) AINDA QUE o mar, quebrando um mundo, anunciasse de longe que trazia nas suas ondas coisa nova...
- E) QUANDO o mar, quebrando um mundo, anunciou de longe que trazia nas suas ondas coisa nova...

Questão 06

O conectivo ATÉ QUE é usado para expressar:

- A) oposição.
- B) proporção.
- C) concessão.
- D) conclusão.
- E) ligação temporal

Questão 07

“...por saberem INÚTIL procurar qualquer coisa...”

A palavra em destaque é composta por qual processo de formação de palavras?

- A) Aglutinação.
- B) Derivação prefixal e sufixal.
- C) Derivação sufixal.
- D) Derivação prefixal.
- E) Justaposição.

Questão 08

“E ali ficaram, até que o mar, sem se apressar, trouxe a coisa e a depositou na areia, surpresa triste, um homem morto...”

O autor faz uso de várias figuras de linguagem em seu texto. No trecho acima a figura de linguagem presente é:

- A) pleonasma.
- B) apóstrofe.
- C) metonímia.
- D) metáfora.
- E) personificação.

Questão 09

Assinale a alternativa em que todas as palavras pertencem ao mesmo campo semântico:

- A) rotina, pescadores, alegria.
- B) monotonia, surpresas, dia a dia.
- C) aldeia, pescadores, dia a dia.
- D) sorrisos, surpresas, alegria.
- E) monotonia, enfado, rotina.

Questão 10

“..., até que o mar, sem se apressar, trouxe a coisa e A depositou na areia, surpresa triste, um homem morto...”

O termo destacado exerce a função sintática de:

- A) objeto indireto.
- B) objeto direto.
- C) adjunto adnominal.
- D) sujeito.
- E) aposto.

SISTEMA ÚNICO DE SAÚDE - SUS**Questão 11**

De acordo com a legislação do SUS, o planejamento da saúde tem como uma de suas diretrizes:

- A) a integração entre os entes públicos com ênfase nas atividades fins.
- B) a definição de metas de produtividade para a rede de serviços.
- C) ser ascendente e baseado na racionalidade sanitária.
- D) trabalhar na perspectiva da territorialização dos agravos à saúde.
- E) ser indutor de políticas para a iniciativa privada.

Questão 12

Todo paciente com agravo à saúde que tiver acesso à UPA saúde só poderá ser dispensado ou encaminhado a outra unidade de saúde pelo:

- A) médico.
- B) chefe clínico.
- C) médico ou enfermeiro.
- D) gestor da unidade de saúde.
- E) enfermeiro.

Questão 13

A participação da iniciativa privada no SUS deve se dar em caráter:

- A) descentralizado.
- B) complementar.
- C) facultativo.
- D) compulsório.
- E) hierárquico.

Questão 14

Segundo o que preconiza a Resolução nº 2.077/2014 do CFM, a implantação do Acolhimento com Classificação de Risco para atendimento dos pacientes nos Serviços Hospitalares de Urgência e Emergência é:

- A) uma meta.
- B) obrigatória.
- C) pactuada.
- D) avaliada caso a caso.
- E) um protocolo desejável.

Questão 15

Entre as prioridades pactuadas entre os gestores do SUS está o fortalecimento da atenção básica. O Pacto pela Vida estabelece como um dos meios para efetivar esta prioridade:

- A) a reorientação das unidades básicas de saúde para um modelo de maior complexidade.
- B) a ênfase nas especificidades locais para atender as necessidades dos mais carentes.
- C) a adoção de mecanismos de controle e avaliação visando à transparência na oferta de serviços.
- D) aprimorar a inserção dos profissionais da atenção básica nas redes locais de saúde através da iniciativa federal.
- E) a consolidação e ampliação da estratégia de Saúde da Família.

Questão 16

Constitui um dos princípios gerais do financiamento do SUS:

- A) a responsabilidade dos três entes da federação, sendo que a União deve destinar mais recursos à saúde.
- B) a redução das desigualdades regionais com vistas à redução dos custos com atenção à saúde.
- C) a ênfase nas ações de vigilância sanitária para garantir o controle de riscos sanitários inerentes ao mau uso dos serviços.
- D) o repasse fundo a fundo como modalidade preferencial de transferência de recursos pelos gestores.
- E) a responsabilização pelo financiamento da atenção básica como prerrogativa municipal.

Questão 17

Entre os elementos determinantes e condicionantes da saúde que compõem o conceito de saúde do SUS estão:

- A) o lazer, os hábitos saudáveis e o foco nos resultados sociais.
- B) a educação, a medicina alternativa e o meio ambiente.
- C) a atividade física, a revisão do pacto federativo e ações de vigilância em saúde.
- D) o transporte, a renda e a automedicação.
- E) a alimentação, a moradia e o saneamento básico.

Questão 18

A representação dos usuários nos Conselhos de Saúde e Conferências será:

- A) estratégica ao atuar na formulação de programas e na execução orçamentária da política de saúde.
- B) paritária em relação ao conjunto dos demais segmentos.
- C) permanente quando homologada pelo chefe do poder legalmente constituído em cada esfera do governo.
- D) consultiva conforme estabelecido pela comissão tripartite.
- E) igualitária em relação aos representantes do governo e dos profissionais de saúde.

Questão 19

A Legislação do SUS prevê que o Mapa da Saúde tem como uma de suas funções:

- A) definir as ações intergestoras e intersetoriais.
- B) orientar o planejamento integrado definindo o teto financeiro.
- C) evitar o desvio de verbas destinados à área da saúde.
- D) identificar as necessidades de saúde.
- E) delimitar o perfil demográfico da população da região.

Questão 20

O Pacto pelo Vida é um compromisso estabelecido entre os gestores em torno de prioridades sanitárias. Dentre tais prioridades estão as ações promoção da saúde, que têm como uma de suas metas o(a):

- A) descontinuação da verba do setor saúde.
- B) combate ao tabagismo.
- C) redução da gravidez na adolescência.
- D) difusão de palestras sobre saúde.
- E) medicalização da sociedade.

Questão 21

Estão entre as Portas de Entrada às ações e aos serviços de saúde nas Redes de Atenção à Saúde:

- A) os serviços de atenção de urgência e emergência e de atenção psicossocial.
- B) a rede particular conveniada ao SUS e serviços específicos de acesso prioritário.
- C) as redes especiais de acesso aberto e de especialidades.
- D) a atenção ambulatorial especializada e hospitalar.
- E) a atenção de média complexidade e a atenção básica.

Questão 22

O tempo máximo de permanência do paciente na UPA para elucidação diagnóstica e tratamento é:

- A) de 48 horas, após sua admissão desde que justificada clinicamente.
- B) de 24 horas, estando indicada a internação após esse período.
- C) permitida enquanto o paciente estiver entubado em ventilação artificial.
- D) variável, dependendo se houver iminente risco de vida ou sofrimento intenso.
- E) pelo tempo necessário para que a equipe possa avaliar a necessidade de transferência ou alta do paciente.

Questão 23

Uma das condições em que o médico plantonista da UPA deverá acionar imediatamente o diretor técnico da unidade é quando:

- A) não for possível detalhar o quadro clínico do paciente com o encaminhamento proveniente da UPA.
- B) forem descumpridas as condições para o exercício da autonomia médica.
- C) conseguir transferir o paciente no fluxo do sistema de regulação de leitos.
- D) o médico regulador de urgências não atender à solicitações do médico plantonista.
- E) houver pacientes que necessitem de unidade de terapia intensiva.

Questão 24

A implantação do Acolhimento com Classificação de Risco no Serviço Hospitalar de Urgência e Emergência se faz necessário para:

- A) estabelecer critérios mais rigorosos para a busca de leitos de UTI para os pacientes em risco de vida.
- B) normatizar a assistência de acordo com a complexidade do atendimento visando a não superlotação dos serviços.
- C) hierarquizar o atendimento, dando prioridade ao atendimento dos pacientes mais graves.
- D) agilizar o fluxo ao atender doentes com agravos simples à saúde antes daqueles com doenças de maior complexidade.
- E) ampliar a transferência de pacientes internados para os leitos de retaguarda nas enfermarias.

Questão 25

Segundo a Lei nº 8.080 de 1990, constitui um dos princípios do SUS:

- A) seletividades da clientela.
- B) a integração das ações de saúde.
- C) a igualdade da assistência à saúde.
- D) centralização político administrativa.
- E) acesso à informação a quem solicitar.

Questão 26

O acesso universal e igualitário às ações e aos serviços de saúde será ordenado pelo(a):

- A) atenção primária.
- B) prioridade epidemiológica.
- C) oferta de serviços pelos hospitais.
- D) porta de entrada.
- E) custo/benefício do tratamento.

Questão 27

As comissões intergestoras cumprem um papel essencial na operacionalização do SUS porque o Sistema se pauta por um tipo de gestão:

- A) democrática.
- B) estratégica.
- C) compartilhada.
- D) cidadã.
- E) hierarquizada.

Questão 28

Segundo a legislação que define a regulação do acesso à assistência no SUS, as autorizações para Tratamento Fora de Domicílio - TFD devem ser definidas:

- A) pela equipe médica assistente.
- B) pelo formato de regulação intra regional.
- C) pela área técnica de regulação.
- D) considerando a urgência e eficácia do tratamento.
- E) em acordo com a pactuação do Ministério da Saúde.

Questão 29

A garantia do acesso universal e igualitário à assistência farmacêutica tem como um de seus pré requisitos:

- A) haver disponibilidade financeira para a compra do medicamento pela secretaria municipal de saúde.
- B) ser um medicamento padronizado para doenças tratadas no âmbito do SUS.
- C) estar em harmonia com as determinações do Conselho de Saúde local.
- D) estar o usuário assistido por ações e serviços de saúde do SUS.
- E) ter o medicamento sido prescrito por um médico.

Questão 30

Qual dos elementos seguintes deve (devem) ser delimitados em uma Região de Saúde?

- A) As doenças prevalentes na área
- B) Seus limites geográficos
- C) Seu custo operacional
- D) Seu ente regulador
- E) Sua capacidade de transferir casos mais graves

INFORMÁTICA BÁSICA**Questão 31**

Ao se utilizar o navegador Google Chrome, caso se deseje abrir uma janela anônima através das teclas de atalho, as teclas a serem usadas são: CTRL+

- A) F
- B) SHIFT+Q
- C) J
- D) SHIFT+N
- E) P






Questão 32

Um usuário de um computador com MS Windows 10, em português, deseja fechar um item ativo ou sair do aplicativo ativo usando teclas de atalho. As teclas de atalho a serem utilizadas nesse caso são:

- A) ALT+F4
- B) CTRL+V
- C) ALT+TAB
- D) F1
- E) F6






Questão 33

Caso uma pessoa deseje inserir uma equação em um documento, utilizando o editor de textos MS Word 2013, em português, ela deve clicar no ícone:

- A) 
- B) 
- C) 
- D) 
- E) 

Questão 34

Um usuário do MS Excel 2013 em português deseja inserir um gráfico tipo Barra em uma planilha. Para isso, ele vai clicar no ícone:

- A) 
- B) 
- C) 
- D) 
- E) 

Questão 35

Para garantir a segurança de acesso à internet, um administrador de microcomputador deseja instalar um antivírus em sua máquina. Um software antivírus que pode ser instalado é o:

- A) Writer.
- B) Avira.
- C) Arp.
- D) Explorer.
- E) Paint.

CONHECIMENTOS GERAIS

Questão 36



<https://journals.openedition.org/confins/12994> Acesso em 04 de setembro de 2018.

O bloco econômico representado no mapa anterior é:

- A) UNASUL.
- B) ALIANÇA DO PACÍFICO.
- C) APEC.
- D) MERCOSUL.
- E) NAFTA.

Questão 37

Dados divulgados pela ONG WWF-Brasil, em evento em comemoração ao Dia do Pantanal 2017, afirma que quase 20% do Pantanal foi desmatado. A maior parte desse bioma encontra-se no estado de Mato Grosso do Sul.

Entre as causas da devastação destaca-se a(o):

- A) exploração madeireira.
- B) pecuária extensiva.
- C) monocultura do arroz.
- D) intenso cultivo de trigo.
- E) atividade mineradora.

Questão 38

Esse plano consistiu num conjunto de medidas econômicas destinadas a controlar a inflação lançadas em 14 de janeiro de 1989 pelo então ministro da Fazenda Mailson da Nóbrega. Trata-se da terceira tentativa de combate à inflação empreendida pelo governo José Sarney (1985-1990).

www.fgv.br/cpdoc/acervo/ Acesso em 04 de setembro de 2018 – modificado.

O texto faz referência ao Plano:

- A) Verão.
- B) Cruzado.
- C) Bresser.
- D) Real.
- E) Collor.

Questão 39

Segundo a atual Constituição Federal da República Federativa do Brasil, no Artigo 18, parágrafo 3º, “Os Estados podem incorporar-se entre si, subdividir-se ou desmembrar-se para se anexarem a outros, ou formarem novos Estados ou Territórios Federais, mediante aprovação da população diretamente interessada, através de plebiscito, e do Congresso Nacional, por lei complementar.”

Ilustrando essa situação tem-se o caso de desmembramento do estado:

- A) do Amazonas e criação dos estados de Rondônia e Acre.
- B) de Goiás e criação do estado de Tocantins.
- C) do Pará e criação dos estados de Tapajós e Carajás.
- D) do Mato Grosso e criação do estado Mato Grosso do Sul.
- E) do Maranhão e criação do estado do Piauí.

Questão 40

“Semelhante à tensão no Mediterrâneo”, assim classificou a Organização Internacional para as Migrações (OIM) alertando sobre o grande êxodo de cidadãos desse país para países vizinhos, entre os quais, o Brasil. Trata-se de um momento de crise. O país e uma das causas da crise, são respectivamente:

- A) Venezuela – Oscilação do preço do petróleo.
- B) Síria – Rivalidades acentuadas com Líbano.
- C) Peru – Resistência regional ao líder Evo Morales.
- D) Paraguai – Permanência do governo de Fernando Lugo.
- E) Egito – Apoio dos Estados Unidos ao governo de Bashar Al Assad.