



PREFEITURA DE VILA VELHA / ES - MAGISTÉRIO

PB - PROFESSOR GEOGRAFIA

Código da Prova

P06 Y
TARDE

 Verifique se o Código da Prova é o mesmo do seu cartão de respostas.

 Duração da prova: **4 horas**

**TRANSCREVA, EM ESPAÇO DETERMINADO NO SEU CARTÃO DE RESPOSTAS,
A FRASE ABAIXO PARA O EXAME GRAFOTÉCNICO:**

”Poesia é voar fora da asa.” (Manoel de Barros)



ATENÇÃO

Este caderno contém (cinquenta) questões de múltipla escolha, cada uma com 05 (cinco) alternativas de resposta – A, B, C, D e E – e uma questão discursiva.

**Verifique se este material está em ordem. Caso contrário, notifique imediatamente o fiscal.
O tempo de duração da prova inclui o preenchimento do cartão de respostas e folha de resposta.**

LEIA AS INSTRUÇÕES ABAIXO:

Siga, atentamente, as formas corretas de preenchimento do cartão de respostas e da folha de respostas, conforme estabelecido nos próprios.

Por motivo de segurança:

- O candidato só poderá retirar-se definitivamente da sala após 1 (uma) hora do início efetivo da prova.
- Somente faltando 1 (uma) hora para o término da prova, o candidato poderá retirar-se levando o seu caderno de questões.
- O candidato que optar por se retirar sem levar o seu caderno de questões não poderá copiar suas respostas por qualquer meio.
- Ao terminar a prova, o candidato deverá se retirar imediatamente do local da prova, não sendo possível nem mesmo a utilização dos banheiros e/ou bebedouros.

Candidato, ao terminar a prova, é de sua responsabilidade entregar ao fiscal o cartão de respostas da Prova Objetiva assinado e a folha de resposta desidentificada. Não se esqueça dos seus pertences.

Os três últimos candidatos deverão permanecer na sala até que o último candidato entregue o cartão de respostas e a folha de resposta. O fiscal de sala não está autorizado a alterar quaisquer dessas instruções. Em caso de dúvida, solicite a presença do coordenador local.

BOA PROVA!

LÍNGUA PORTUGUESA

Leia o texto abaixo e responda ao que se pede.

Poema tirado de uma notícia de jornal

João Gostoso era carregador de feira
livre e morava no morro da Babilônia
num barracão sem número
Uma noite ele chegou no bar Vinte de
Novembro
Bebeu
Cantou
Dançou
Depois se atirou na lagoa Rodrigo de
Freitas e morreu afogado.

Manuel Bandeira

Questão 1

Observe o período abaixo.

“João Gostoso era carregador de feira livre e morava no morro da Babilônia num barracão sem número”.

Pode-se afirmar que:

- I – há um período simples.
- II – há um período composto por coordenação.
- III – “Gostoso” é um aposto enumerativo.
- IV – há, na segunda oração, adjunto adverbial de lugar.
- V – “de feira livre” tem a função de adjunto adnominal.

Estão corretos apenas os itens:

- (A) II, III, IV.
- (B) II, IV.
- (C) II, IV, V.
- (D) I, III, V.
- (E) III, V.

Questão 2

Dentre as características presentes nas alternativas abaixo, a alternativa em que elas NÃO justificam o título do texto é:

- (A) a objetividade, a impessoalidade e a aparente imparcialidade do eu lírico.
- (B) a narração em 3ª pessoa é neutra, contrastando a linguagem poética.
- (C) o personagem representa uma alegoria de muitos brasileiros que vivem à margem da sociedade.
- (D) o eu lírico, conturbado, revela a insatisfação do personagem com sua vida, culminando no suicídio.
- (E) paródia da linguagem jornalística denunciando o destino violento das pessoas simples.

Questão 3

A opção correta quanto à regência verbal é:

- (A) Assiste-lhe o direito de solicitar as informações sobre a empresa.
- (B) Assisti o seu destempero junto ao ciclista, disse o guarda ao motorista.
- (C) Não lhe conheço bem para entregar a encomenda em confiança.
- (D) O policial queria ajudar a ela, mas não havia entendimento sobre a questão.
- (E) Explicava ao aluno de que não se atrasasse para a prova.

Questão 4

No trecho “Depois **se atirou** na lagoa Rodrigo de Freitas e **morreu afogado**.”, os termos em destaque, quanto aos aspectos gramatical, sintático e semântico, podem ser analisados, respectivamente, da seguinte forma:

- (A) verbo significativo/ verbo transitivo indireto/ objeto indireto.
- (B) verbo de ação/verbo intransitivo/predicativo do sujeito.
- (C) verbo de ligação/verbo transitivo direto/objeto direto.
- (D) verbo na voz passiva/ verbo de ação/predicativo do sujeito.
- (E) verbo pronominal/ verbo intransitivo/adjunto adverbial.

Questão 5

Em “João morreu no doce contato das águas plácidas da Lagoa.”, ocorre a seguinte figura de linguagem:

- (A) Metáfora.
- (B) Sinestesia.
- (C) Paradoxo.
- (D) Metonímia.
- (E) Antonomásia.

RACIOCÍNIO LÓGICO QUANTITATIVO**Questão 6**

Em uma progressão aritmética, a soma do quarto termo com o sétimo termo é 41. A soma dos primeiros dez termos dessa progressão é:

- (A) 205.
- (B) 325.
- (C) 242.
- (D) 171.
- (E) 282.

Questão 7

Em uma escola, os alunos têm três opções de atividades extracurriculares: arte, música e esporte coletivo. Eles devem participar de, pelo menos, uma atividade. Dos 110 estudantes na escola, 55 escolheram música, 60 escolheram esporte e 40 escolheram arte. Se 35 alunos escolheram exatamente duas atividades, o número de alunos que escolheu fazer as três atividades foi:

- (A) 2.
- (B) 3.
- (C) 5.
- (D) 6.
- (E) 7.

Questão 8

Se jogarmos quatro dados de 6 faces simultaneamente, de todas as combinações possíveis de resultado, em quantas o quarto dado terá como resultado um 6?

- (A) 1.296.
- (B) 216.
- (C) 120.
- (D) 60.
- (E) 300.

Questão 9

Marina é professora de Matemática e está organizando uma olimpíada com seus alunos. Durante a olimpíada, cada aluno participante realizará duas provas. Ela precisará corrigir as provas em 1 hora e meia para que o resultado da olimpíada saia no horário programado. Considerando que ela corrige 24 provas em uma hora, a quantidade limite de alunos que poderão participar da olimpíada se ela tiver ajuda de um professor com o mesmo ritmo de correção que ela, de forma que o resultado da olimpíada não atrase, será de:

- (A) 72.
- (B) 36.
- (C) 54.
- (D) 18.
- (E) 48.

Questão 10

Em um grupo de 500 pessoas, 60% são mulheres e 40% dessas mulheres são estudantes. Sabe-se também que 20% dos homens do grupo são estudantes. Se for escolhida uma pessoa desse grupo aleatoriamente, a probabilidade de a pessoa ser estudante ou ser mulher é de:

- (A) 24%.
- (B) 19%.
- (C) 32%.
- (D) 68%.
- (E) 60%.

LEGISLAÇÃO EDUCACIONAL**Questão 11**

A Lei nº 5.629, de 24 de junho de 2015, do Município de Vila Velha, Estado do Espírito Santo, que Aprova o Plano Municipal de Educação - PME e dá outras providências, apresenta como Meta 5: alfabetizar todas as crianças, no máximo, até o final do 3º (terceiro) ano do Ensino Fundamental.

Dentro da referida Meta, a Estratégia 5.6 diz que os alunos que, ao final do 3º ano do Ensino Fundamental, não estiverem alfabetizados:

- (A) poderão ser aprovados, após avaliação.
- (B) deverão ser remanejados para outra turma.
- (C) serão readaptados na série subsequente.
- (D) terão direito à recuperação paralela.
- (E) ficarão retidos na série, após avaliação.

Questão 12

De acordo com o Decreto nº 258, de 29 de dezembro de 2014, que estabelece critérios para implantação, organização e funcionamento do projeto de educação em tempo integral e normatiza medidas a serem adotadas pelas Unidades de Ensino, em seu artigo 3º, estabelece que a carga horária diária das Unidades Escolares participantes do Projeto de Educação em Tempo Integral é de, no mínimo:

- (A) 7 horas de efetivo trabalho escolar, perfazendo uma carga horária anual de, pelo menos, 1.407 (mil e quatrocentos e sete) horas/aula.
- (B) 8 horas de efetivo trabalho escolar, perfazendo uma carga horária anual de, pelo menos, 1.407 (mil e quatrocentos e sete) horas/aula.
- (C) 7 horas de efetivo trabalho escolar, perfazendo uma carga horária anual de, pelo menos, 1.200 (mil e duzentos) horas/aula.
- (D) 6 horas de efetivo trabalho escolar, perfazendo uma carga horária anual de, pelo menos, 1.305 (mil e trezentos e cinco) horas/aula.
- (E) 6 horas de efetivo trabalho escolar, perfazendo uma carga horária anual de, pelo menos, 1.407 (mil e quatrocentos e sete) horas/aula.

Questão 13

A formação inicial de professores é de responsabilidade das universidades e teve mudanças importantes a partir da Lei de Diretrizes e Bases nº 9394/96. Uma delas foi a criação dos Institutos Superiores de Educação, que deveriam ser centros formadores, disseminadores, sistematizadores e produtores do conhecimento referente ao processo de ensino, de aprendizagem e de educação escolar, com o objetivo de promover a formação geral dos futuros professores de educação básica e, ainda, favorecer o conhecimento e o domínio dos conteúdos específicos ensinados nas diversas etapas da educação básica e das metodologias e tecnologias a eles associados, bem como desenvolver habilidades para a condução dos demais aspectos inerentes ao trabalho coletivo da escola.

A outra mudança, foi:

- (A) a formação docente, exceto para a educação superior, incluirá prática de ensino de, no mínimo, seiscentas horas.
- (B) o ingresso de professores das redes públicas de educação básica a cursos superiores de pedagogia e licenciatura será de livre acesso.
- (C) os currículos dos cursos de formação de docentes terão por referência os programas pré-aprovados pelas Universidades.
- (D) a exigência da formação em cursos de nível superior para os professores atuarem na educação infantil e nas séries iniciais do ensino fundamental.
- (E) o MEC passa a se responsabilizar e promover a formação inicial, a continuada e a capacitação dos profissionais de magistério.

Questão 14

A Lei nº 4.100, de 22 de outubro de 2003, que institui o Sistema Municipal de Ensino do Município de Vila Velha/ES, e disciplina seu funcionamento, expressa em seu Capítulo III, Da Educação Infantil e Do Ensino Fundamental, no art. 29 que, na rede pública municipal, o atendimento em creches deverá fazer-se, prioritariamente, a partir de:

- (A) oito meses.
- (B) doze meses.
- (C) seis meses.
- (D) quatorze meses.
- (E) quatro meses.

Questão 15

A mobilidade escolar ou a conhecida transferência é objeto de regramento na LDB e em outros instrumentos normativos do CNE e dos Conselhos de Educação Estaduais e Municipais.

As mobilidades, de modo geral, ocorrem por necessidade dos adultos responsáveis pelo menor que não pode deixar de ser atendido frente a uma escolha que não foi sua.

Nesse sentido, não há como recusar matrícula em algum estabelecimento de ensino que favoreça o deslocamento do aluno transferido. Mas, acima dessas questões administrativas, não há como recusar a continuidade dos estudos iniciados em outra escola, de forma que o aluno não se sinta despreparado para avançar em seu percurso de aprendizagem ou que não se sinta retrocedendo em conquistas já efetivadas.

Em observações e acompanhamento de alguns estudos, indicam que essa questão tem sido descuidada gerando, inúmeras vezes, nos alunos transferidos, uma sensação de abandono ou descaso.

Por tudo isso, ao tratar da mobilidade interséries e interescolas ou sistemas e, pensando prioritariamente na dimensão pedagógica que envolve o currículo escolar e a avaliação, a LDB estabeleceu no § 1º do art. 23 que:

- (A) poderão organizar-se classes, ou turmas, com alunos de séries distintas, com níveis equivalentes de adiantamento na matéria, para qualquer componente curricular.
- (B) a escola poderá reclassificar os alunos, inclusive quando se tratar de transferências entre estabelecimentos situados no País e no exterior, tendo como base as normas curriculares gerais.
- (C) o calendário escolar deverá adequar-se às peculiaridades locais, inclusive climáticas e econômicas a critério do respectivo sistema de ensino, sem com isso reduzir o número de horas letivas.
- (D) nos estabelecimentos que adotam a progressão regular por série, o regimento escolar pode admitir formas de progressão parcial, desde que preservada a sequência do currículo.
- (E) a classificação em qualquer série ou etapa por promoção, para alunos que cursaram, com aproveitamento, a série ou fase anterior, em qualquer escola.

TECNOLOGIAS EDUCACIONAIS

Questão 16

Smartphones e tablets têm à sua disposição uma grande quantidade de aplicativos para uso em educação. Esses aplicativos são chamados:

- (A) IOS.
- (B) Android.
- (C) APPS.
- (D) Linux.
- (E) Blogs.

Questão 17

Das ferramentas abaixo, aquela que é uma enciclopédia baseada na web e escrita de maneira colaborativa denomina-se:

- (A) Enciclopédia Barsa.
- (B) Google maps.
- (C) Compédia.
- (D) Googleplex.
- (E) Wikipédia.

Questão 18

O programa do MEC para educação a distância, que visa proporcionar formação continuada para o uso pedagógico das diferentes tecnologias da informação e da comunicação é denominado:

- (A) Mídias na Educação.
- (B) Educação Pedagógica a distância.
- (C) Internet na sala de aula.
- (D) Universidade aberta do Brasil.
- (E) O Computador em sala de aula.

Questão 19

Ao alocar recursos, sob demanda, de um servidor e armazenamento de dados em um Data Center remoto, localizado em qualquer ponto do planeta, com acesso pela internet, você estará utilizando o que chamamos de:

- (A) On-Line.
- (B) Real Time.
- (C) FTP.
- (D) Computação na Nuvem.
- (E) Computação Quântica.

Questão 20

A legislação que regula o uso da Internet no Brasil por meio da previsão de princípios, garantias, direitos e deveres para quem usa a rede, é chamada:

- (A) Lei estadual da internet.
- (B) Comissão Nacional da internet.
- (C) Lei da Regulação Digital.
- (D) Marco Civil da internet.
- (E) Estatuto das Mídias sociais.

CONHECIMENTOS PEDAGÓGICOS

Questão 21

De acordo com as Diretrizes Curriculares Nacionais, o Projeto Político Pedagógico (PPP) é um dos meios de viabilizar a escola democrática e de qualidade para todos.

Considere as seguintes afirmativas sobre o PPP.

I- deve contemplar a concepção sobre educação, conhecimento, avaliação e mobilidade escolar.

II- deve ser construído somente por professores.

III- deve contemplar as bases norteadoras da organização do trabalho pedagógico.

IV- não deve tratar do programa de formação continuada dos profissionais da educação

Estão corretas apenas as afirmativas:

- (A) I e II.
- (B) I e III.
- (C) I e IV.
- (D) II e III.
- (E) II e IV.

Questão 22

Considere as seguintes afirmativas com relação às metodologias ativas.

I- A função do professor deve ser atuar como mediador entre o conhecimento e os alunos, estimulando essa interação e ajudando nas dificuldades.

II- O professor perde a sua função e pode ser substituído pela tecnologia ou perder sua razão de existir.

III- A aprendizagem baseada em projetos e a aprendizagem baseada em problemas são práticas de ensino-aprendizagem comuns nas metodologias ativas.

IV- Nessas metodologias, o aprendizado está centrado na figura do professor.

Estão corretos apenas os itens:

- (A) I e II.
- (B) I e III.
- (C) I e IV.
- (D) II e III.
- (E) III e IV.

Questão 23

A teoria das inteligências múltiplas, elaborada pelo cientista Howard Gardner, causou impacto nos meios pedagógicos.

Considere as seguintes afirmativas a respeito da teoria das inteligências múltiplas.

I- O tipo de inteligência que deve ser mais valorizado é a lógica-matemática.

II- Há outros tipos de inteligência, além da linguística e da lógico-matemática.

III- A inteligência não é única e não pode ser medida e padronizada.

IV- As pessoas nascem com determinada quantidade de inteligência que serve de limite para as diferentes realizações.

Estão corretas apenas as afirmativas:

- (A) I e II.
- (B) I e III.
- (C) I e IV.
- (D) II e III.
- (E) II e IV.

Questão 24

De acordo com a legislação vigente, as escolas devem desenvolver práticas inclusivas.

Considere as seguintes afirmativas com relação à perspectiva da educação inclusiva no espaço escolar.

I- A escola deve evitar o contato entre estudantes que não apresentam deficiências e os que apresentam.

II- A escola deve promover o contato entre estudantes que não apresentam deficiência e os que apresentam, atuando de forma a evitar situações que envolvam intimidação vexatória.

III- O professor deve acompanhar, sem o auxílio de outros profissionais, a aprendizagem dos estudantes com deficiência, e altas habilidades/superdotação e transtornos globais do desenvolvimento.

IV- A escola deve elaborar uma proposta pedagógica que atenda aos grupos e às necessidades individuais.

Estão corretas, apenas, as afirmativas:

- (A) I e II.
- (B) I e III.
- (C) II e III.
- (D) II e IV.
- (E) III e IV.

Questão 25

Em um debate sobre as relações entre processos de aprendizagem e desenvolvimento, foi defendida, entre outras, a seguinte posição:

É necessário esperar a criança apresentar um nível de desenvolvimento particular para começar a educação escolar.

Considerando a noção de zona de desenvolvimento proximal apresentada por Vygotsky, sobre esse posicionamento é correto afirmar que:

- (A) está baseado na noção de zona de desenvolvimento proximal que desconsidera as interações sociais no desenvolvimento.
- (B) não seria o mais produtivo, pois não existe relação entre processos de aprendizagem, educação escolar e desenvolvimento.
- (C) não seria o mais produtivo, pois a exposição a novas aprendizagens pode funcionar como fator construtivo do desenvolvimento.
- (D) seria o mais produtivo, pois a educação escolar deve ser considerada meio poderoso de reforço do desenvolvimento.
- (E) seria o mais produtivo, pois a exposição a novas aprendizagens não é considerada um fator construtivo de desenvolvimento.

Questão 26

Uma professora realizou uma ação avaliativa no início de um processo de ensino e aprendizagem. Seu objetivo era obter informações sobre os conhecimentos, aptidões e competências dos estudantes, visando à delimitação das intervenções mais adequadas.

A principal função da avaliação que foi realizada denomina-se:

- (A) classificatória.
- (B) contínua.
- (C) diagnóstica.
- (D) hierárquica.
- (E) somativa.

Questão 27

A Nota técnica nº4/2014 do MEC orienta quanto a documentos comprobatórios de alunos com deficiência, transtornos globais do desenvolvimento e altas habilidade/superdotação no Censo Escolar.

Segundo essa nota técnica, cabe ao professor que atua no Atendimento Escolar Especializado:

- (A) elaborar o plano de Atendimento Educacional Especializado.
- (B) estabelecer como condição para a matrícula a apresentação de um diagnóstico clínico.
- (C) evitar contato com as famílias e com os demais profissionais de saúde.
- (D) garantir o atendimento somente a partir do acesso da escola ao diagnóstico clínico.
- (E) realizar estudo de caso somente se houver a apresentação de laudo médico do aluno.

Questão 28

O Relatório para a UNESCO da Comissão Internacional sobre Educação para o século XXI propõe que a educação deve organizar-se em torno de quatro aprendizagens fundamentais que, ao longo de toda a vida, serão de algum modo para cada indivíduo, os pilares do conhecimento.

Considere as afirmativas sobre esses pilares do conhecimento.

I - O único pilar que deve ser objeto de atenção por parte do ensino estruturado é “aprender a conhecer”.

II - Cada um dos quatro pilares deve ser objeto de igual atenção por parte do ensino estruturado.

III - Os quatro pilares propostos são independentes uns dos outros, pois não há relação entre os mesmos.

IV - Existem entre os quatro pilares múltiplos pontos de contato, de relacionamento e de permuta.

Estão corretas, apenas, as seguintes afirmativas.

- (A) I e II.
- (B) I e III.
- (C) I e IV.
- (D) II e III.
- (E) II e IV.

Questão 29

As aprendizagens essenciais definidas na Base Nacional Comum Curricular (BNCC) devem concorrer para assegurar aos estudantes o desenvolvimento de dez competências gerais, que consubstanciam, no âmbito pedagógico, os direitos de aprendizagem e desenvolvimento.

Com relação às dez competências gerais, é correto afirmar que são propostas para as seguintes etapas da Educação Básica:

- (A) Anos Iniciais, Anos Finais e Ensino Fundamental.
- (B) Anos Iniciais, Anos Finais e Ensino Médio.
- (C) Educação Infantil, Anos Iniciais e Ensino Médio.
- (D) Educação Infantil, Ensino Fundamental e Anos Finais.
- (E) Educação Infantil, Ensino Fundamental e Ensino Médio.

Questão 30

Segundo José Carlos Libâneo, utilizando como critério a posição que adotam em relação aos condicionantes sociopolíticos da escola, as tendências pedagógicas foram classificadas em liberais e progressistas.

Considere as afirmativas sobre o papel da escola, a atuação do professor e os conteúdos de ensino na tendência pedagógica crítico-social dos conteúdos.

I- A atuação da escola consiste na preparação do aluno para o mundo adulto e suas contradições, fornecendo-lhe um instrumental, por meio de aquisição de conteúdos e da socialização, para uma participação organizada e ativa na democratização da sociedade.

II- Os conteúdos não devem ser apenas ensinados, ainda que bem ensinados; é preciso que se liguem, de forma indissociável, à sua significação humana e social.

III- A forma de conceber os conteúdos estabelece oposição entre cultura erudita e cultura popular ou espontânea, numa relação de descontinuidade.

IV- O papel de mediação em torno da análise dos conteúdos é exercido pelo professor sempre de forma não-diretiva, evitando a intervenção pedagógica.

Estão corretos apenas os itens:

- (A) I e II.
- (B) I e III.
- (C) II e III.
- (D) II e IV.
- (E) III e IV.

CONHECIMENTOS ESPECÍFICOS

Questão 31

“No atual contexto [...], autores libertários têm sido (re)descobertos; não mais (ou não necessariamente) “museologicamente”, como “achados arqueológicos” destinados a alguma exposição em algum cantinho do “museu do pensamento crítico”, mas sim como “armas”, cuja letalidade, mesmo no caso de autores do século XIX e início do século XX como Reclus e Kropotkin, ainda não se perdeu por completo.”

(SOUZA, Marcelo Lopes de. Uma Geografia marginal e sua atualidade: A linhagem libertária. Primeiro Colóquio Território Autônomo, 2010.)

A respeito dos pensadores Reclus e Kropotkin, pode-se afirmar corretamente que, ao longo da história da Ciência Geográfica:

- (A) entre os contemporâneos da Geografia Clássica, apesar de La Blache ter forte afinidade ideológica com tais autores, já que eram totalmente identificados com a ordem político-social instituída, ele não os incorporou em suas obras devido à competitividade catedrática.
- (B) os autores tiveram uma larga produção estritamente associada à descrição de áreas, pendente para o lado da Geografia Física – o que, portanto, não consegue fornecer respostas aos problemas e às necessidades contemporâneas, de uma visão mais integrada e relacional.
- (C) as tradições e matrizes político-filosóficas libertárias, como o anarquismo e o autonomismo, permaneceram, durante os anos 70 e 80, bastante negligenciadas no interior da “Geografia Radical”, que seguiu um viés marxista e era crítico às proposições mais “subversivas”.
- (D) sua hiper valorização da ciência moderna e do método científico fez com que fossem incorporados pela Geografia Teorético-Quantitativa de forma superficial, dadas as convicções no progresso da humanidade a partir de um racionalismo crítico.
- (E) deixaram um legado de obras pouco extenso e aprofundado, mesmo que detentor de uma forte sensibilidade espacial – o que justifica a marginalidade do seu pensamento na Ciência Geográfica até meados do século XX e sua rarefeita utilização apenas a partir dos anos 70.

Questão 32

O Instituto Brasileiro de Geografia e Estatística (IBGE), através da pesquisa e publicação ‘Regiões de Influência das Cidades’ (2008) analisou uma série de mudanças e permanências nas redes e hierarquias urbanas do país através da identificação de características socioeconômicas selecionadas de cada centro (população, PIB municipal, valor adicionado de atividades econômicas, presença de internet banda larga) e sua centralidade em temas específicos (gestão pública federal, gestão de empresas privadas, comércio, serviços, rede bancária, rede de televisão etc).

A respeito da temática, é correto afirmar que:

- I. Uma característica contemporânea da rede urbana brasileira é a refuncionalização, pela qual centros intermediários assimilaram novas funções, antes restritas aos centros de mais alta hierarquia.
- II. As redes urbanas tradicionais do Nordeste, comandadas por capitais estaduais que concentram, com muitos centros intermediários, a oferta de equipamentos e serviços, exercem pouca polarização em suas áreas e reproduzem, em uma escala maior, a descontinuidade espacial e o esvaziamento físico do fenômeno urbano, espalhando-se pelo país.
- III. Os centros que emergiram dos anos 70 para os anos 2000 se localizam predominantemente nos estados do Maranhão, Tocantins, Piauí e Bahia, na região conhecida como MATOPIBA – seguindo a última fronteira agrícola do Brasil.
- IV. Nas áreas de ocupação mais antiga, como São Paulo, Rio de Janeiro e sul de Minas, o quadro é mais estável, e algumas cidades deixam de exercer maior centralidade, possivelmente com as mudanças em comunicação e transportes.
- V. A rede centralizada por São Paulo abrange parte de Minas Gerais, do Mato Grosso do Sul, Mato Grosso, Rondônia e Acre. O Rio de Janeiro tem projeção no próprio estado, no Espírito Santo, no sul da Bahia, e na Zona da Mata mineira, onde divide influência com Belo Horizonte.
- VI. A rede de Brasília influi no oeste da Bahia, em alguns municípios de Goiás e no noroeste de Minas Gerais. As outras redes de influência são centralizadas por São Paulo, Rio de Janeiro, Manaus, Belém, Fortaleza, Recife, Salvador, Goiânia, Belo Horizonte, Curitiba e Porto Alegre.

Dos itens acima mencionados, estão corretos apenas:

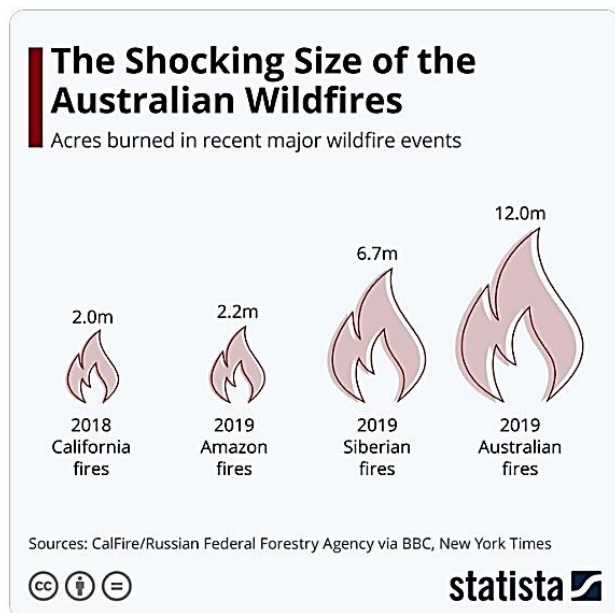
- (A) I, II e III.
- (B) I, III e V.
- (C) I, IV, V e VI.
- (D) II, IV e VI.
- (E) III, IV, V e VI.

Questão 33



Ricardo Salles MMA
@rsallesmma

Sibéria queimou 3 vezes mais que a Amazônia. Na Austrália, quase 6 vezes mais. Mas certas ONG's e alguns jornalistas só se importam em falar mal de seu próprio país e, claro, sempre contra o Governo. Seletividade absoluta....



O tweet do Ministro do Meio Ambiente coloca em pauta incêndios florestais ocorridos no ano de 2019 em diferentes partes do mundo.

Como uma das qualidades de uma boa aula de Geografia é a capacidade de ler, analisar e descrever fenômenos em várias escalas, diferenciando-os espacialmente, ao conciliarmos fundamentação científica, contextualização e crítica verificamos que há causalidades distintas para os incêndios florestais supracitados – bem como consequências e desdobramentos também.

Nesse sentido, analise as afirmativas a seguir e determine se estão certas ou erradas

I – A influência do Dipolo do Oceano Índico (conhecido como El Niño do Índico), que se refere à diferença nas temperaturas da superfície do mar em regiões opostas do oceano, foi positiva no último ano – o que significa a ocorrência de menos chuvas e, conseqüentemente, mais secas, em determinadas porções da Austrália, favorecendo os incêndios florestais.

II – Na Sibéria, a terra seca e as temperaturas muito mais quentes do que a média normal, combinadas com relâmpagos e ventos fortes, fizeram com que as labaredas se espalhassem de forma agressiva. A queima foi sustentada pelo solo da floresta, composto de turfa descongelada, exposta e seca – substância com alto teor de carbono.

III – Na Floresta Amazônica, não há incêndios naturais, dada a característica de um ambiente muito úmido – o qual, inclusive, é o responsável por não permitir a formação de uma área desértica no Brasil, graças aos “rios voadores”. O fogo teria iniciado, em sua maior parte, de um processo de desmatamento, com a derrubada da vegetação, sua colocação ao sol para secar e posterior realização da queimada para “limpar a área” e abrir espaço.

IV – Em diversos ecossistemas australianos, a maioria dos incêndios ocorre naturalmente e com uma certa frequência, assim como nas florestas costeiras da Califórnia (EUA). Ou seja, as queimadas acontecem em sua maior parte de forma natural, pela incidência de raios. No entanto, os efeitos das mudanças ambientais (incluindo as climáticas) exacerba tal condição natural, elevando as temperaturas e prolongando períodos de seca – o que favorece a propagação do fogo.

A alternativa que apresenta a sequência adequada é:

- (A) I – certo; II – certo; III – certo; IV – certo.
- (B) I – errado; II – errado; III – errado; IV – errado.
- (C) I – errado; II – errado; III – certo; IV – certo.
- (D) I – certo; II – errado; III – certo; IV – errado.
- (E) I – errado; II – certo; III – certo; IV – errado.

Questão 34

ECONOMIA

Irã anuncia descoberta de campo de petróleo com 50 bilhões de barris

Nova reserva é anunciada em meio a crise econômica causada por sanções impostas ao país pelos Estados Unidos

Por EFE
© 10 nov 2019, 18h03

A manchete acima, publicada pela Exame em 10/11/2019, informava que o anúncio da nova reserva se deu em meio à crise econômica causada por sanções impostas ao país pelos Estados Unidos da América (EUA). O conhecimento sobre a distribuição e utilização dos recursos naturais e energéticos nos revela sua importância e seus desdobramentos nas relações econômicas e geopolíticas mundiais.

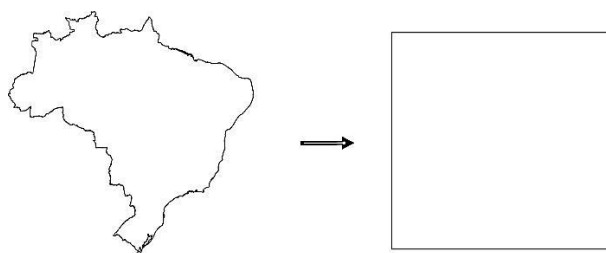
A respeito desse assunto, é correto afirmar que:

- (A) os EUA aumentaram, nos últimos anos, sua dependência de importações de petróleo do Oriente Médio – o que justifica, por si só, as tensões geopolíticas com o Irã.
- (B) os conflitos entre Rússia e Ucrânia pelo território da Crimeia resumem-se ao fato de que o subsolo ucraniano é detentor de enormes reservas de gás natural.
- (C) a limitação para que a Venezuela se torne a maior exportadora de petróleo do mundo, dado o tamanho de suas reservas hoje conhecidas, é a falta de tecnologias para exploração.
- (D) o Brasil tem atraído grandes investimentos estrangeiros, interessados nas reservas petrolíferas do país – como pode-se ver no último megaleilão de quatro áreas na Bacia de Santos.
- (E) com o degelo do Ártico, Rússia e China unem-se por petróleo, gás e em busca de novas rotas comerciais, como a cobiçada Rota Setentrional.

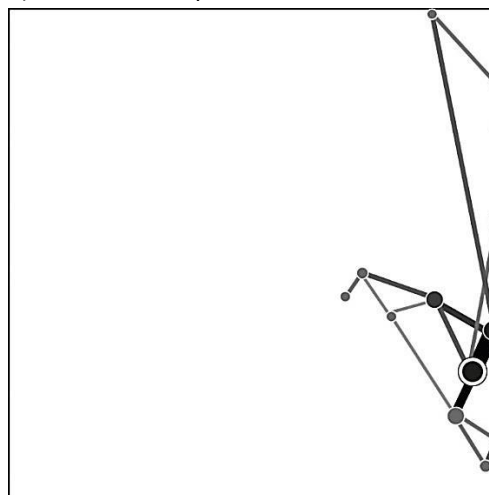
Questão 35

Uma das formas didáticas de representação de fenômenos da realidade dá-se a partir da criação de modelos gráficos e de mapeamentos. Baseando-se, sobretudo, no Atlas Nacional do Brasil (IBGE, 2010) e em trabalhos próprios anteriores sobre a topologia da internet no Brasil, Ludmila Girardi (2015) propôs o seguinte modelo gráfico da organização da internet no território nacional:

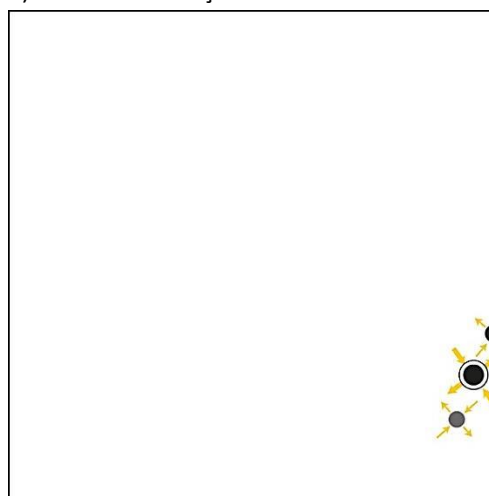
1) Generalização da malha



2) Grafo e hierarquia dos nós e das arestas



3) Centros de atração



Fonte: GIRARDI, Ludmila. Estruturas e dinâmicas espaciais da organização da internet no território brasileiro. In: *Confins* [Online], 23 | 2015. Disponível em: <http://journals.openedition.org/confins/9976> (Acesso em 26/01/20)

Como se pode observar, foi realizada a abstração do contorno do território nacional, transformando-o num simples quadrado, para demonstrar graficamente o nível de centralização da rede, bem como os nós com o acesso mais rápido e direto para troca do tráfego, excluindo as pontas, que representariam os nós mais periféricos. Assim, a abstração demonstra um subconjunto selecionado das estruturas fundamentais de base territorial e informacional que mantém o funcionamento da rede de internet no país e das dinâmicas da evolução dos acessos e da capilaridade da internet no Brasil, entre os anos de 2007 e 2012.

A respeito da geografia da informação, pode-se inferir corretamente a seguinte reflexão sobre a posição dos objetos e da divisão territorial:

- (A) no Norte e na maior parte do Nordeste e Centro-Oeste, os nós estão isolados, pois estão nas extremidades do país, mas estão interconectados por ligações fortes.
- (B) a rede concentra esses nós sobretudo na região Sul e Sudeste, mas também no Nordeste, com destaque para Fortaleza, Natal e João Pessoa – nós equivalentes a Brasília e Florianópolis.
- (C) Belo Horizonte e Brasília são os principais intermediadores, apresentando melhor colocação dada a proximidade do principal nó da rede e possuindo muitas conexões diretas com um grande número de nós, especialmente no Norte e no Nordeste.
- (D) São Paulo é o principal nó da rede, sendo mais expressivo seu índice de intermediação em relação aos outros vértices. Porto Alegre desponta com o segundo nível de centralização, mostrando-se como grande intermediador, explicado por sua forte relação com São Paulo, Curitiba e Londrina.
- (E) depois de São Paulo, Curitiba e Rio de Janeiro são os principais pontos de atração da rede, sendo este último o que centraliza mais intermediações entre os dois.

Questão 36



O mapa de regionalização literária desenvolvido pelo IBGE através do Atlas das Representações Literárias de Regiões Brasileiras permite um pensar do ensino da Geografia de forma bastante interdisciplinar. Campanha Gaúcha, Sertões dos Confins, de Goiás e do Cariri e Gerais são as regiões propostas em tal mapeamento.

Tal mapeamento é representativo de que tipo de região?

- (A) Região funcional.
- (B) Região como mesoescala.
- (C) Região como instrumento de planejamento e/ou projeto de e intervenção.
- (D) Região como artefato.
- (E) Região-rede.

Questão 37

Com relação aos conceitos básicos da ciência da geoinformação, temos no universo da representação, que as representações geométricas podem estar associadas a duas grandes classes: REPRESENTAÇÃO VETORIAL e REPRESENTAÇÃO MATRICIAL. Sobre estas representações, analise as afirmativas a seguir e associe à numeração correta:

- (1) Representação Matricial
- (2) Representação Vetorial

- () Atribui maior precisão à produção de cartas.
- () Realiza melhor operações de álgebra de mapas.
- () Para um mesmo grau de precisão, o espaço de armazenamento requerido é bem maior.
- () Apresenta os relacionamentos topológicos entre objetos disponíveis.
- () Representa melhor fenômenos com variação contínua no espaço.
- () Possui armazenamento por coordenadas (mais eficiente).

A numeração correta na sequência em que aparecem as afirmativas é:

- (A) 2; 1; 1; 2; 1; 2.
- (B) 1; 2; 2; 1; 2; 1.
- (C) 2; 2; 1; 1; 2; 2.
- (D) 1; 1; 2; 2; 1; 1.
- (E) 1; 2; 2; 1; 2; 2.

Questão 38

No livro “Globalização: as consequências humanas”, do sociólogo polonês Zygmunt Bauman, o autor expõe logo de início que “[...] a globalização tanto divide como une; divide enquanto une – e as causas da divisão são idênticas, às que promovem a uniformidade do globo”.

(BAUMAN, Z. Globalização: as consequências humanas. Rio de Janeiro: Jorge Zahar, 1999).

Por essa breve reflexão, é possível afirmar que o autor considera o fenômeno da globalização como um movimento preocupante para a sociedade global na medida em que traz graves consequências. De acordo com seus conhecimentos e com a reflexão de Bauman, é possível afirmar que suas preocupações estão ligadas a:

- I. Aumento da segregação espacial.
- II. Progressiva desterritorialização dos Estados-nações.
- III. Crescimento de migrações em massa.
- IV. Perda de soberania política.
- V. Enfraquecimento de capital cultural.

Entre as afirmativas destacadas, estão corretas apenas:

- (A) I, II e III.
- (B) I, II e IV.
- (C) I, IV e V.
- (D) II, III e IV.
- (E) II, III e V.

Questão 39

“Finalmente, depois de muito tempo confinados às esferas técnicas e acadêmicas, no âmbito dos órgãos de Planejamento Público e universidades, os Indicadores Sociais passaram a integrar o vocabulário corrente dos agentes políticos responsáveis, em última instância, pela definição das prioridades das políticas sociais e alocação dos recursos públicos. Os Indicadores Sociais deixaram de figurar apenas nos diagnósticos e relatórios governamentais ganhando um papel mais relevante nas arenas de discussão político-social da sociedade brasileira nesta virada de século”.

(JANUZZI, P. Indicadores sociais no Brasil: conceitos, fonte de dados e aplicações. São Paulo: Alínea, 2006.)

Com base no texto, em seus conhecimentos sobre Indicadores Sociais e, reconhecendo a importância destes para o entendimento da realidade brasileira, identifique a que indicador se referem as definições a seguir.

_____ : estabelece os parâmetros básicos para dimensionamento da população futura, consumidora de bens e serviços – públicos e privados – e dos públicos-alvo das políticas sociais.

_____ : é calculada como uma função da razão entre os quantitativos populacionais em dois momentos (t_0 e t_1), e é expressa em termos de % ao ano.

_____ : mede a parcela da população nacional ou regional que reside em áreas urbanas, e portanto, em tese, com maior acessibilidade aos bens públicos, serviços básicos de infraestrutura urbana e serviços sociais.

_____ : tem sido empregada tradicionalmente como um indicador social representativo das condições gerais de vida ou saúde prevalentes em uma região ou segmento populacional.

_____ : número médio de anos que se espera que um recém-nascido possa viver em uma dada sociedade, considerando as probabilidades de sobrevivência registradas no momento presente para cada faixa etária.

_____ : corresponde ao coeficiente da PEA pela PIA, isto é, à proporção de indivíduos ocupados ou que buscam trabalho dentre a mão-de-obra potencialmente disponível para a atividade econômica.

Assinale a alternativa que corresponde a esses indicadores, na ordem em que aparecem:

- (A) Taxa de Crescimento Demográfico; Taxa de Natalidade; Taxa de Urbanização; Esperança de Vida ao Nascer; Taxa de Mortalidade Infantil; Taxa de Participação.
- (B) Taxa de Natalidade; Taxa de Crescimento Demográfico; Taxa de Acessibilidade Urbana; Taxa de Mortalidade Infantil; Esperança de Vida ao Nascer; Taxa de Desemprego.
- (C) Taxa de Natalidade; Taxa de Crescimento Demográfico; Taxa de Urbanização; Taxa de Mortalidade Infantil; Esperança de Vida ao Nascer; Taxa de Participação.

- (D) Taxa de Crescimento Demográfico; Taxa de Natalidade; Taxa de Acessibilidade Urbana; Esperança de Vida ao Nascer; Taxa de Mortalidade Infantil; Taxa de Desemprego.
- (E) Taxa de Crescimento Vegetativo; Taxa de Crescimento Demográfico; Taxa de Acessibilidade Urbana; Taxa de Mortalidade Juvenil; Esperança de Vida ao Nascer; Taxa de Participação.

Questão 40

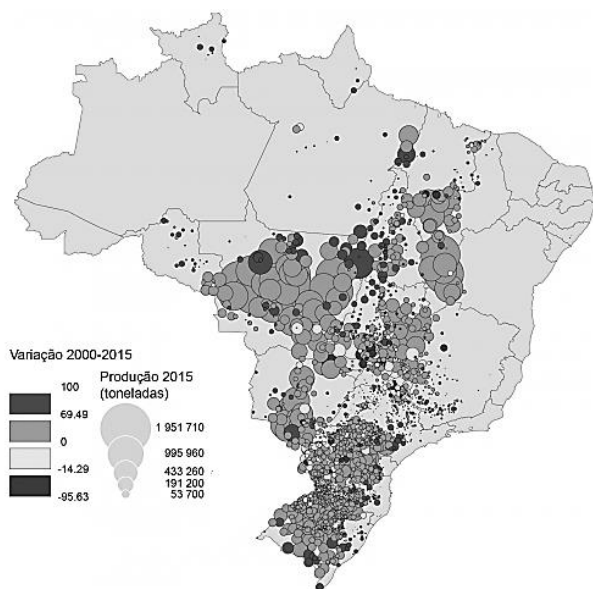
Bioma é uma unidade biológica ou espaço geográfico cujas características específicas são definidas pelo macroclima, a fitofisionomia, o solo e a altitude, dentre outros critérios. No Brasil, atualmente são classificados 6 (seis) biomas, que são:

- (A) Bioma Equatorial; Bioma Caatinga; Bioma Cerrado; Bioma Pantanal; Bioma Mata Atlântica; Bioma Pampa.
- (B) Bioma Amazônia; Bioma Caatinga; Bioma Cerrado; Bioma Pantanal; Bioma Mata Atlântica; Bioma Pampa.
- (C) Bioma Equatorial; Bioma Caatinga; Bioma Cerrado; Bioma Subtropical; Bioma Tropical; Bioma Pampa.
- (D) Bioma Amazônia; Bioma Caatinga; Bioma Cerrado; Bioma Subtropical; Bioma Tropical; Bioma Pampa.
- (E) Bioma Amazônia; Bioma Caatinga; Bioma Cerrado; Bioma Pantanal; Bioma Litorâneo; Bioma Pampa.

Questão 41

Como pode ser observado no mapa a seguir, o cultivo da soja nos últimos anos espalhou-se definitivamente para o Centro-Oeste e parte do Nordeste brasileiro. Atualmente ocupa uma área seis vezes superior a países como Holanda, Bélgica e Dinamarca. O país, ao lado dos Estados Unidos, é um dos maiores exportadores de soja e vêm tentando ultrapassar os americanos na produção, vendendo boa quantidade de sua safra ao mercado chinês. A cultura da soja atualmente ocupa uma área aproximadamente de 34 milhões de hectares e têm por produção uma estimativa de 113 milhões de toneladas (EMBRAPA, 2017). Tendo em vista o significativo avanço da produção de soja no Brasil, pode-se concluir que uma das principais consequências socioespaciais desta cultura agrícola têm sido:

Mapa 1 – Produção da soja no Brasil

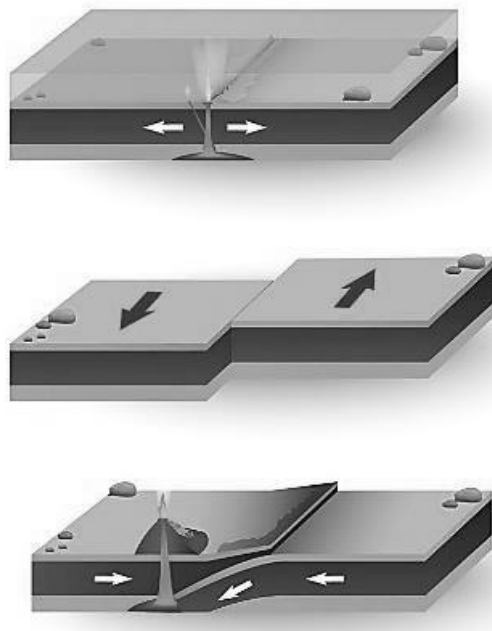


Fonte: IBGE, 2015

- (A) democratização da estrutura fundiária pelo interior do país.
- (B) ampliação de reservas florestais nas áreas do Centro-Oeste.
- (C) expansão da fronteira agrícola sobre as áreas do Cerrado.
- (D) aumento das vagas de emprego no setor rural brasileiro.
- (E) diminuição dos latifúndios improdutivos no território nacional.

Questão 42

A figura a seguir representa os tipos de movimentos de placas tectônicas existentes.



- 1. Limites Divergentes
- 2. Limites Convergentes
- 3. Limites Conservativos

A – Marcados pelas dorsais meso-oceânicas, onde as placas tectônicas afastam-se uma da outra, com a formação de nova crosta oceânica.

B – Onde as placas tectônicas colidem, com a mais densa mergulhando sob a outra, gerando uma zona de intenso magmatismo a partir de processos de fusão parcial da crosta que mergulhou. Nesses limites ocorrem fossas e províncias vulcânicas, a exemplo da Placa Pacífica.

C – Onde as placas tectônicas deslizam lateralmente uma em relação à outra, sem destruição ou geração de crostas, ao longo de fraturas denominadas Falhas Transformantes. Como exemplo de limite conservativo temos a Falha de San Andreas, na América do Norte.

Com base na figura e em seus conhecimentos sobre o assunto, associe os tipos de limites que podem ocorrer entre as placas tectônicas (1, 2, 3) às suas corretas definições (A, B e C):

- (A) 1-C; 2-B; 3-A.
- (B) 1-C; 2-A; 3-B.
- (C) 1-B; 2-A; 3-C.
- (D) 1-A; 2-C; 3-B.
- (E) 1-A; 2-B; 3-C.

Questão 43

O geógrafo Rogério Haesbaert (2013) compreende que o século XXI provavelmente evidenciará um novo período, ainda não muito claro, da força da contradição da globalização em termos de suas dimensões e de seu alcance, aflorando com mais ênfase a dissociação entre sua efetivação material (especialmente em termos tecnocológicos), seu reconhecimento no campo da cultura (com a ausência ou dificuldade de um consenso simbólico-cultural mais amplo) e sua necessidade (mas também ausência) no nível jurídico-político. Trata-se de uma verdadeira encruzilhada, em que são gestadas novas alternativas, entrelaçando alguns dilemas básicos, tais como:

- (A) I – a problemática ecológica, especialmente o aquecimento global; II – o jogo entre o revigorar de identidades culturais fragmentadoras e; III – as disputas políticas entre Estados nações.
- (B) I – a problemática social, especialmente a migração de pessoas; II – o jogo entre o revigorar de identidades culturais fragmentadoras e; III – as disputas políticas entre EUA e China.
- (C) I – a problemática econômica, especialmente a especulação financeira; II – o jogo entre o revigorar de identidades sociais homogêneas e; III – as disputas políticas entre EUA e China.
- (D) I – a problemática ecológica, especialmente o aquecimento global; II – o jogo entre o revigorar de identidades sociais homogêneas e; III – as disputas políticas entre EUA e China.
- (E) I – a problemática econômica, especialmente a especulação financeira; II – o jogo entre o revigorar de identidades sociais homogêneas e; III – as disputas políticas entre Estados nações.

Questão 44

“Trabalhar com geoinformação significa, antes de mais nada, utilizar computadores como instrumentos de representação de dados espacialmente referenciados. Deste modo, o problema fundamental da Ciência da Geoinformação é o estudo e a implementação de diferentes formas de representação computacional do espaço geográfico.”

(CÂMARA, G.; DAVIS, C.; MONTEIRO, A. M. V. (Ed.). Introdução à ciência da geoinformação. São José dos Campos: INPE, 2001. p. 5. (INPE-8562-PRE/4306)).

A respeito da aplicabilidade do Geoprocessamento e dos Sistemas de Informação Geográfica (SIG) e, considerando a reflexão colocada por Câmara (2001) e seus conhecimentos sobre o assunto, analise as potenciais utilizações expostas nas alternativas a seguir:

- I. Um sociólogo pode usar um SIG para entender e quantificar o fenômeno da exclusão social numa grande cidade brasileira.
- II. Um ecólogo pode usar o SIG com o objetivo de compreender os remanescentes florestais da Mata Atlântica, através do conceito de fragmento típico de Ecologia da Paisagem.
- III. Um geólogo pode usar um SIG para determinar a distribuição de um mineral numa área de prospecção, a partir de um conjunto de amostras de campo.
- IV. Um geógrafo pode usar um SIG para entender o padrão de distribuição espacial da população de uma determinada região metropolitana brasileira.

Estão corretas:

- (A) I, II e III.
- (B) I, II e IV.
- (C) II, III e IV.
- (D) I, III e IV.
- (E) I, II, III e IV.

Questão 45

A matriz energética mundial e a matriz energética brasileira apresentam significativas diferenças, como pode ser visto na figura a seguir.

Figura 1- Matriz energética mundial

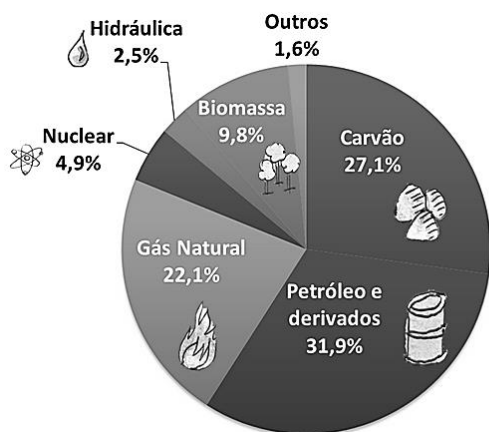
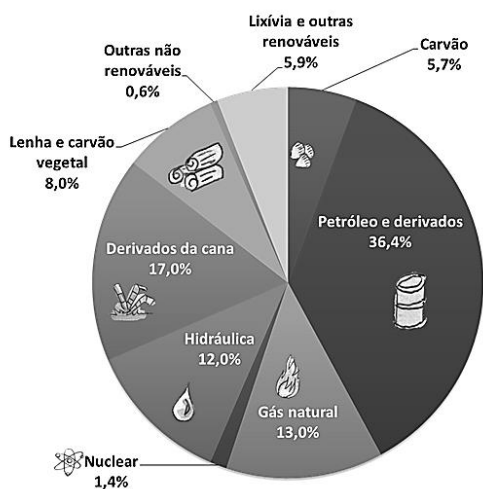


Figura 2 – Matriz energética brasileira



Fonte: EPE, 2018.

Tendo essas diferenças como parâmetros interpretativos e, baseando-se em seus conhecimentos, identifique os itens certos e os itens errados, sobre as afirmações expostas.

- () O Brasil, de certa forma, não apresenta dependência estratégica de fontes fósseis de energia, ao contrário do resto do mundo.
- () O incentivo em relação à energia de biomassa é definitivamente um potencial pouco explorado nas recentes gestões governamentais brasileiras.
- () O petróleo é uma *commodity* em franca decadência no mundo e no Brasil.

() O investimento em energia nuclear deveria ser uma prioridade na agenda política brasileira para favorecer ainda mais a nossa matriz energética.

Assinale a alternativa correspondente à sequência correta:

- (A) errado, certo, errado, certo.
- (B) errado, errado, certo, errado.
- (C) certo, errado, certo, errado.
- (D) errado, certo, errado, errado.
- (E) errado, errado, errado, errado.

Questão 46

Trata-se de um dos esteios fundamentais que solda a cadeia de produção das grandes empresas. Pode ser realizada tanto do ponto de vista interno quanto internacionalmente. As empresas que optaram por esta iniciativa argumentam que ela possibilita às firmas concentrar-se mais especificamente em suas atividades-fim, deixando as atividades-meio para os demais empregados. Este tipo de processo daria uma nova dinâmica à empresa, que agora estaria voltada para uma atividade específica em que possui experiência, enquanto os trabalhadores estariam operando em atividades específicas, já que são especialistas nas áreas que atuam.

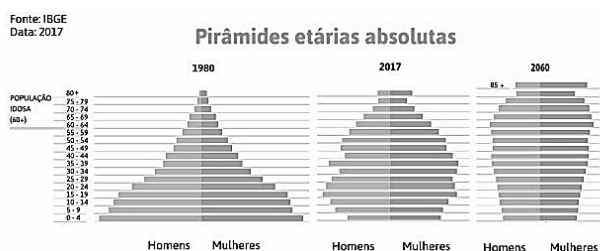
(COSTA, E. A globalização e capitalismo contemporâneo. São Paulo: Expressão Popular, 2008.)

O texto refere-se ao conceito de:

- (A) Privatização.
- (B) Judicialização.
- (C) Estatização.
- (D) Terceirização.
- (E) Flexibilização.

Questão 47

A figura a seguir revela a estrutura etária brasileira, segundo dados do Instituto Brasileiro de Geografia e Estatística (IBGE) e a partir da construção de pirâmides etárias absolutas. Analisando os gráficos, observamos uma tendência de ampliação do número de pessoas idosas (com 60 anos ou mais), alterando o formato da pirâmide etária em relação ao ano de 1980, com alargamento do topo e estreitamento da base. A estimativa do IBGE é de que em 2060, aproximadamente 1/3 da população brasileira será de pessoas idosas. Sendo assim, torna-se necessário pensar em estratégias para promover um envelhecimento ativo, saudável, cidadão e sustentável da população brasileira. Nesse sentido, foi instituída a Estratégia Brasil Amigo da Pessoa Idosa, por meio do Decreto nº 9.328, de 3 de abril de 2018.



- I. Oferta de oportunidades para a convivência das pessoas idosas com pessoas de diferentes idades, como forma de evitar o isolamento social.
- II. Ambientes físicos e relacionais mais favoráveis ao envelhecimento, livres de barreiras arquitetônicas e urbanísticas e de discriminação por idade.
- III. Combate ao abuso financeiro, psicológico ou físico e à violência contra a pessoa idosa.
- IV. Eliminação da perda de autonomia e de dependência.
- V. Erradicação de fragilidades e doenças crônicas, alcançada por ações de promoção da saúde e do bem-estar;
- VI. Superação total de vulnerabilidades e de desigualdades sociais.

Baseando-se nessa estratégia, assinale a seguir a alternativa que apresenta apenas os resultados esperados por ela:

- (A) I, II e III.
- (B) I, IV e V.
- (C) II, III e IV.
- (D) II, IV e V.
- (E) I, III e IV.

Questão 48

Em 2006, o Brasil, inspirado no trabalho conhecido como Projeto FAO/Incra, passou a caracterizar o universo da agricultura familiar como aquele integrado pelos estabelecimentos que atendiam, simultaneamente, às seguintes condições: a) a direção dos trabalhos do estabelecimento deveria ser exercida pelo produtor; b) o trabalho familiar deveria ser superior ao trabalho contratado e; c) os estabelecimentos não poderiam ter área superior a uma área máxima regional, estabelecida em quinze módulos fiscais. Do ponto de vista legal, os requisitos que estabelecem transformações recentes no espaço agrário, se caracterizam em 4 pontos, que são:

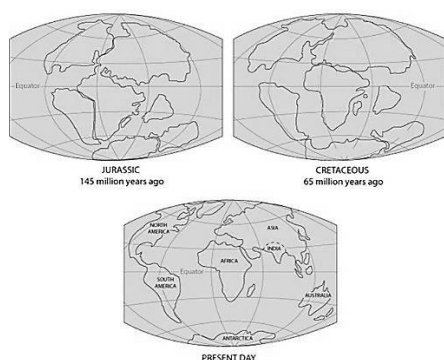
- (A) 1 – não deter área maior que quatro módulos fiscais; 2 – utilizar predominantemente mão de obra da própria família; 3 – ter a renda familiar predominantemente originada de atividades vinculadas ao próprio estabelecimento; 4 – ser o estabelecimento dirigido pelo agricultor com supervisão da secretaria de agricultura local.
- (B) 1 – não deter área maior que quinze módulos fiscais; 2 – utilizar cinquenta por cento da mão de obra da própria família; 3 – ter a renda familiar predominantemente originada de atividades vinculadas ao próprio estabelecimento; 4 – ser o estabelecimento dirigido pelo agricultor com sua família.
- (C) 1 – não deter área maior que três módulos fiscais; 2 – não utilizar da mão de obra da própria família; 3 – ter a renda familiar predominantemente originada de políticas sociais; 4 – ser o estabelecimento dirigido por cooperativas de trabalhadores rurais.
- (D) 1 – não deter área maior que quatro módulos fiscais; 2 – utilizar cinquenta por cento da mão de obra da própria família; 3 – ter a renda familiar predominantemente originada de políticas sociais; 4 – ser o estabelecimento dirigido pelo agricultor com supervisão da secretaria de agricultura local.
- (E) 1 – não deter área maior que quatro módulos fiscais; 2 – utilizar predominantemente mão de obra da própria família; 3 – ter a renda familiar predominantemente originada de atividades vinculadas ao próprio estabelecimento; 4 – ser o estabelecimento dirigido pelo agricultor com sua família.

Questão 49

“A constatação da existência das placas tectônicas deu uma nova roupagem às antigas ideias da Deriva Continental, explicando satisfatoriamente muitas das grandes feições geológicas da Terra, como as grandes cordilheiras de montanhas, como os Andes, e respondendo a questões, por exemplo, sobre as concentrações dos sismos e vulcões atuais ou sobre as rochas que já estiveram no fundo dos oceanos e estão hoje no topo de grandes cadeias montanhosas, como nos Himalaias”.

(TASSINARI, C. C. G. et al. Tectônica Global. In: Decifrando a Terra. São Paulo: Oficina de Textos, 2000. 2ª reimpressão, 2003)

Com base nesta reflexão, na figura a seguir e em seus conhecimentos sobre a teoria da tectônica de placas, identifique os itens certos e os itens errados



() Zonas de convecção são locais onde a crosta oceânica mais densa mergulha para o interior da Terra até atingir condições de pressão e temperatura suficientes para sofrer fusão e ser incorporada novamente ao manto.

() A teoria da Tectônica de Placas nasceu quando surgiram os primeiros mapas das linhas das crostas atlânticas da América do Sul e da África. Em 1620, Francis Bacon, filósofo inglês, apontou o perfeito encaixe entre estas duas costas e levantou a hipótese de que estes continentes estiveram unidos no passado.

() As evidências mais impressionantes da existência de um supercontinente interligado foram a presença de fósseis de Glossopteris em regiões da África e Brasil, cujas evidências se correlacionavam perfeitamente, ao se juntarem os continentes e evidências de glaciação, há aproximadamente 300 Ma.

() O supercontinente Pangea teria iniciado a sua fragmentação dividindo-se em dois continentes, sendo o setentrional chamado de Laurásia e a austral de Gondwana.

A alternativa que apresenta a sequência adequada é:

- (A) errado; certo; errado; certo.
- (B) errado; certo; errado; errado.
- (C) certo; certo; certo; certo.
- (D) errado; errado; errado; certo.
- (E) errado; certo; certo; certo.

Questão 50

A concepção de um mapa é um processo criativo durante o qual o cartógrafo, ou o criador do mapa, tenta transmitir a mensagem do objetivo do mapa. Os principais objetivos na concepção de mapas são compartilhar informações, destacar padrões e processos e ilustrar os resultados. Nesse sentido, as afirmativas a seguir apresentam alguns controles que, segundo Robinson et. al. (1993), podem ser definidos sobre o processo de concepção dos mapas. Assinale a única alternativa INCORRETA:

- (A) independente do público-alvo, os padrões de concepção dos mapas devem seguir as mesmas regras de elaboração e apresentação.
- (B) o propósito para o qual um mapa está sendo feito irá determinar o que deve ser mapeado e como as informações devem ser retratadas.
- (C) os fenômenos que estão sendo mapeados normalmente impõem algumas restrições à concepção do mapa (por exemplo a orientação do país leste-oeste ou norte-sul determina o arranjo no mapa).
- (D) as características específicas dos dados (por exemplo ponto, linha, polígono) irão afetar a concepção do mapa.
- (E) a escala vai controlar a qualidade dos dados que podem aparecer no mapa e o tamanho dos símbolos.

DISCURSIVA

Você deverá escolher uma das propostas para fazer a sua Prova Discursiva.

Questão 1

Proposta 1 (Legislação Educacional)

Textos:

Art. 1º É aprovado o Plano Municipal de Educação - PME, com vigência pelo prazo de 10 (dez) anos, a contar da data de publicação desta Lei, na forma do Anexo Único, com vistas ao cumprimento do disposto no art. 214 da Constituição Federal e da Lei Federal e no art. 215 da Lei Orgânica Municipal, assim como na Lei Federal nº 13.005, de 25 de junho de 2014.

(...)

Art. 7º O Município atuará em regime de colaboração, com a União e o Estado, visando ao alcance das metas e à implementação das estratégias objeto deste Plano.

(...)

Meta 2: universalizar o ensino fundamental de 9 (nove) anos para toda a população de 6 (seis) a 14 (quatorze) anos e garantir que pelo menos 95% (noventa e cinco por cento) dos alunos concluam essa etapa na idade recomendada, até o último ano de vigência deste PME.

Lei Municipal nº 5629/2015, Vila Velha, ES

“O Ensino Fundamental com nove anos de duração, de matrícula obrigatória para as crianças a partir dos 06 anos de idade, tem duas fases sequentes com características próprias, chamadas de anos iniciais, com cinco anos de duração, em regra para estudantes de 06 a 10 anos de idade; e anos finais, com quatro anos de duração, para os de 11 a 14 anos.

Os objetivos deste nível de ensino intensificam-se, gradativamente, no processo educativo, mediante o desenvolvimento da capacidade de aprender - tendo como meios básicos o pleno domínio da leitura, da escrita e do cálculo - , e a compreensão do ambiente natural e social, do sistema político, da economia, da tecnologia, das artes, da cultura e dos valores em que se fundamenta a sociedade, entre outros”.

<http://www.educadores.diaadia.pr.gov.br/modules/conteudo/conteudo.php?conteudo=767>

Três novas unidades serão inauguradas já a partir do início do próximo ano: as Umeis de Alecrim e Praia das Gaivotas; e a nova Umef Gil Bernardes, localizada em Alvorada. As escolas estão sendo construídas com recursos próprios da Prefeitura de Vila Velha, que está edificando, também, outras seis Umeis: Ulisses Guimarães, Jabaeté, São Conrado, Jaburuna, Centro (Sítio Batalha) e São Torquato.

<http://www.vilavelha.es.gov.br/noticias/2019/12/calendario-2020-inicio-das-aulas-na-rede-municipal-marcado-para-5-de-fevereiro-27942>

Após ler os textos motivadores e focalizar a Lei Municipal nº 5629/2015, produza um texto dissertativo sobre o tema:

Estratégias para a consecução da meta 2, de universalização e conclusão do ensino fundamental no Município de Vila Velha.

- Você deverá analisar pelo menos três estratégias.
- Seu texto não deverá conter fragmentos dos textos motivadores.
- Seu texto deverá ter de 25 a 30 linhas e deverá ser redigido na modalidade padrão da Língua Portuguesa.
- Apresente exemplos, citações, utilizando conhecimentos adquiridos com seu estudo.

Proposta 2 (Conhecimentos Pedagógicos)

Textos

“Diferentes categorias de trabalho, particularmente aquelas que envolvem o trabalho mecânico repetitivo e o trabalho manual de precisão, já estão sendo automatizadas. Outras categorias seguirão o mesmo caminho, enquanto a capacidade de processamento continuar a crescer exponencialmente. Antes do previsto pela maioria, o trabalho de diversos profissionais diferentes poderá ser parcial ou completamente automatizado, a saber, advogados, analistas financeiros, médicos, jornalistas, contadores, corretor de seguros ou bibliotecários”.

Schwab, Klaus. A quarta revolução industrial. 1ed. São Paulo: Edipro. 2016

“Muitas pessoas estão compreendendo que não podemos voltar atrás no progresso tecnológico. Então eu acredito que precisamos educar nossas crianças para que elas aprendam a ler profundamente em papel, mas que sejam ensinadas a ler conscientemente em telas com o máximo de propósito. Eu creio que possamos fazer isso. E acredito que há aspectos da tela que sejam muito benéficos. Trabalho com dislexia, e é maravilhoso que algumas de nossas crianças disléxicas possam usar as características das telas para ajudá-las a ler, aumentando as fontes ou o espaçamento entre as palavras. Há também empresas de tecnologia que estão tentando usar o conhecimento de pessoas como eu para aprimorar suas telas. Todos nós estamos em um momento de transição. Se eu puder aconselhar as pessoas, diria para ler o máximo possível em papel até que surjam telas que permitam mais facilmente a leitura profunda. Independentemente do quão dominantes as telas sejam em nossas vidas, não deixe que elas sejam tudo”.

Maryanne Wolf, neurocientista americana em entrevista ao Estadão em 29/06/19.

“Ao longo da Educação Básica, as aprendizagens essenciais definidas na BNCC devem concorrer para assegurar aos estudantes o desenvolvimento de dez competências gerais, que consubstanciam, no âmbito pedagógico, os direitos de aprendizagem e desenvolvimento.

Na BNCC, competência é definida como a mobilização de conhecimentos (conceitos e procedimentos), habilidades (práticas, cognitivas e socioemocionais), atitudes e valores para resolver demandas complexas da vida cotidiana, do pleno exercício da cidadania e do mundo do trabalho”.

http://portal.mec.gov.br/index.php?option=com_docman&view=download&alias=79601-anexo-texto-bncc-reexportado-pdf-2&category_slug=dezembro-2017-pdf&Itemid=30192

Após a leitura dos textos motivadores e com base nos seus conhecimentos, produza um texto dissertativo sobre o seguinte tema:

A importância do desenvolvimento de competências e habilidades na educação de hoje.

- Seu texto deverá ter de 25 a 30 linhas e ser redigido na modalidade padrão da língua Portuguesa.
- Seu texto não deverá conter partes dos textos motivadores.
- Apresente exemplos e citações, utilizando conhecimentos de sua área específica.

1	
2	
3	
4	
5	
6	
7	
8	
9	
10	
11	
12	
13	
14	
15	
16	
17	
18	
19	
20	
21	
22	
23	
24	
25	
26	
27	
28	
29	
30	

RASCUNHO