



## COMPANHIA DE ÁGUA E ESGOTOS DO RIO GRANDE DO NORTE – CAERN

### CONTADOR

CÓDIGO DA PROVA

# S03 X

Verifique se o código da Prova é o mesmo do seu cartão de respostas.

TRANSCREVA, EM ESPAÇO DETERMINADO NO SEU CARTÃO DE RESPOSTAS, A FRASE DE TALES DE MILETO PARA EXAME GRAFOTÉCNICO

“A felicidade do corpo consiste na saúde, e a do espírito, na sabedoria.”

### ATENÇÃO:

Duração da prova: 5 horas.

Este caderno contém 50 questões de múltipla escolha, cada uma com 5 alternativas de resposta – A, B, C, D e E. Apenas uma responde corretamente à questão. Prova Discursiva e Redação.

Conhecimentos Gerais		
Disciplinas	Quantidade de questões	Valor de cada questão
- Língua Portuguesa	10	1,50
- Raciocínio Lógico Matemático	5	1,50
- Ética e Legislação na Administração Pública	5	1,50
- Informática Básica	5	1,50
- Atualidades	5	1,50
Conhecimentos Específicos		
Disciplinas	Quantidade de questões	Valor de cada questão
- Conhecimentos na área de formação	20	2,75

Verifique se este material está em ordem, caso contrário, notifique imediatamente o fiscal.

O tempo de duração da prova inclui o preenchimento do Cartão de Respostas e Folhas de Respostas.

### LEIA AS INSTRUÇÕES ABAIXO:

Siga, atentamente, a forma correta de preenchimento do Cartão de Respostas, conforme estabelecido no próprio. Não haverá substituição do Cartão de Respostas das questões objetivas e/ou das Folhas de Respostas das questões Discursivas e de Redação por erro do candidato.

Por motivo de segurança:

- O candidato só poderá retirar-se definitivamente da sala após 1 (uma) hora do início efetivo da prova
- Somente faltando 1 (uma) hora para o término da prova, o candidato poderá retirar-se levando o seu Caderno de Questões
- O candidato que optar por se retirar sem levar o seu Caderno de Questões não poderá copiar suas respostas por qualquer meio. O descumprimento dessa determinação será registrado em ata e acarretará a eliminação do candidato
- Ao terminar a prova, o candidato deverá se retirar imediatamente do local da prova, não sendo possível nem mesmo a utilização dos banheiros e/ou bebedouros.

### Informações importantes:

Ao terminar a prova, é de sua responsabilidade entregar ao fiscal o Cartão de Respostas da prova objetiva assinado, as Folhas de Respostas da Prova Discursiva e de Redação. Não se esqueça dos seus pertences.

A Prova Discursiva e de Redação deverão ser desenvolvidas nas Folhas de Respostas destinadas a essa finalidade, personalizadas e desidentificadas pelo candidato, que deverá destacar o canhoto que contém seus dados cadastrais. As Folhas da Prova Discursiva e Redação são os únicos documentos válidos para a correção.

O preenchimento das Folhas de Respostas da Prova Discursiva e de Redação será de sua inteira responsabilidade.

Os três últimos candidatos deverão permanecer na sala até que o último candidato entregue o Cartão de Respostas e as Folhas da Prova Discursiva e de Redação.

O fiscal de sala não está autorizado a alterar quaisquer dessas instruções. Em caso de dúvida, solicite a presença do coordenador local.

BOAPROVA!

**O ZELADOR DO LABIRINTO**

Tem também a história do zelador do labirinto. Todos os dias ele saía de casa cedo, com sua marmitta, e entrava no labirinto. Seu trabalho era percorrer todo o labirinto, inspecionando as paredes e o chão, vendo onde precisava um retoque, talvez uma mão de tinta, etc.

Era um homem metódico. Pela manhã, fazia a ronda do labirinto, anotando tudo que havia para ser consertado, depois saía do labirinto, almoçava, descansava um pouquinho, e entrava de novo no labirinto, agora com o material que necessitaria para seu trabalho. Quando não havia nada para ser consertado, ele apenas varria todo o labirinto e, ao anoitecer, ia para casa. Um dia, enquanto fazia a sua ronda, o zelador encontrou um grupo de pessoas apavoradas. Queriam saber como sair dali. O zelador não entendeu bem.

– Como, sair?

– A saída! Onde fica a saída?

– É por ali – apontou o zelador, achando estranha a agitação do grupo.

Mais tarde, no mesmo dia, enquanto varria um dos corredores, o zelador encontrou o mesmo grupo. Não tinham encontrado a saída. Estavam ainda mais apavorados. Alguns choravam. Alguém precisava lhes mostrar a saída! Com uma certa impaciência, o zelador começou a dar a direção. Era fácil.

– Saiam por ali e virem à esquerda. Depois à direita, depois à esquerda outra vez, direita, direita, esquerda .... – Espere! – gritou alguém. – Ponha isso num papel.

Sacudindo a cabeça com divertida resignação, o zelador pegou seu caderno de notas e toco de lápis e começou a escrever.

– Deixa eu ver. Esquerda, direita, esquerda, esquerda...

Hesitou.

– Não, direita. É isso. Direita, direita, esquerda... Ou direita outra vez?

O zelador atirou o papel e o lápis no chão como se estivesse pegando fogo. Saiu correndo, com todo o grupo atrás. Também estava apavorado. Aquilo era terrível. Ele nunca tinha se dado conta de como aquilo era terrível. Corredores davam para corredores que davam para corredores que davam numa parede. Era preciso voltar pelos mesmos corredores, mas como saber se eram os mesmos corredores? A saída! Onde fica a saída?

A administração do labirinto teve que procurar um novo zelador, depois que o desaparecimento do outro completou um mês. Podia adivinhar o que tinha acontecido. O novo zelador não devia ter muita imaginação. Era preferível que nem soubesse ler e

escrever. E em hipótese alguma devia falar com estranhos.

O Zelador do Labirinto. Revista Ícaro, 230, RMC Editora, Setembro de 2003, p. 34. Questão 01

**Questão 01**

Acrônica de Veríssimo trás a tona a ideia de que:

- A) para exercer a profissão de zelador, tem que ser analfabeto.
- B) os zeladores precisam ser mais atentos.
- C) as pessoas precisam ter mais calma para não assustar os outros.
- D) às vezes as coisas são feitas de maneira tão automática, que, quando você se depara com a reflexão de tal ato, não sabe como fazê-lo.
- E) às vezes parece que sabemos tudo, mas não sabemos de nada.

**Questão 02**

O zelador do labirinto apresenta algumas características fundamentais que são:

- A) a introspecção, a desorganização e a sabedoria.
- B) a rotina, a cordialidade e a sabedoria.
- C) a cordialidade, a desorganização e a sabedoria.
- D) a cordialidade, a agitação e a eficácia.
- E) a introspecção, a rotina e a eficácia.

**Questão 03**

“Um dia, ENQUANTO FAZIA A SUA RONDA, o zelador encontrou um grupo de pessoas apavoradas.”

No trecho acima, a oração em destaque deve ser classificada como:

- A) oração subordinada adverbial concessiva
- B) oração subordinada adverbial temporal
- C) oração subordinada adverbial final
- D) oração subordinada adverbial consecutiva
- E) oração subordinada adverbial causal

**Questão 04**

“Alguém precisava LHES mostrar a saída!”

O pronome oblíquo em destaque no trecho acima exerce a função sintática de:

- A) aposto.
- B) objeto direto.
- C) adjunto adnominal.
- D) complemento nominal.
- E) objeto indireto.

**Questão 05**

“Sacudindo a cabeça com divertida RESIGNAÇÃO (...)”

No contexto em que está inserida, a palavra em destaque estabelece a relação semântica de:

- A) conformidade.
- B) contrariedade.
- C) renúncia.
- D) submissão.
- E) aceitação.

**Questão 06**

“Corredores davam para corredores que davam para corredores que davam numa parede.”

No trecho acima, o autor faz uso de um recurso linguístico denominado RECURSIVIDADE que é caracterizado por encaixar frases em frases. Para tal recurso o autor faz uso de:

- A) orações subordinadas adverbiais finais.
- B) orações subordinadas substantivas completivas.
- C) orações subordinadas substantivas relativas.
- D) orações subordinadas adjetivas relativas.
- E) orações subordinadas adverbiais causais.

**Questão 07**

“– Saiam por ali e virem à esquerda. Depois à direita, depois à esquerda outra vez, direita, direita, esquerda ... – Espere! – gritou alguém. – Ponha isso num papel.”

No trecho, o autor faz uso corretamente do sinal indicativo de crase.

Assinale a opção que preenche, correta e respectivamente, as lacunas do período:

Para evitar \_\_\_\_\_ evasão escolar, \_\_\_\_\_ escolas não punem os alunos que faltam \_\_\_\_\_ aulas. Espera-se que daqui \_\_\_\_\_ alguns anos tudo esteja mudado.

- A) a - as - as - à
- B) à - as - as - à
- C) à - as - às - a
- D) a - as - às - a
- E) a - as - as - a

**Questão 08**

“Sacudindo a cabeça com DIVERTIDA resignação (...)”

O termo em destaque no trecho acima está sendo utilizado com sentido conotativo.

- I. Os domadores conseguiram enjaular a fera depois de muito sacrifício.
- II. Maurício ficou uma fera com a esposa depois que viu o extrato bancário.
- III. Ashkin, Mourou e Strickland são as feras da física da atualidade.

A palavra FERA das sentenças acima está sendo utilizada no seu sentido conotativo em:

- A) I e II.
- B) I.
- C) I e III.
- D) II e III.
- E) I, II e III.

**Questão 09**

“A administração do labirinto teve que procurar um novo zelador, depois que o DESAPARECIMENTO do outro completou um mês.”

A palavra em destaque passa por qual processo de formação de palavras?

- A) Derivação sufixal
- B) Derivação parassintética
- C) Derivação prefixal e sufixal
- D) Composição por justaposição
- E) Composição por aglutinação

**Questão 10**

“Era um homem metódico. Pela manhã, fazia a ronda do labirinto, anotando tudo que havia para ser consertado, depois saía do labirinto, almoçava, descansava um pouquinho, e entrava de novo no labirinto, agora com o material que necessitaria para seu trabalho.”

No trecho o autor faz uso de um recurso coesivo chamado:

- A) coesão por substituição
- B) coesão por referência
- C) coesão por repetição
- D) coesão lexical
- E) coesão por elipse

**- Raciocínio Lógico Matemático****Questão 11**

Levando em consideração as matrizes A, B e C abaixo, marque a alternativa que expresse o valor da expressão  $(A+B) \cdot C$

$$A = \begin{bmatrix} 1 & 2 \\ 3 & 4 \end{bmatrix} \quad B = \begin{bmatrix} 1 & 0 \\ 0 & 1 \end{bmatrix} \quad C = \begin{bmatrix} 1 & 0 \\ 0 & 1 \end{bmatrix}$$

- A)  $\begin{bmatrix} 2 & 2 \\ 3 & 5 \end{bmatrix}$
- B)  $\begin{bmatrix} 1 & 0 \\ 3 & 4 \end{bmatrix}$
- C)  $\begin{bmatrix} 1 & 2 \\ 3 & 4 \end{bmatrix}$
- D)  $\begin{bmatrix} 0 & 1 \\ 1 & 0 \end{bmatrix}$
- E)  $\begin{bmatrix} 1 & 0 \\ 0 & 1 \end{bmatrix}$

**Questão 12**

Marque a alternativa que apresente a soma dos 10 termos da progressão  $3, \frac{3}{2}, \frac{3}{4}, \dots$

- A)  $1024/3$
- B)  $1023/1024$
- C)  $512/3$
- D)  $3/1024$
- E)  $3069/512$

**Questão 13**

Em um trabalho, os funcionários foram identificados por letras de A até H em sequência, segundo o alfabeto da língua portuguesa. Os funcionários deveriam ser agrupados de forma que os grupos contenham 2 componentes. Marque a alternativa que apresente de quantas formas distintas pode-se formar os grupos de maneira que não tenham duas letras consecutivas.

- A) 35
- B) 28
- C) 21
- D) 49
- E) 42

**Questão 14**

Neto está em dúvida sobre qual loja comprará um carro novo, sendo a probabilidade de comprar o carro na loja A de 35% e de 50% na loja B. Neto terá dinheiro para comprar somente um carro e existe a probabilidade de não comprar o carro em uma das duas lojas. Qual é a probabilidade do carro ser comprado em pelo menos uma das lojas?

- A) 40%
- B) 60%
- C) 20%
- D) 30%
- E) 50%

**Questão 15**

Em uma empresa, foram coletados os dados de compra de seus produtos em um supermercado. O resultado da pesquisa é mostrado na tabela abaixo:

Produtos	Número de vendas
A	10
B	4
C	15
D	7
E	9

Com relação aos dados, pode-se afirmar que a média, variância e desvio padrão são apresentados na alternativa:

- A) 8,00 , 20,00 e 4,00
- B) 8,00 , 21,58 e 4,00
- C) 8,10 , 20,00 e 4,00
- D) 8,50 , 21,58 e 4,64
- E) 8,75 , 21,58 e 4,64

**- Ética e Legislação na Administração Pública****Questão 16**

Acerca da Lei nº 8.429/1992, assinale a assertiva correta sobre a improbidade administrativa.

- A) Os atos de improbidade praticados por servidor, ou não, contra a administração pública deverão ser punidos perante a lei.
- B) As disposições desta lei não abrangem os que não são agentes públicos.
- C) Ocorrerá lesão ao erário público quando o agente por ação dolosa desviar valores ao seu patrimônio pessoal, não cabendo assim a punibilidade da forma culposa perante esta lei.
- D) No caso de enriquecimento ilícito, somente o agente público perderá os benefícios ou valores acrescidos ao seu patrimônio.
- E) Ao sucessor que causar lesão ao patrimônio público, não estará sujeito as penalidades desta lei.

**Questão 17**

Segundo o Decreto nº 1.171/1994, os servidores públicos possuem deveres a serem cumpridos no exercício da sua função. Acerca do tema, pode-se afirmar que:

- A) ser probo, reto, leal e justo, demonstrando toda a integridade do seu caráter, escolhendo, quando puder, a melhor e a mais vantajosa opção para o bem comum.
- B) resistir, nas situações determinadas, as pressões de superiores hierárquicos, de contratantes, interessados e outros que visem obter quaisquer favores, benesses ou vantagens indevidas em decorrência de ações imorais, ilegais ou aéticas e denunciá-las.
- C) facilitar a fiscalização de todos atos ou serviços por quem de direito.
- D) comunicar imediatamente a seus superiores todo e qualquer ato ou fato contrário ao interesse público exigindo, se possível, as providências cabíveis.
- E) ter respeito à hierarquia, sem nenhum temor de representar contra qualquer comprometimento indevido da estrutura em que se funda o Poder Estatal.

**Questão 18**

Os serviços públicos que visam o abastecimento de água e sua distribuição possuem status de natureza essencial para a população. Sendo assim, assinale abaixo a assertiva correta na qual é permitido, segundo a lei, a sua interrupção.

- A) Nas situações onde são atingidas a segurança de pessoas e bens, especialmente as de caráter emergencial e as que colocam em risco a saúde da população ou de trabalhadores dos serviços de saneamento básico.
- B) Na manipulação devida ou indevida por parte do usuário, da ligação predial, inclusive medidor, ou qualquer outro componente da rede pública.
- C) Quando o usuário permite a instalação de dispositivo de leitura de água consumida.
- D) Quando ocorrer o inadimplemento pelo usuário do pagamento indevido pela prestação do serviço de abastecimento de água.
- E) Na necessidade de efetuar reparos, modificações ou melhorias nos sistemas por meio de interrupções não programadas.

**Questão 19**

Poderá haver, de acordo com a lei, a contratação direta nas licitações públicas quando houver inviabilidade de competição. Sobre o tema, assinale a assertiva correta que demonstra a necessidade de se utilizar esta forma de contratação.


- A) Quando houver necessidade de aquisição de materiais, equipamentos ou gêneros podendo ser fornecidos por produtor, empresa ou representante comercial com mais conhecimento no mercado.
- B) Quando houver necessidade de treinamento e aperfeiçoamento de pessoal, sem que haja nenhuma justificativa de preço.
- C) Quando houver necessidade de restauração de obras de arte e bens de valor histórico, mesmo que haja sobrepreço ou superfaturamento comprovados.
- D) Quando houver necessidade de contratação de serviços técnicos especializados, com profissionais ou empresas de notória especialização, sendo permitida a inexigibilidade para serviços de publicidade e divulgação.
- E) Quando houver necessidade de estudos técnicos, planejamentos e projetos básicos ou executivos, vedada a inexigibilidade para serviços de publicidade e divulgação.

**Questão 20**

Nas prestações de serviços de saneamento básico, deverá o Estado seguir um planejamento adequado para que o mesmo se realize de forma mais eficiente. Segundo a Lei nº 11.445/2007, assinale a assertiva correta.

- A) Realizar o diagnóstico da situação e de seus impactos nas condições de vida, utilizando indicadores sem que haja necessidade de apontar as deficiências encontradas.
- B) Observar os mecanismos e procedimentos para a avaliação sistemática da eficiência e eficácia das ações não programadas.
- C) Se ater nos objetivos e metas de curto prazo para a universalização do serviço.
- D) Revisar periodicamente os planos de saneamento básico, em prazo não superior a 4 (quatro) anos, anteriormente à elaboração do Plano Plurianual.
- E) Realizar programas, projetos e ações necessárias para atingir os objetivos e as metas, ainda que ultrapassem os limites dos planos governamentais visto ser serviço de natureza essencial.











**- Informática Básica****Questão 21**

Um funcionário de nível superior da Companhia de Águas e Esgotos do Rio Grande do Norte está operando um microcomputador com Windows 10 BR, acessando o site da CAERN por meio do browser Firefox Mozilla. Para realizar o acesso à Área de Trabalho, ele deve executar um atalho de teclado, que corresponde a pressionar duas teclas em sequência, a primeira  e a segunda

- A) D.
- B) T.
- C) S.
- D) A.
- E) B.

**Questão 22**

No editor Writer do aplicativo BOffice/LibreOffice 6.0, para aplicar subscrito e alterar a cor da fonte na digitação de um texto, deve-se acionar, respectivamente, os ícones:

- A)  e 
- B)  e 
- C)  e 
- D)  e 
- E)  e 

**Questão 23**

A planilha abaixo foi criada no Excel 2016 BR.

	A	B	C
1	 <b>caern</b> COMPANHIA DE ÁGUAS E ESGOTOS DO RN		
2			
3			
4			
5			
6			
7			
8			
	UNID	REGIÃO	TELEFONE
10	RN1	NATAL	32321234
11	RN2	MACAIBA	32322345
12	RN3	PARNAMIRIM	32323456
13	RN4	ANGICOS	32324567
14	RN5	BARAUNA	32325678
15			
16	PESQUISA ----->>>		?

Na planilha foi inserida a expressão =PROCV(A13;A10:C14;2;0) em C16. Como resultado, o valor mostrado em C16 é:

- A) RN2.  
B) RN4.  
C) ANGICOS.  
D) MACAIBA.  
E) 32324567.

**Questão 24**

No Firefox Mozilla v62, a execução de um atalho de teclado resulta na exibição na tela de uma janela de diálogo que se refere à biblioteca e ao painel do gerenciador de downloads desse browser. Além disso, o acionamento de uma tecla de função permite a visualização das páginas na modalidade tela cheia. O atalho de teclado e a tecla de função são, respectivamente:

- A) Ctrl+J e F12.  
B) Ctrl+D e F10.  
C) Ctrl+D e F11.  
D) Ctrl+J e F11.  
E) Ctrl+J e F10.

**Questão 25**

No que diz respeito à segurança da internet, um termo é usado para se referir aos e-mails não solicitados, que geralmente são enviados para um grande número de pessoas. Em alguns pontos, assemelha-se a outras formas de propaganda, como a carta colocada na caixa de correio, o panfleto recebido na esquina e a ligação telefônica ofertando produtos. Esse termo é conhecido por:

- A) trojan.  
B) spam.  
C) cookie.  
D) hoax.  
E) spyware.

**- Atualidades**

**Questão 26**

O MERCOSUL é um bloco econômico formado por países da América do Sul que alavancou o comércio regional nas últimas décadas. Oficializado na década de 90 do século XX, o bloco contava com quatro membros, signatários do Tratado de Assunção. Atualmente existem outros países membros, sendo que o país que atualmente se encontra suspenso por violação da “Cláusula Democrática do bloco” é:

- A) Peru.
- B) Argentina.
- C) Colômbia.
- D) Venezuela.
- E) Uruguai.

**Questão 27**

Uma forte crise econômica vem assolando significativa quantidade de países desde a crise de 2008/2009. Nos últimos anos, o Brasil sentiu de maneira mais efetiva os efeitos da crise econômica gerando uma série de medidas econômicas e políticas. Ao longo do ano de 2018, o COPOM (Comitê de Políticas Monetárias) vem promovendo ações de equalização da política econômica brasileira. A principal ação tomada sistematicamente, ao longo de 2018, pelo COPOM foi:

- A) mudança nos indicadores da inflação.
- B) promoção da oferta de empregos com carteira assinada.
- C) diminuição da taxa básica de juros – SELIC.
- D) aumento da renda per capita na região nordeste.
- E) proibição do trabalho informal no setor de serviços.

**Questão 28**

O ano de 2018 é marcado também pelas eleições em escalas nacional e estadual. São escolhidos presidente da república, governadores, senadores, deputados estaduais e federais. O número de deputados federais eleitos pelo estado do Rio Grande do Norte é de:

- A) 3.
- B) 12.
- C) 8.
- D) 35.
- E) 20.

**Questão 29**

A balança comercial é um fator importante na economia brasileira. O Brasil, como grande exportador de diferentes produtos, possui cerca de 50% das exportações destinadas a 4 países ao longo de 2017 e início de 2018. Entre os principais parceiros comerciais do Brasil encontram-se:

- A) África do Sul e Reino Unido.
- B) Uruguai e França.
- C) China e Estados Unidos.
- D) Argentina e Austrália.
- E) Canadá e Portugal.

**Questão 30**

O ano de 2018 foi marcado na questão da segurança nacional pela intervenção federal em uma das unidades da federação que, na previsão inicial, ocorrerá até dezembro de 2018. A unidade da federação onde ocorre tal intervenção é:

- A) Rio Grande do Norte.
- B) Amapá.
- C) Ceará.
- D) Rio de Janeiro.
- E) Mato Grosso do Sul.

## CONHECIMENTOS ESPECÍFICOS

### - Conhecimentos na Área de Formação

#### Questão 31

A Lei nº 11.638/2007 teve como um de seus principais objetivos, promover a convergência da contabilidade brasileira ao padrão internacional, bem como se notabilizou pela incorporação das Sociedades de Grande Porte. Uma das alternativas abaixo apresenta um indicador, relacionado ao exercício financeiro anterior, que corresponde a uma característica instituída para esse tipo de sociedade.

- A) Receita Bruta superior a R\$ 200 milhões.
- B) Patrimônio Líquido superior a R\$ 300 milhões.
- C) Ativo Total superior a R\$ 300 milhões.
- D) Ativo Total superior a R\$ 240 milhões
- E) Patrimônio Líquido superior a R\$ 200 milhões.

#### Questão 32

Identifique a alternativa, que de acordo com a NBC TG – Estrutura Conceitual, apresenta como se configura a relevância de uma informação contábil.

- A) Através de sua compreensibilidade e natureza.
- B) Através de sua natureza e comparabilidade.
- C) Pela sua natureza e materialidade.
- D) Pela sua compreensibilidade e materialidade.
- E) Em função de sua materialidade e tempestividade.

#### Questão 33

A equação patrimonial caracteriza-se por apresentar o equilíbrio entre ativos e passivos na contabilidade. Pode ser entendida como as Origens e Aplicações de recursos, que formam o patrimônio de uma empresa. Identifique nas alternativas aquela que apresenta somente exemplos de aplicações de recursos.

- A) Receitas e despesas.
- B) Receitas e contas a receber.
- C) Salários a pagar e fornecedores.
- D) Despesas e contas a pagar.
- E) Contas a receber e estoques.

#### Questão 34

Um dos lançamentos apresentados abaixo é consistente com o registro da receita proveniente da venda efetuada por uma empresa comercializadora de mercadorias. Identifique-o.

- A) Débito: IPI s/vendas; Crédito: IPI a recolher.
- B) Débito: ICMS a recolher; Crédito: Bancos.
- C) Débito: ISS s/vendas; Crédito: ISS a recolher.
- D) Débito: IPI a recolher; Crédito: Bancos.
- E) Débito: ICMS s/vendas; Crédito: ICMS a recolher.

#### Questão 35

Determinado livro contábil caracteriza-se por manter, com individualização e clareza, todos os registros relacionados com os atos e fatos que provocam ou venham a modificar o patrimônio de uma empresa. Identifique-o nas alternativas abaixo.

- A) Registro de inventário.
- B) Livro Diário.
- C) Registro de entradas.
- D) Registro de saídas.
- E) Livro Razão.

#### Questão 36

“As informações quando fazem a diferença nas decisões econômicas dos usuários, ajudando-os a avaliar o impacto de eventos passados ou corrigindo as suas avaliações anteriores (valor confirmatório) ou, ajudando-os nos processos para prever resultados futuros.” Esse fragmento extraído da NBC TG – Estrutura Conceitual faz referência a que qualidade da informação contábil?

- A) Compreensibilidade
- B) Fidedignidade
- C) Tempestividade
- D) Materialidade
- E) Relevância

**Questão 37**

Em linhas gerais pode-se afirmar que as contas contábeis serão alocadas no Passivo (curto e longo prazos), em função, basicamente, do seu grau de exigibilidade. Identifique nas alternativas abaixo, a única conta ou grupo de contas, que terá sua alocação no Passivo.

- A) Ganho por compra vantajosa.
- B) Ações em tesouraria.
- C) Adiantamento à fornecedores.
- D) Adiantamento de clientes.
- E) Encargos financeiros a apropriar.

**Questão 38**

Considere as seguintes informações relacionadas com a apuração do lucro real por uma determinada empresa:

**Valores em R\$**

	Temporárias	Definitivas
<b>Adições</b>	200.000,00	250.000,00
<b>Exclusões</b>	100.000,00	50.000,00

Carga tributária direta = 34%

Identifique nas alternativas disponibilizadas, o valor do ganho fiscal diferido ativo.

- A) R\$ 34.000,00
- B) R\$ 68.000,00
- C) R\$ 17.000,00
- D) R\$ 85.000,00
- E) R\$ 102.000,00

**Questão 39**

Um determinado item do estoque pode não ser recuperado pelos motivos de danificação, obsolescência, redução do preço de venda, entre outros eventos. Nesse caso, de acordo com o NBC TG 16 – Estoques, o valor do custo do item em estoque deverá ser substituído pelo valor:

- A) de recuperabilidade.
- B) justo.
- C) de mercado.
- D) realizável líquido.
- E) de reposição.

**Questão 40**

De acordo com o NBC TG 27 – Imobilizado, além de sua realização, através da depreciação, os itens do imobilizado geradores de receita, adicionalmente são submetidos à avaliação pelo:

- A) teste de recuperabilidade.
- B) valor de custo original.
- C) valor justo.
- D) valor de reposição.
- E) valor de mercado.

**Questão 41**

“A representação da informação contábil, pela forma legal que difira da substância econômica, não pode resultar em representação fidedigna”. Essa afirmativa constante da NBC TG – Estrutura Conceitual faz referência a que característica da informação contábil?

- A) Essência sobre a forma
- B) Prudência
- C) Oportunidade
- D) Relevância
- E) Materialidade

**Questão 42**

Determinada demonstração contábil caracteriza-se por informar todas as mutações do patrimônio líquido que não sejam representadas pelas operações entre os proprietários agindo nessa condição e a entidade. Identifique a demonstração para a qual se faz essa referência.

- A) Valor adicionado.
- B) Resultado abrangente.
- C) Mutações do patrimônio líquido.
- D) Fluxos de caixa.
- E) Origens e aplicações de recursos.

**Questão 43**

Identifique e marque a alternativa que apresenta o procedimento a ser adotado por uma empresa, em suas demonstrações contábeis, que identifica ações judiciais consideradas de perda provável.

- A) Contabilizará 25% do valor identificado.
- B) Não fará nenhuma contabilização.
- C) Contabilizará 100% do valor identificado.
- D) Informará somente em notas explicativas.
- E) Contabilizará 50% do valor identificado.

**Questão 44**

O Sistema Público de Escrituração Digital (SPED) consiste na modernização da sistemática do cumprimento das obrigações acessórias, transmitidas pelos contribuintes às administrações tributárias e aos órgãos fiscalizadores. Dentre os diversos benefícios e objetivos do SPED, um deles se caracteriza por promover a padronização e compartilhamento das informações contábeis e fiscais. Identifique-o.

- A) Redução de custos administrativos.
- B) Integração dos fiscos.
- C) Redução do "Custo Brasil"
- D) Aperfeiçoamento do combate à sonegação.
- E) Eliminação de papel.

**Questão 45**

A Escrituração Contábil Fiscal (ECF) constitui-se numa obrigação, dentro do ambiente do SPED, para as empresas de um modo geral, instituída a partir do ano-calendário 2014, com entrega prevista para o último dia útil do mês de julho do ano posterior ao do período da escrituração. Identifique nas alternativas disponibilizadas que obrigação atribuída às empresas a ECF objetivou substituir.

- A) Declaração de Informações Econômicas Fiscais.
- B) Declaração de Imposto Retido na Fonte.
- C) Declaração de Contribuições e Tributos Federais.
- D) Os Livros Diários e Razão.
- E) Declaração de Rendimentos.

**Questão 46**

A Lei nº 11.445/2007 instituiu o Regime Especial de Incentivos para o Desenvolvimento do Saneamento Básico - REISB, com o objetivo de estimular a pessoa jurídica prestadora de serviços públicos de saneamento básico a aumentar seu volume de investimentos por meio da concessão de créditos tributários. Identifique nas alternativas disponibilizadas até que ano esse benefício estará disponível.

- A) 2023
- B) 2020
- C) 2032
- D) 2029
- E) 2026

**Questão 47**

De uma forma geral, o Imposto sobre serviços (ISS) é devido no local do estabelecimento do prestador. Porém, alguns serviços especificados na legislação têm sua tributação no município onde ocorreu a sua prestação. Identifique nas alternativas abaixo um tipo de serviço tributado no local onde ele foi prestado, independente da localização do prestador.

- A) Limpeza e dragagem de rios.
- B) Processamento de dados e congêneres.
- C) Aplicação de tatuagens, piercings e congêneres.
- D) Serviços de pesquisa de qualquer natureza.
- E) Assessoria e consultoria em informática.

**Questão 48**

O Imposto sobre a circulação de mercadorias e serviços – ICMS caracteriza-se por ser um imposto embutido no preço. Dentre as alternativas disponibilizadas, identifique aquela que apresenta o valor de R\$ 105.000,00 de uma mercadoria ou serviço com 18% de imposto embutido.

- A) R\$ 119.318,18
- B) R\$ 123.900,00
- C) R\$ 117.600,00
- D) R\$ 128.048,78
- E) R\$ 123.529,41

**Questão 49**

Considere que uma empresa tenha gerado, ao final de determinado exercício, um lucro real e base (+) de contribuição social equivalente, em bases anuais, a R\$ 2.325.000,00. Quais os valores, respectivamente, de Imposto de renda pessoa jurídica - IRPJ e Contribuição social sobre o lucro líquido - CSLL apurados por esta empresa nesse exercício?

- A) R\$ 557.250,00 e R\$ 209.250,00
- B) R\$ 279.000,00 e R\$ 209,250,00
- C) R\$ 348.750,00 e R\$ 209,250,00
- D) R\$ 208.500,00 e R\$ 279.000,00
- E) R\$ 557.250,00 e R\$ 279.000,00

**Questão 50**

Os procedimentos de auditoria são basicamente divididos em testes de observância e testes substantivos, cada um deles com seus objetivos. Nas alternativas abaixo, encontram-se listados diversos procedimentos de auditoria. Identifique aquela que corresponde a um teste substantivo.

- A) Documentação.
- B) Transações e saldos.
- C) Observância direta.
- D) Consistência.
- E) Inspeção física.

Leia os textos abaixo:

### Texto I

O engenho do roteiro de “A forma da água” é misturar monstros, espionagem, ambientação noir e a luta contra preconceitos. A relação entre uma mulher muda (Sally Hawkins está tocante no papel) e um ser bizarro é uma quebra de paradigma para uma sociedade que lamentavelmente até hoje ainda distingue pessoas por etnia, gênero ou deficiências. Na década de 60, então, a coisa era bem pior.

(...)

“A forma da água”, contudo, tem menos impacto do que outros filmes de Del Toro por uma leve indecisão de qual interpretação seguir. O espectador pode assisti-lo como uma metáfora política e social de um período de paranoias. Assim, trata-se de uma obra genial, merecedora de todos os prêmios que vem ganhando e ainda pode ganhar.

Mas há uma outra leitura, bem menos interessante, que o aproxima de um conto de fadas infantil. Claro que se pode dizer que quase toda produção fantasiosa tem um quê de conto de fadas, afinal a matriz é a mesma. O problema, no caso de “A forma da água”, é que há um momento em que todos os outros elementos são deixados de lado em nome de se explorar o romance entre os protagonistas. (...)

#### A forma da água (*The Shape of Water*)

**Sinopse:** Numa instalação secreta de pesquisa, na década de 1960, uma zeladora solitária passa a ter um relacionamento singular com uma criatura anfíbia que está sendo mantida em cativeiro. Vencedor do Oscar 2018 de melhor filme, direção, direção de arte e trilha sonora.

**Direção:** Guillermo Del Toro

André Miranda, 01/02/2018

Disponível em: <https://oglobo.globo.com/rioshow/critica-forma-da-agua-22351638>

### Texto II

“Se o velho ditado 'os opostos se atraem' fosse mesmo verdadeiro, poderíamos viver em um mundo menos polarizado e mais aberto ao entendimento. O momento político crítico que atravessamos é um exemplo de que este ditado não tem tido muita aplicabilidade na vida real. O fato é que gostamos de pessoas parecidas com a gente. Apesar da busca pelos similares ser um comportamento natural do ser humano, as consequências disso não são muito positivas.

(...)

Por um lado, isso pode nos dar a sensação de conforto em conviver apenas com aqueles que

compartilham dos mesmos ideais que a gente. O revés é que isso aumenta a nossa intolerância. Se nos acostumamos a dividir somente opiniões similares às nossas, diminuimos o espaço para ouvir e tentar entender os argumentos que são diferentes dos nossos. Também deixamos de perceber o risco da intensificação de ideias extremistas - que sempre são perigosas, independentemente de ideologia política -, já que elas ficam fora da 'bolha' de similaridade que construímos ao nosso redor.”

Samy Dana, 22/04/2016

Disponível em: <http://g1.globo.com/economia/blog/samy-dana/post/polarizacao-das-ideias-atrasa-reestruturacao-do-pais.html>

### Proposta da Redação:

Após a leitura dos textos motivadores, reflita e elabore uma dissertação argumentativa, de 25 a 30 linhas, sobre o tema “**Respeito às diferenças**”. A partir de uma tese clara, organize seus argumentos. Dê um título ao seu texto.

### PROVA DISCURSIVA

As características qualitativas são atributos que tornam as demonstrações contábeis úteis aos seus leitores. Sua qualidade poderá ser mensurada pelo grau de satisfação das necessidades dos consumidores. Como consequência da maior qualidade das informações, estas possuem maior utilidade ao processo decisório e à compreensão da empresa analisada, gerando a redução da assimetria informacional. As características qualitativas da informação contábil se dividem em: Fundamentais e de Melhoria.

Produza em texto de no mínimo 25 e no máximo 30 linhas, identificando e versando sobre as características qualitativas de melhoria da informação contábil.

- 1
- 2
- 3
- 4
- 5
- 6
- 7
- 8
- 9
- 10
- 11
- 12
- 13
- 14
- 15
- 16
- 17
- 18
- 19
- 20
- 21
- 22
- 23
- 24
- 25
- 26
- 27
- 28
- 29
- 30

RASCUNHO

- 1
- 2
- 3
- 4
- 5
- 6
- 7
- 8
- 9
- 10
- 11
- 12
- 13
- 14
- 15
- 16
- 17
- 18
- 19
- 20
- 21
- 22
- 23
- 24
- 25
- 26
- 27
- 28
- 29
- 30

RASCUNHO