



COMPANHIA DE ÁGUA E ESGOTOS DO RIO GRANDE DO NORTE – CAERN

ECONOMISTA

CÓDIGO DA PROVA

S04 X

Verifique se o código da Prova é o mesmo do seu cartão de respostas.

TRANSCREVA, EM ESPAÇO DETERMINADO NO SEU CARTÃO DE RESPOSTAS, A FRASE DE TALES DE MILETO PARA EXAME GRAFOTÉCNICO

“A felicidade do corpo consiste na saúde, e a do espírito, na sabedoria.”

ATENÇÃO:

Duração da prova: 5 horas.

Este caderno contém 50 questões de múltipla escolha, cada uma com 5 alternativas de resposta – A, B, C, D e E. Apenas uma responde corretamente à questão. Prova Discursiva e Redação.

Conhecimentos Gerais		
Disciplinas	Quantidade de questões	Valor de cada questão
- Língua Portuguesa	10	1,50
- Raciocínio Lógico Matemático	5	1,50
- Ética e Legislação na Administração Pública	5	1,50
- Informática Básica	5	1,50
- Atualidades	5	1,50
Conhecimentos Específicos		
Disciplinas	Quantidade de questões	Valor de cada questão
- Conhecimentos na área de formação	20	2,75

Verifique se este material está em ordem, caso contrário, notifique imediatamente o fiscal.

O tempo de duração da prova inclui o preenchimento do Cartão de Respostas e Folhas de Respostas.

LEIA AS INSTRUÇÕES ABAIXO:

Siga, atentamente, a forma correta de preenchimento do Cartão de Respostas, conforme estabelecido no próprio. Não haverá substituição do Cartão de Respostas das questões objetivas e/ou das Folhas de Respostas das questões Discursivas e de Redação por erro do candidato.

Por motivo de segurança:

- O candidato só poderá retirar-se definitivamente da sala após 1 (uma) hora do início efetivo da prova
- Somente faltando 1 (uma) hora para o término da prova, o candidato poderá retirar-se levando o seu Caderno de Questões
- O candidato que optar por se retirar sem levar o seu Caderno de Questões não poderá copiar suas respostas por qualquer meio. O descumprimento dessa determinação será registrado em ata e acarretará a eliminação do candidato
- Ao terminar a prova, o candidato deverá se retirar imediatamente do local da prova, não sendo possível nem mesmo a utilização dos banheiros e/ou bebedouros.

Informações importantes:

Ao terminar a prova, é de sua responsabilidade entregar ao fiscal o Cartão de Respostas da prova objetiva assinado, as Folhas de Respostas da Prova Discursiva e de Redação. Não se esqueça dos seus pertences.

A Prova Discursiva e de Redação deverão ser desenvolvidas nas Folhas de Respostas destinadas a essa finalidade, personalizadas e desidentificadas pelo candidato, que deverá destacar o canhoto que contém seus dados cadastrais. As Folhas da Prova Discursiva e Redação são os únicos documentos válidos para a correção.

O preenchimento das Folhas de Respostas da Prova Discursiva e de Redação será de sua inteira responsabilidade.

Os três últimos candidatos deverão permanecer na sala até que o último candidato entregue o Cartão de Respostas e as Folhas da Prova Discursiva e de Redação.

O fiscal de sala não está autorizado a alterar quaisquer dessas instruções. Em caso de dúvida, solicite a presença do coordenador local.

BOAPROVA!

O ZELADOR DO LABIRINTO

Tem também a história do zelador do labirinto. Todos os dias ele saía de casa cedo, com sua marmitta, e entrava no labirinto. Seu trabalho era percorrer todo o labirinto, inspecionando as paredes e o chão, vendo onde precisava um retoque, talvez uma mão de tinta, etc.

Era um homem metódico. Pela manhã, fazia a ronda do labirinto, anotando tudo que havia para ser consertado, depois saía do labirinto, almoçava, descansava um pouquinho, e entrava de novo no labirinto, agora com o material que necessitaria para seu trabalho. Quando não havia nada para ser consertado, ele apenas varria todo o labirinto e, ao anoitecer, ia para casa. Um dia, enquanto fazia a sua ronda, o zelador encontrou um grupo de pessoas apavoradas. Queriam saber como sair dali. O zelador não entendeu bem.

– Como, sair?

– A saída! Onde fica a saída?

– É por ali – apontou o zelador, achando estranha a agitação do grupo.

Mais tarde, no mesmo dia, enquanto varria um dos corredores, o zelador encontrou o mesmo grupo. Não tinham encontrado a saída. Estavam ainda mais apavorados. Alguns choravam. Alguém precisava lhes mostrar a saída! Com uma certa impaciência, o zelador começou a dar a direção. Era fácil.

– Saiam por ali e virem à esquerda. Depois à direita, depois à esquerda outra vez, direita, direita, esquerda – Espere! – gritou alguém. – Ponha isso num papel.

Sacudindo a cabeça com divertida resignação, o zelador pegou seu caderno de notas e toco de lápis e começou a escrever.

– Deixa eu ver. Esquerda, direita, esquerda, esquerda...

Hesitou.

– Não, direita. É isso. Direita, direita, esquerda...

Ou direita outra vez?

O zelador atirou o papel e o lápis no chão como se estivesse pegando fogo. Saiu correndo, com todo o grupo atrás. Também estava apavorado. Aquilo era terrível. Ele nunca tinha se dado conta de como aquilo era terrível. Corredores davam para corredores que davam para corredores que davam numa parede. Era preciso voltar pelos mesmos corredores, mas como saber se eram os mesmos corredores? A saída! Onde fica a saída?

A administração do labirinto teve que procurar um novo zelador, depois que o desaparecimento do outro completou um mês. Podia adivinhar o que tinha acontecido. O novo zelador não devia ter muita imaginação. Era preferível que nem soubesse ler e

escrever. E em hipótese alguma devia falar com estranhos.

O Zelador do Labirinto. Revista Ícaro, 230, RMC Editora, Setembro de 2003, p. 34. Questão 01

Questão 01

Acrônica de Veríssimo trás a tona a ideia de que:

- A) os zeladores precisam ser mais atentos.
- B) para exercer a profissão de zelador, tem que ser analfabeto.
- C) às vezes parece que sabemos tudo, mas não sabemos de nada.
- D) as pessoas precisam ter mais calma para não assustar os outros.
- E) às vezes as coisas são feitas de maneira tão automática, que, quando você se depara com a reflexão de tal ato, não sabe como fazê-lo.

Questão 02

O zelador do labirinto apresenta algumas características fundamentais que são:

- A) a rotina, a cordialidade e a sabedoria.
- B) a introspecção, a desorganização e a sabedoria.
- C) a cordialidade, a desorganização e a sabedoria.
- D) a introspecção, a rotina e a eficácia.
- E) a cordialidade, a agitação e a eficácia.

Questão 03

“Um dia, ENQUANTO FAZIA A SUA RONDA, o zelador encontrou um grupo de pessoas apavoradas.”

No trecho acima, a oração em destaque deve ser classificada como:

- A) oração subordinada adverbial temporal
- B) oração subordinada adverbial consecutiva
- C) oração subordinada adverbial concessiva
- D) oração subordinada adverbial final
- E) oração subordinada adverbial causal

Questão 04

“Alguém precisava LHES mostrar a saída!”

O pronome oblíquo em destaque no trecho acima exerce a função sintática de:

- A) objeto direto.
- B) adjunto adnominal.
- C) objeto indireto.
- D) complemento nominal.
- E) aposto.

Questão 05

“Sacudindo a cabeça com divertida RESIGNAÇÃO (...)”

No contexto em que está inserida, a palavra em destaque estabelece a relação semântica de:

- A) contrariedade .
- B) submissão.
- C) aceitação.
- D) renúncia.
- E) conformidade.

Questão 06

“Corredores davam para corredores que davam para corredores que davam numa parede.”

No trecho acima, o autor faz uso de um recurso linguístico denominado RECURSIVIDADE que é caracterizado por encaixar frases em frases. Para tal recurso o autor faz uso de:

- A) orações subordinadas substantivas completivas.
- B) orações subordinadas substantivas relativas.
- C) orações subordinadas adjetivas relativas.
- D) orações subordinadas adverbiais causais.
- E) orações subordinadas adverbiais finais.

Questão 07

“– Saiam por ali e virem à esquerda. Depois à direita, depois à esquerda outra vez, direita, direita, esquerda ... – Espere! – gritou alguém. – Ponha isso num papel.”

No trecho, o autor faz uso corretamente do sinal indicativo de crase.

Assinale a opção que preenche, correta e respectivamente, as lacunas do período:

Para evitar _____ evasão escolar, _____ escolas não punem os alunos que faltam _____ aulas. Espera-se que daqui _____ alguns anos tudo esteja mudado.

- A) a - as - às - a
- B) a - as - as - à
- C) à - as - as - à
- D) à - as - às - a
- E) a - as - as - a

Questão 08

“Sacudindo a cabeça com DIVERTIDA resignação (...)”

O termo em destaque no trecho acima está sendo utilizado com sentido conotativo.

- I. Os domadores conseguiram enjaular a fera depois de muito sacrifício.
- II. Maurício ficou uma fera com a esposa depois que viu o extrato bancário.
- III. Ashkin, Mourou e Strickland são as feras da física da atualidade.

A palavra FERA das sentenças acima está sendo utilizada no seu sentido conotativo em:

- A) II e III.
- B) I.
- C) I, II e III.
- D) I e II.
- E) I e III.

Questão 09

“A administração do labirinto teve que procurar um novo zelador, depois que o DESAPARECIMENTO do outro completou um mês.”

A palavra em destaque passa por qual processo de formação de palavras?

- A) Composição por aglutinação
- B) Derivação parassintética
- C) Composição por justaposição
- D) Derivação sufixal
- E) Derivação prefixal e sufixal

Questão 10

“Era um homem metódico. Pela manhã, fazia a ronda do labirinto, anotando tudo que havia para ser consertado, depois saía do labirinto, almoçava, descansava um pouquinho, e entrava de novo no labirinto, agora com o material que necessitaria para seu trabalho.”

No trecho o autor faz uso de um recurso coesivo chamado:

- A) coesão lexical
- B) coesão por repetição
- C) coesão por substituição
- D) coesão por referência
- E) coesão por elipse

- Raciocínio Lógico Matemático**Questão 11**

Levando em consideração as matrizes A, B e C abaixo, marque a alternativa que expresse o valor da expressão $(A+B) \cdot C$

$$A = \begin{bmatrix} 1 & 2 \\ 3 & 4 \end{bmatrix} \quad B = \begin{bmatrix} 1 & 0 \\ 0 & 1 \end{bmatrix} \quad C = \begin{bmatrix} 1 & 0 \\ 0 & 1 \end{bmatrix}$$

- A) $\begin{bmatrix} 1 & 2 \\ 3 & 4 \end{bmatrix}$
- B) $\begin{bmatrix} 0 & 1 \\ 1 & 0 \end{bmatrix}$
- C) $\begin{bmatrix} 1 & 0 \\ 3 & 4 \end{bmatrix}$
- D) $\begin{bmatrix} 1 & 0 \\ 0 & 1 \end{bmatrix}$
- E) $\begin{bmatrix} 2 & 2 \\ 3 & 5 \end{bmatrix}$

Questão 12

Marque a alternativa que apresente a soma dos 10 termos da progressão $3, \frac{3}{2}, \frac{3}{4}, \dots$

- A) $3/1024$
- B) $3069/512$
- C) $1024/3$
- D) $1023/1024$
- E) $512/3$

Questão 13

Em um trabalho, os funcionários foram identificados por letras de A até H em sequência, segundo o alfabeto da língua portuguesa. Os funcionários deveriam ser agrupados de forma que os grupos contenham 2 componentes. Marque a alternativa que apresente de quantas formas distintas pode-se formar os grupos de maneira que não tenham duas letras consecutivas.

- A) 28
- B) 49
- C) 35
- D) 42
- E) 21

Questão 14

Neto está em dúvida sobre qual loja comprará um carro novo, sendo a probabilidade de comprar o carro na loja A de 35% e de 50% na loja B. Neto terá dinheiro para comprar somente um carro e existe a probabilidade de não comprar o carro em uma das duas lojas. Qual é a probabilidade do carro ser comprado em pelo menos uma das lojas?

- A) 30%
- B) 20%
- C) 60%
- D) 40%
- E) 50%

Questão 15

Em uma empresa, foram coletados os dados de compra de seus produtos em um supermercado. O resultado da pesquisa é mostrado na tabela abaixo:

Produtos	Número de vendas
A	10
B	4
C	15
D	7
E	9

Com relação aos dados, pode-se afirmar que a média, variância e desvio padrão são apresentados na alternativa:

- A) 8,75, 21,58 e 4,64
- B) 8,00, 20,00 e 4,00
- C) 8,10, 20,00 e 4,00
- D) 8,50, 21,58 e 4,64
- E) 8,00, 21,58 e 4,00

- Ética e Legislação na Administração Pública**Questão 16**

Acerca da Lei nº 8.429/1992, assinale a assertiva correta sobre a improbidade administrativa.

- A) Ocorrerá lesão ao erário público quando o agente por ação dolosa desviar valores ao seu patrimônio pessoal, não cabendo assim a punibilidade da forma culposa perante esta lei.
- B) As disposições desta lei não abrangem os que não são agentes públicos.
- C) Ao sucessor que causar lesão ao patrimônio público, não estará sujeito as penalidades desta lei.
- D) No caso de enriquecimento ilícito, somente o agente público perderá os benefícios ou valores acrescidos ao seu patrimônio.
- E) Os atos de improbidade praticados por servidor, ou não, contra a administração pública deverão ser punidos perante a lei.

Questão 17

Segundo o Decreto nº 1.171/1994, os servidores públicos possuem deveres a serem cumpridos no exercício da sua função. Acerca do tema, pode-se afirmar que:

- A) ser probo, reto, leal e justo, demonstrando toda a integridade do seu caráter, escolhendo, quando puder, a melhor e a mais vantajosa opção para o bem comum.
- B) comunicar imediatamente a seus superiores todo e qualquer ato ou fato contrário ao interesse público exigindo, se possível, as providências cabíveis.
- C) resistir, nas situações determinadas, as pressões de superiores hierárquicos, de contratantes, interessados e outros que visem obter quaisquer favores, benesses ou vantagens indevidas em decorrência de ações imorais, ilegais ou aéticas e denunciá-las.
- D) ter respeito à hierarquia, sem nenhum temor de representar contra qualquer comprometimento indevido da estrutura em que se funda o Poder Estatal.
- E) facilitar a fiscalização de todos atos ou serviços por quem de direito.

Questão 18

Os serviços públicos que visam o abastecimento de água e sua distribuição possuem status de natureza essencial para a população. Sendo assim, assinale abaixo a assertiva correta na qual é permitido, segundo a lei, a sua interrupção.

- A) Nas situações onde são atingidas a segurança de pessoas e bens, especialmente as de caráter emergencial e as que colocam em risco a saúde da população ou de trabalhadores dos serviços de saneamento básico.
- B) Na necessidade de efetuar reparos, modificações ou melhorias nos sistemas por meio de interrupções não programadas.
- C) Na manipulação devida ou indevida por parte do usuário, da ligação predial, inclusive medidor, ou qualquer outro componente da rede pública.
- D) Quando o usuário permite a instalação de dispositivo de leitura de água consumida.
- E) Quando ocorrer o inadimplemento pelo usuário do pagamento indevido pela prestação do serviço de abastecimento de água.

Questão 19

Poderá haver, de acordo com a lei, a contratação direta nas licitações públicas quando houver inviabilidade de competição. Sobre o tema, assinale a assertiva correta que demonstra a necessidade de se utilizar esta forma de contratação.


- A) Quando houver necessidade de restauração de obras de arte e bens de valor histórico, mesmo que haja sobrepreço ou superfaturamento comprovados.
- B) Quando houver necessidade de contratação de serviços técnicos especializados, com profissionais ou empresas de notória especialização, sendo permitida a inexigibilidade para serviços de publicidade e divulgação.
- C) Quando houver necessidade de aquisição de materiais, equipamentos ou gêneros podendo ser fornecidos por produtor, empresa ou representante comercial com mais conhecimento no mercado.
- D) Quando houver necessidade de estudos técnicos, planejamentos e projetos básicos ou executivos, vedada a inexigibilidade para serviços de publicidade e divulgação.
- E) Quando houver necessidade de treinamento e aperfeiçoamento de pessoal, sem que haja nenhuma justificativa de preço.

Questão 20

Nas prestações de serviços de saneamento básico, deverá o Estado seguir um planejamento adequado para que o mesmo se realize de forma mais eficiente. Segundo a Lei nº 11.445/2007, assinale a assertiva correta.

- A) Observar os mecanismos e procedimentos para a avaliação sistemática da eficiência e eficácia das ações não programadas.
- B) Se ater nos objetivos e metas de curto prazo para a universalização do serviço.
- C) Realizar programas, projetos e ações necessárias para atingir os objetivos e as metas, ainda que ultrapassem os limites dos planos governamentais visto ser serviço de natureza essencial.
- D) Revisar periodicamente os planos de saneamento básico, em prazo não superior a 4 (quatro) anos, anteriormente à elaboração do Plano Plurianual.
- E) Realizar o diagnóstico da situação e de seus impactos nas condições de vida, utilizando indicadores sem que haja necessidade de apontar as deficiências encontradas.







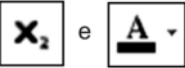



- Informática Básica**Questão 21**

Um funcionário de nível superior da Companhia de Águas e Esgotos do Rio Grande do Norte está operando um microcomputador com Windows 10 BR, acessando o site da CAERN por meio do browser Firefox Mozilla. Para realizar o acesso à Área de Trabalho, ele deve executar um atalho de teclado, que corresponde a pressionar duas teclas em sequência, a primeira  e a segunda

- A) D.
- B) S.
- C) B.
- D) A.
- E) T.

Questão 22

No editor Writer do aplicativo BOffice/LibreOffice 6.0, para aplicar subscrito e alterar a cor da fonte na digitação de um texto, deve-se acionar, respectivamente, os ícones:

- A)  e 
- B)  e 
- C)  e 
- D)  e 
- E)  e 

Questão 23

A planilha abaixo foi criada no Excel 2016 BR.

	A	B	C
1	 caern COMPANHIA DE ÁGUAS E ESGOTOS DO RN		
2			
3			
4			
5			
6			
7			
8			
9	UNID	REGIÃO	TELEFONE
10	RN1	NATAL	32321234
11	RN2	MACAIBA	32322345
12	RN3	PARNAMIRIM	32323456
13	RN4	ANGICOS	32324567
14	RN5	BARAUNA	32325678
15			
16	PESQUISA ----->>>		?

Na planilha foi inserida a expressão =PROCV(A13;A10:C14;2;0) em C16. Como resultado, o valor mostrado em C16 é:

- A) 32324567.
 B) MACAIBA.
 C) RN2.
 D) ANGICOS.
 E) RN4.

Questão 24

No Firefox Mozilla v62, a execução de um atalho de teclado resulta na exibição na tela de uma janela de diálogo que se refere à biblioteca e ao painel do gerenciador de downloads desse browser. Além disso, o acionamento de uma tecla de função permite a visualização das páginas na modalidade tela cheia. O atalho de teclado e a tecla de função são, respectivamente:

- A) Ctrl+D e F10.
 B) Ctrl+J e F11.
 C) Ctrl+D e F11.
 D) Ctrl+J e F10.
 E) Ctrl+J e F12.

Questão 25

No que diz respeito à segurança da internet, um termo é usado para se referir aos e-mails não solicitados, que geralmente são enviados para um grande número de pessoas. Em alguns pontos, assemelha-se a outras formas de propaganda, como a carta colocada na caixa de correio, o panfleto recebido na esquina e a ligação telefônica ofertando produtos. Esse termo é conhecido por:

- A) cookie.
 B) trojan.
 C) spyware.
 D) hoax.
 E) spam.

- Atualidades

Questão 26

O MERCOSUL é um bloco econômico formado por países da América do Sul que alavancou o comércio regional nas últimas décadas. Oficializado na década de 90 do século XX, o bloco contava com quatro membros, signatários do Tratado de Assunção. Atualmente existem outros países membros, sendo que o país que atualmente se encontra suspenso por violação da “Cláusula Democrática do bloco” é:

- A) Venezuela.
- B) Peru.
- C) Colômbia.
- D) Argentina.
- E) Uruguai.

Questão 27

Uma forte crise econômica vem assolando significativa quantidade de países desde a crise de 2008/2009. Nos últimos anos, o Brasil sentiu de maneira mais efetiva os efeitos da crise econômica gerando uma série de medidas econômicas e políticas. Ao longo do ano de 2018, o COPOM (Comitê de Políticas Monetárias) vem promovendo ações de equalização da política econômica brasileira. A principal ação tomada sistematicamente, ao longo de 2018, pelo COPOM foi:

- A) promoção da oferta de empregos com carteira assinada.
- B) aumento da renda per capita na região nordeste.
- C) proibição do trabalho informal no setor de serviços.
- D) mudança nos indicadores da inflação.
- E) diminuição da taxa básica de juros – SELIC.

Questão 28

O ano de 2018 é marcado também pelas eleições em escalas nacional e estadual. São escolhidos presidente da república, governadores, senadores, deputados estaduais e federais. O número de deputados federais eleitos pelo estado do Rio Grande do Norte é de:

- A) 20.
- B) 35.
- C) 3.
- D) 12.
- E) 8.

Questão 29

A balança comercial é um fator importante na economia brasileira. O Brasil, como grande exportador de diferentes produtos, possui cerca de 50% das exportações destinadas a 4 países ao longo de 2017 e início de 2018. Entre os principais parceiros comerciais do Brasil encontram-se:

- A) China e Estados Unidos.
- B) Canadá e Portugal.
- C) Argentina e Austrália.
- D) África do Sul e Reino Unido.
- E) Uruguai e França.

Questão 30

O ano de 2018 foi marcado na questão da segurança nacional pela intervenção federal em uma das unidades da federação que, na previsão inicial, ocorrerá até dezembro de 2018. A unidade da federação onde ocorre tal intervenção é:

- A) Mato Grosso do Sul.
- B) Rio de Janeiro.
- C) Amapá.
- D) Ceará.
- E) Rio Grande do Norte.

CONHECIMENTOS ESPECÍFICOS

- Conhecimentos na Área de Formação

Questão 31

A sociedade mundial, de uma forma geral, encontra-se organizada em dois conhecidos sistemas político-econômicos dotados de características próprias. Marque a alternativa que apresenta, respectivamente, uma característica do capitalismo e do socialismo.

- A) Livre concorrência e salários definidos pelo mercado.
- B) Desigualdade social e salários controlados pelo governo.
- C) Livre concorrência e salários controlados pelo governo.
- D) Controle dos meios de produção e salários controlados pelo governo.
- E) Controle dos meios de produção e sistemas públicos de saúde.

Questão 32

Em economia, denominamos "Bem" tudo aquilo que tem a capacidade de satisfazer as necessidades humanas. Nesse sentido, os bens são classificados como bens econômicos e não econômicos. Marque a alternativa que apresenta um bem classificado como econômico.

- A) O ar que respiramos.
- B) O banho de mar.
- C) Artigos de vestuário.
- D) As águas dos rios.
- E) A luz solar.

Questão 33

Como é denominada a representação gráfica que demonstra todas as possíveis cestas de mercado que proporcionam o mesmo grau de satisfação do consumidor.

- A) Restrição orçamentária.
- B) Curva de indiferença.
- C) Mapa de indiferença.
- D) Linha de orçamento.
- E) Curva de demanda do consumidor.

Questão 34

De acordo com a lei geral da procura, a curva de demanda é negativamente inclinada, evidenciando que quando o preço de um bem:

- A) diminui sua quantidade permanece constante.
- B) diminui sua quantidade demandada diminui.
- C) aumenta sua quantidade demandada permanece constante.
- D) aumenta sua quantidade demandada diminui.
- E) aumenta sua quantidade demandada aumenta.

Questão 35

A taxa marginal de substituição (TMST) evidencia a proporção de troca entre os insumos, quando consideramos a existência de dois insumos que podem variar. Sob o ponto de vista matemático, a TMST corresponde à inclinação da isoquanta em cada ponto. Então essa inclinação corresponde:

- A) ao da curva fora do ponto.
- B) a derivada 1ª. da curva no ponto.
- C) a derivada 2ª. da curva no ponto.
- D) ao limite da curva no ponto.
- E) a intersecção das curvas no ponto.

Questão 36

Dentre as diversas estruturas de mercado, uma delas é conhecida pela homogeneidade de seus produtos e o livre trânsito das empresas dada a transparência do mercado. Há pleno conhecimento, pelos compradores e vendedores, de tudo o que se refere às fontes supridoras, ao processo de produção em si, aos níveis de oferta e etc. As características citadas são atribuídas a que estrutura de mercado?

- A) Monopsônio
- B) Monopólio
- C) Concorrência perfeita
- D) Concorrência monopolística
- E) Oligopólio

Questão 37

Política monetária é o conjunto de medidas adotadas pelo governo com o objetivo de controlar a oferta de moeda, a taxa de juros e, por conseguinte, a atividade econômica. Identifique a alternativa que apresenta o efeito na economia de uma política monetária expansionista.

- A) A taxa de juros cai.
- B) Impacto negativo sobre a renda.
- C) Queda da atividade econômica.
- D) Aumento da taxa de juros.
- E) Impacto negativo sobre o consumo.

Questão 38

Considere uma economia que esteja produzindo na plenitude da utilização dos fatores de produção. Marque a alternativa que nos informa sobre o efeito nessa economia de um aumento na oferta de moeda.

- A) Estabilidade do nível geral de preços.
- B) Aumento no nível geral de preços.
- C) Aumento da renda dessa economia.
- D) Diminuição do nível geral de preços.
- E) Diminuição da renda dessa economia.

Questão 39

Além das emissões de moeda, o governo detém em seu poder alguns instrumentos clássicos de controle monetário. Identifique os objetivos esperados do BACEN ao determinar um aumento no encaixe dos depósitos compulsórios dos bancos comerciais.

- A) Queda da oferta monetária e um aumento dos juros.
- B) Somente diminuição dos juros.
- C) Aumento da oferta de moeda e dos juros.
- D) Aumento da oferta de moeda e queda dos juros.
- E) Somente queda de oferta de moeda.

Questão 40

A inflação é definida como o aumento contínuo e generalizado dos preços e se apresenta sob duas formas: inflação de demanda e de custos. Marque a alternativa que apresenta uma situação aderente ao conceito de inflação de demanda.

- A) Controle dos preços dos fatores.
- B) Expectativas dos agentes econômicos.
- C) Muito dinheiro e poucos bens.
- D) Muitos bens e pouco dinheiro.
- E) Política salarial rígida.

Questão 41

Uma das contas do Balanço de Pagamentos é o Movimento de Capitais Autônomos que registra as entradas e saídas de divisas relativas a empréstimos, financiamentos, investimentos e amortizações da dívida. Uma das alternativas disponibilizadas apresenta um item relacionado a esse balanço, cujo registro é efetuado com sinal negativo.

- A) Recebimento de aluguéis.
- B) Recebe investimentos diretos.
- C) Recebe capitais de risco.
- D) Concede empréstimo ao exterior.
- E) Toma empréstimos no exterior.

Questão 42

Considere um regime de taxas de câmbio fixas. No sentido de manter a taxa de câmbio alta, o Banco Central compra divisas, diminuindo sua quantidade no mercado e conseqüentemente gerando um aumento de moeda nacional na economia. Esse movimento estimula um movimento inflacionário que é combatido com a venda de títulos públicos. Como é denominada essa operação?

- A) Esterilização
- B) Flutuação
- C) Enxugamento
- D) Especulação
- E) Intervenção

Questão 43

Um determinado bem tem um preço de \$ 60, o que determina uma quantidade demandada de 120 unidades. Um estudo concluiu que uma redução no preço de \$ 4 faz com que a quantidade demandada tenha um aumento de 8 unidades. Então, podemos garantir que a elasticidade-preço da demanda é:

- A) 1,5
- B) 1,2
- C) 1
- D) 0,5
- E) -1

Questão 44

Um analista, ao receber as peças contábeis de uma indústria cujo setor não está tendo um bom desempenho no mercado para análise de concessão de crédito, observa que a empresa adota os percentuais fiscais para reconhecimento da depreciação de seu imobilizado. O analista conclui que esse imobilizado está superavaliado. Portanto, os ajustes propostos acarretarão os seguintes impactos nesse balanço:

- A) aumento do imobilizado e aumento do patrimônio líquido.
- B) não ocorrerá alteração no imobilizado nem no patrimônio líquido.
- C) aumento do imobilizado e redução do patrimônio líquido.
- D) redução do imobilizado e redução do patrimônio líquido.
- E) redução do imobilizado e aumento do patrimônio líquido.

Questão 45

Determinado conjunto de indicadores avaliam a segurança que a empresa oferece aos capitais de terceiros e revelam sua política de obtenção de recursos e de alocação dos mesmos nos diversos itens do ativo. Estamos nos referindo aos indicadores de:

- A) endividamento.
- B) lucratividade.
- C) liquidez.
- D) rentabilidade.
- E) econômicos.

Questão 46

As demonstrações contábeis financeiras, de um modo geral, caracterizam-se por serem construídas a partir da aplicação do regime de competência. Porém, uma delas não segue esse modelo de construção. Identifique-a nas alternativas disponibilizadas.

- A) Demonstração do resultado.
- B) Mutações do patrimônio líquido.
- C) Balanço Patrimonial.
- D) Resultados abrangentes.
- E) Fluxos de caixa.

Questão 47

Em concorrência perfeita o custo marginal (CMg) de uma firma corresponde ao acréscimo no Custo Total (CT) proveniente de uma unidade a mais produzida. O custo médio (CMe) é o custo por unidade produzida. O ponto onde o CMg corta o Cme no seu ponto mínimo, mostrando que:

- A) além desse ponto, o custo por unidade pode aumentar.
- B) aquém desse ponto, o custo por unidade ainda pode aumentar.
- C) aquém desse ponto, o custo por unidade ainda pode diminuir.
- D) nesse ponto, o custo em média alcança seu valor máximo.
- E) além desse ponto, o custo por unidade pode diminuir.

Questão 48

Uma análise dos resultados obtidos nos exames finais por todas as turmas de um colégio envolvendo uma amostra de 100 dos seus 1000 alunos apresentou a seguinte distribuição de frequência:

Notas	Frequência
1 a 2	12
3 a 4	20
5 a 6	22
7 a 8	36
9 a 10	20

Marque a alternativa que corresponde a estimativa da mediana desses resultados.

- A) 7,28
- B) 7,14
- C) 7,48
- D) 8,03
- E) 7,05

Questão 49

Considere que uma empresa pretenda fazer uma reposição salarial para seus empregados de 15% e, nesse ambiente, a inflação esteja em 40%. Identifique em quanto diminuirá o salário real desses empregados.

- A) 20%
- B) 25%
- C) 18%
- D) 12%
- E) 15%

Questão 50

Considere uma representação gráfica bidimensional, onde o eixo Y corresponde aos preços e o eixo X corresponde as quantidades. A intersecção de uma curva de oferta e de demanda para um determinado bem corresponde, respectivamente, a um preço de \$27,00 unidades monetárias e 22 unidades desse bem. Considere também que a curva de demanda se cruza com o eixo dos preços na altura onde o valor \$42,00 unidades monetárias. Com as informações disponíveis, apure o valor do excedente do consumidor e identifique-o nas alternativas disponibilizadas.

- A) \$269,00
- B) \$165,00
- C) \$300,00
- D) \$150,00
- E) \$330,00

Leia os textos abaixo:

Texto I

O engenho do roteiro de “A forma da água” é misturar monstros, espionagem, ambientação noir e a luta contra preconceitos. A relação entre uma mulher muda (Sally Hawkins está tocante no papel) e um ser bizarro é uma quebra de paradigma para uma sociedade que lamentavelmente até hoje ainda distingue pessoas por etnia, gênero ou deficiências. Na década de 60, então, a coisa era bem pior.

(...)

“A forma da água”, contudo, tem menos impacto do que outros filmes de Del Toro por uma leve indecisão de qual interpretação seguir. O espectador pode assisti-lo como uma metáfora política e social de um período de paranoias. Assim, trata-se de uma obra genial, merecedora de todos os prêmios que vem ganhando e ainda pode ganhar.

Mas há uma outra leitura, bem menos interessante, que o aproxima de um conto de fadas infantil. Claro que se pode dizer que quase toda produção fantasiosa tem um quê de conto de fadas, afinal a matriz é a mesma. O problema, no caso de “A forma da água”, é que há um momento em que todos os outros elementos são deixados de lado em nome de se explorar o romance entre os protagonistas. (...)

A forma da água (*The Shape of Water*)

Sinopse: Numa instalação secreta de pesquisa, na década de 1960, uma zeladora solitária passa a ter um relacionamento singular com uma criatura anfíbia que está sendo mantida em cativeiro. Vencedor do Oscar 2018 de melhor filme, direção, direção de arte e trilha sonora.

Direção: Guillermo Del Toro

André Miranda, 01/02/2018

Disponível em: <https://oglobo.globo.com/rioshow/critica-forma-da-agua-22351638>

Texto II

“Se o velho ditado 'os opostos se atraem' fosse mesmo verdadeiro, poderíamos viver em um mundo menos polarizado e mais aberto ao entendimento. O momento político crítico que atravessamos é um exemplo de que este ditado não tem tido muita aplicabilidade na vida real. O fato é que gostamos de pessoas parecidas com a gente. Apesar da busca pelos similares ser um comportamento natural do ser humano, as consequências disso não são muito positivas.

(...)

Por um lado, isso pode nos dar a sensação de conforto em conviver apenas com aqueles que

compartilham dos mesmos ideais que a gente. O revés é que isso aumenta a nossa intolerância. Se nos acostumamos a dividir somente opiniões similares às nossas, diminuimos o espaço para ouvir e tentar entender os argumentos que são diferentes dos nossos. Também deixamos de perceber o risco da intensificação de ideias extremistas - que sempre são perigosas, independentemente de ideologia política -, já que elas ficam fora da 'bolha' de similaridade que construímos ao nosso redor.”

Samy Dana, 22/04/2016

Disponível em: <http://g1.globo.com/economia/blog/samy-dana/post/polarizacao-das-ideias-atrasa-reestruturacao-do-pais.html>

Proposta da Redação:

Após a leitura dos textos motivadores, reflita e elabore uma dissertação argumentativa, de 25 a 30 linhas, sobre o tema “**Respeito às diferenças**”. A partir de uma tese clara, organize seus argumentos. Dê um título ao seu texto.

PROVA DISCURSIVA

A PARTICIPAÇÃO DO GOVERNO COMO UM DOS AGENTES DA ECONOMIA

Utilizando-se no mínimo de 25 e no máximo 30 linhas, produza um texto abordando a importância da atuação do Governo na economia. Basicamente, aborde quais os principais instrumentos utilizados pelo governo no seu processo de gestão da economia, bem como enfatize o instrumento utilizado pelo governo quando ele precisa financiar o “déficit público”.

- 1
- 2
- 3
- 4
- 5
- 6
- 7
- 8
- 9
- 10
- 11
- 12
- 13
- 14
- 15
- 16
- 17
- 18
- 19
- 20
- 21
- 22
- 23
- 24
- 25
- 26
- 27
- 28
- 29
- 30

RASCUNHO

- 1
- 2
- 3
- 4
- 5
- 6
- 7
- 8
- 9
- 10
- 11
- 12
- 13
- 14
- 15
- 16
- 17
- 18
- 19
- 20
- 21
- 22
- 23
- 24
- 25
- 26
- 27
- 28
- 29
- 30

RASCUNHO