



**SAAE LINHARES - ES**

**OFICIAL ADMINISTRATIVO**

Código da Prova

**M04 Z**  
TARDE

 Verifique se o Código da Prova é o mesmo do seu cartão de respostas.

 Duração da prova: **3 horas**

---

**TRANSCREVA, EM ESPAÇO DETERMINADO NO SEU CARTÃO DE RESPOSTAS,  
A FRASE ABAIXO PARA O EXAME GRAFOTÉCNICO:**

**“Com o novo dia vem uma nova força e novos pensamentos.”  
(Eleanor Roosevelt)**



---

**ATENÇÃO**

Este caderno contém quarenta questões de múltipla escolha, cada uma com cinco alternativas de resposta – A, B, C, D e E.

**Verifique se este material está em ordem. Caso contrário, notifique imediatamente o fiscal.  
O tempo de duração da prova inclui o preenchimento do cartão de respostas.**

---

LEIA AS INSTRUÇÕES ABAIXO:

Siga, atentamente, a forma correta de preenchimento do cartão de respostas, conforme estabelecido no próprio.

Por motivo de segurança:

- O candidato só poderá retirar-se definitivamente da sala após 1 (uma) hora do início efetivo da prova.
- Somente faltando 1 (uma) hora para o término da prova, o candidato poderá retirar-se levando o seu caderno de questões.
- O candidato que optar por se retirar sem levar o seu caderno de questões não poderá copiar suas respostas por qualquer meio.
- Ao terminar a prova, o candidato deverá se retirar imediatamente do local da prova, não sendo possível nem mesmo a utilização dos banheiros e bebedouros.

Candidato, ao terminar a prova, é de sua responsabilidade entregar ao fiscal o cartão de respostas da Prova Objetiva assinado. Não se esqueça dos seus pertences.

Os três últimos candidatos deverão permanecer na sala até que o último candidato entregue o cartão de respostas.

O fiscal de sala não está autorizado a alterar quaisquer dessas instruções. Em caso de dúvida, solicite a presença do coordenador local.

**BOA PROVA!**

---

## Língua Portuguesa

Leia o texto abaixo e responda ao que se pede.

### Na dúvida, não compartilhe

Você pode ter passado por essa situação hoje mesmo. No celular, leu uma notícia bombástica que, alarmado, decidiu encaminhar a outras pessoas – sem imaginar que estava espalhando uma notícia falsa, as famosas *fake news*. Essas notícias enganam, pois mesclam verdades e inverdades. Por terem elementos reais, soam incríveis.

Religião, política, saúde: as *fake news* podem ser sobre qualquer assunto, desde que haja alguém interessado em sua propagação. Elas estão aí há tempos. A novidade hoje é o meio de transmissão. O modo rápido como se espalham é o ponto-chave desse tipo de notícia. Recebidas pelo celular e compartilhadas nas redes sociais, elas viralizam rapidamente. E por que muitos de nós repassamos esse tipo de conteúdo? Dois sentimentos, para mim, explicam esse compartilhamento. Primeiro, um ódio que leva a querer acabar com a reputação de algo ou de alguém. O outro é a vontade de ser o primeiro a passar aquela informação ao grupo.

As consequências desse ato são perigosas. Essas mensagens mudam a maneira como enxergamos o outro, colocam a reputação de muita gente em cheque. Por isso, em todo o país, há gente se mobilizando para fazer com que essa roda pare de girar – e para conscientizar todos do perigo de um gesto aparentemente inocente, que é compartilhar.

Manuela Aquino

### Questão 1

No trecho “...Religião, política, saúde...” (L 8 ), a palavra sublinhada é acentuada pela mesma razão que:

- (A) difícil.
- (B) ímã.
- (C) júri.
- (D) hífen.
- (E) júizo.

### Questão 2

Dentre as alternativas abaixo, a que apresenta um par de parônimos é:

- (A) acento/assento.
- (B) cerrar/serrar.
- (C) cassar/caçar.
- (D) delatar/dilatar.
- (E) estrato/extrato.

### Questão 3

Considerando o texto apresentado, pode-se classificá-lo como um texto:

- (A) narrativo.
- (B) descritivo.
- (C) injuntivo.
- (D) informativo.
- (E) literário.

### Questão 4

Na frase “... como se espalham é o ponto-chave desse tipo de notícia.”, a expressão grifada obedece ao seguinte processo de formação:

- (A) composição.
- (B) derivação.
- (C) onomatopeia.
- (D) abreviação.
- (E) hibridismo.

### Questão 5

No trecho “Por isso, em todo o país, há gente se mobilizando...” (parágrafo 3), a expressão destacada introduz uma oração, cujo valor semântico é de:

- (A) conclusão.
- (B) comparação.
- (C) causa.
- (D) finalidade.
- (E) oposição.

### Questão 6

Em “O modo rápido como se espalham...” (L 11/12), o verbo encontrado é do tipo:

- (A) irregular.
- (B) reflexivo.
- (C) pronominal.
- (D) abundante.
- (E) defectivo.

**Questão 7**

Na frase “Por ter sido diagnosticado com a Covid, teve que ficar de quarentena por 14 dias.”, o trecho destacado apresenta a seguinte figura:

- (A) metáfora.
- (B) catacrese.
- (C) hipérbole.
- (D) metonímia.
- (E) prosopopeia.

**Questão 8**

No trecho “No celular, leu uma notícia bombástica que, alarmado, decidiu encaminhar a outras pessoas...” (L 2/3), o termo em destaque tem a sua análise morfosintática descrita em:

- (A) pronome relativo/ sujeito.
- (B) pronome relativo/objeto direto.
- (C) pronome indefinido/ predicativo.
- (D) conjunção integrante/objeto indireto.
- (E) palavra de realce/vocativo.

**Questão 9**

Na frase “As *fake news* podem ser sobre qualquer assunto, desde que haja alguém interessado em sua propagação.”, o período pode ser classificado como:

- (A) simples.
- (B) composto por coordenação.
- (C) composto por subordinação.
- (D) oração absoluta.
- (E) composto por coordenação e subordinação.

**Questão 10**

Dentre as alternativas abaixo sobre as *fake news*, a que não é mencionada no texto é:

- (A) Às vezes não imaginamos que estamos compartilhando uma notícia falsa.
- (B) Compartilha-se, muitas vezes, para manchar a imagem de alguém.
- (C) A vontade de ser o pioneiro na informação faz com que a repassemos na impulsividade.
- (D) Elas podem conter qualquer assunto, desde que haja interesse sobre ele.
- (E) Devem-se buscar sites confiáveis que denunciem esse tipo de notícia.

**Raciocínio Lógico-quantitativo****Questão 11**

Considere a sequência abaixo:

AJA, CIA, BHB, DGB, ...

A opção que corresponde ao próximo valor da sequência é:

- (A) EFC
- (B) CHD
- (C) EJB
- (D) CFC
- (E) EHD

**Questão 12**

Pedro tem 8 anos e sua irmã tem metade da sua idade. Quando Pedro tiver 30 anos, sua irmã terá:

- (A) 20
- (B) 18
- (C) 26
- (D) 15
- (E) 22

**Questão 13**

Todas as segundas Maria vai para o trabalho de carro se estiver chovendo. Considerando que quando é segunda Maria vai a academia e que ela não foi, pode-se afirmar que:

- (A) Não estava chovendo.
- (B) Maria foi de carro para o trabalho.
- (C) É segunda.
- (D) Maria foi de bicicleta para o trabalho.
- (E) Não é segunda.

**Questão 14**

Uma cidade tem 5 linhas de ônibus: O1, O2, O3, O4 e O5. Esses ônibus fazem os seguintes trajetos:

- Bairro A ao Bairro B
- Bairro C ao Bairro A
- Bairro B ao Bairro D
- Bairro D ao Bairro A
- Bairro B ao Bairro C

Sabendo que os ônibus O1 e O4 não têm como destino final ou inicial o Bairro A, O2 e O3 não têm como destino final ou inicial o Bairro C e O3 e O4 não têm como destino final ou inicial o Bairro D, o ônibus que faz o trajeto entre os bairros B e C é:

- (A) O1
- (B) O2
- (C) O3
- (D) O4
- (E) O5

**Questão 15**

Um vendedor na praia tem uma certa quantidade de picolés. Para o primeiro cliente ele vendeu metade dos picolés mais dois. Para o segundo cliente ele vendeu metade do que restava mais dois. O terceiro cliente comprou metade dos picolés que restavam mais dois. Quando o quarto cliente comprou metade do que restava mais dois os picolés acabaram.

O vendedor tinha, originalmente:

- (A) 64 picolés.
- (B) 80 picolés.
- (C) 60 picolés.
- (D) 72 picolés.
- (E) 56 picolés.

**Informática Básica****Questão 16**

O Ms Word oferece a possibilidade de se inserir uma nota ao final do documento (não confundir com nota de rodapé). Utilizando-se a barra de ferramentas, essa alternativa é encontrada em:

- (A) Inserir.
- (B) Correspondências.
- (C) Revisão.
- (D) Exibição.
- (E) Referências.

**Questão 17**

Dentre os softwares abaixo, aquele que NÃO pode ser considerado como sistema operacional é:

- (A) Android.
- (B) Windows Office.
- (C) Linux.
- (D) Windows 10.
- (E) IOS.

**Questão 18**

Um novo tipo de ataque hacker tem-se tornado um pesadelo para os responsáveis pela segurança de sistemas. Invadem os computadores e tornam seus dados indisponíveis através do uso de criptografia, exigindo resgate para liberação. Esse Malware é o:

- (A) Cavalo de Troia.
- (B) Spyware.
- (C) Autorun.
- (D) Majava.
- (E) Ransomware.

**Questão 19**

Numa planilha Excel temos os seguintes valores nas células: A3=6, B3=18, C3=2

O valor da célula D3 se ela contiver a fórmula

$= (SE(B3 < C3; 5; 10)) + B3 - A3 / C3$  será:

- (A) 22.
- (B) 26.
- (C) 25.
- (D) 31.
- (E) 20.

**Questão 20**

Dentre os dispositivos de armazenamento de dados abaixo, aquele composto do que chamamos de Memória Flash é:

- (A) DVD.
- (B) Fita DAT.
- (C) Pen Drive.
- (D) CD ROM.
- (E) Disco Ótico.

**Atualidades**

**Questão 21**

O agronegócio tem sido reconhecido como um vetor crucial do crescimento econômico brasileiro. Em 2019, a soma de bens e serviços gerados no agronegócio chegou a R\$ 1,55 trilhão ou 21,4% do PIB brasileiro. Dentre os segmentos, a maior parcela é do ramo agrícola, que corresponde a 68% desse valor (R\$ 1,06 trilhão), a pecuária corresponde a 32%, ou R\$ 494,8 bilhões.

(cnabrazil)

O produto mais exportado pelo Brasil, disparado, é o(a):

- (A) frango.
- (B) café.
- (C) cana de açúcar.
- (D) soja.
- (E) canola.

**Questão 22**

Gasolina (R\$/litro)		
Estado	Contribuição Preço Petrobras na Revenda <sup>(1)</sup>	Preço Médio Revenda <sup>(2)</sup>
AL	1.995	6.171
AM	1.975	6.003
BA	2.037	6.081
CE	1.976	5.973
DF	2.139	6.424
ES	2.000	6.197
GO	2.139	6.380
MA	1.956	6.115
MG	2.106	6.315
PA	1.982	6.071
PB	1.959	5.943
PE	1.978	6.010
PR	2.017	5.936
RJ	2.094	6.613
RN	1.964	6.623
RS	2.052	6.345
SC	2.062	5.830
SP	2.044	5.775

(1) Preço referente à 73% de gasolina A, considerando a mistura obrigatória de 27% de etanol anidro.  
 (2) Preço médio de Revenda com base nos dados da ANP para a semana de 19/09/2021 a 25/09/2021.

Fonte [www.petrobras](http://www.petrobras.com.br)

A tabela acima demonstra o preço praticado nas refinarias da Petrobras e o preço cobrado nas bombas em vários estados do país.

O dados abaixo detalham todos os componentes do preço da gasolina cobrado na bomba.

- 10.7% - Distribuição e Revenda
- 16.9% - Custo Etanol Anidro
- 27.7% - ICMS
- 11.3% - CIDE e PIS/PASEP e COFINS
- 33.4% - Realização Petrobras

Para viabilizar o preço do combustível cobrado na bomba, fazendo frente à alta do petróleo, bem como à pressão sobre os preços, o governo vem propondo alteração, principalmente, no seguinte componente do preço:

- (A) ICMS.
- (B) CIDE.
- (C) COFINS.
- (D) Distribuição e Revenda.
- (E) Realização Petrobras.

**Questão 23**

O Espírito Santo lançou, no Palácio Anchieta, no início de outubro a campanha “Outubro Rosa” que tem por objetivo conscientizar:

- (A) sobre a necessidade da prevenção e diagnóstico do câncer de próstata, além da importância de cuidados integrais com a saúde do homem.
- (B) sobre a necessidade da prevenção e diagnóstico do coração, das doenças cardíacas.
- (C) combater o lúpus, o Mal de Alzheimer e a fibromialgia.
- (D) para o controle do câncer de mama.
- (E) informar sobre a hepatite.

**Questão 24**

O mês de setembro começou com eventos que animam as cidades capixabas de norte a sul. Tem festival de imigração, encontro cultural e gastronômico e muito mais. O “giro” começa pela cidade de Mucurici, na Região Turística Doce Terra Morena. Por lá, acontece a 6ª Feira Cultural trazendo muita gastronomia e artesanatos. Em João Neiva, na Região Turística dos Imigrantes, o encontro de motociclistas “Guardiões Moto Fest” leva muita música para a cidade. Já na Região Turística das Montanhas Capixabas, o destaque vai para a XXVII Pomerfest que acontece em Domingos Martins e para a XXVI Festa do Sanfoneiro, em Conceição do Castelo. A imigração também será homenageada na Região Turística da Costa e da Imigração. Em Alto Pongal, Anchieta, muita caretela, polenta e música. Os imigrantes homenageados são:

- (A) alemães e ingleses.
- (B) italianos e pomeranos.
- (C) portugueses e alemães.
- (D) portugueses e pomeranos.
- (E) italianos e espanhóis.

**Questão 25**

Fiocruz e seu Instituto de Tecnologia em Imunobiológicos (Bio-Manguinhos/Fiocruz) assinaram, em 01/06/2021, o contrato de Transferência de Tecnologia da vacina Covid-19 (recombinante) para a produção 100% nacionalizada do imunizante. O contrato formaliza a transferência do conhecimento que já vem sendo repassado pelo parceiro tecnológico para agilizar a produção do Ingrediente Farmacêutico Ativo (IFA) nas instalações de Bio-Manguinhos/Fiocruz.

(Portal Fiocruz)

Esse contrato foi assinado pela Fiocruz com a(o):

- (A) China/ grupo Covaxin.
- (B) AstraZeneca / Universidade de Oxford.
- (C) Fundo Russo de Investimento Direto (RDIF).
- (D) Janssen, braço farmacêutico da Johnson & Johnson (J&J)
- (E) Pfizer, do grupo alemão liderado por Charles Pfizer.

## Conhecimentos Específicos

### Questão 26

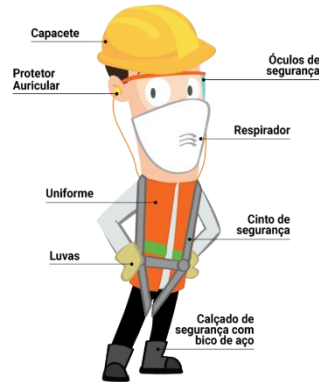
Há 5 classes de incêndio. Uma dessas classes caracteriza-se pelo fogo causado por metais pirofóricos, ou seja, metais que em partículas finas podem entrar em combustão facilmente como, por exemplo, o zinco, titânio, urânio e lítio. Existe um extintor utilizado apenas para esse tipo de incêndio, pois isola o metal da atmosfera, impedindo um maior alastramento. Outra característica importante desse extintor é que possui um longo aplicador, para alcançar mais facilmente o metal. Dessa forma, o utilizador fica mais distante e não entra em contato com o gás exalado durante a queima. Trata-se do extintor:

- (A) da classe D.
- (B) com carga de espuma mecânica.
- (C) com carga de pó químico BC.
- (D) com carga de pó químico ABC.
- (E) da classe K.

### Questão 27

A NR-35 determina os requisitos mínimos e as medidas de proteção para o trabalho em altura.

Cabem, ao empregador e trabalhador, responsabilidades específicas diante do trabalho em altura.



Observe a imagem acima do trabalhador trajando diferentes EPIs. Coloque (RE) ao lado da responsabilidade do empregador e (RT) da responsabilidade do trabalhador.

- ( ) Zelar pela sua segurança e saúde e a de outras pessoas que possam ser afetadas por suas ações ou omissões no trabalho.
- ( ) Desenvolver procedimento operacional para as atividades rotineiras de trabalho em altura.
- ( ) Adotar as providências necessárias para acompanhar o cumprimento das medidas de proteção estabelecidas na NR-35 pelas empresas contratadas.
- ( ) Interromper suas atividades exercendo o direito de recusa, sempre que constatarem evidências de riscos graves e iminentes para sua segurança e saúde ou a de outras pessoas, comunicando imediatamente o fato a seu superior hierárquico, que irá diligenciar as medidas cabíveis.

Assinale a sequência correta:

- (A) (RE); (RE);(RE); (RT).
- (B) (RT); (RE);(RE); (RT).
- (C) (RT); (RT);(RE); (RT).
- (D) (RT); (RT);(RT); (RE).
- (E) (RE); (RE);(RE); (RE).

**Questão 28**

A queimadura é toda lesão produzida no tecido de revestimento do organismo, por agentes térmicos, elétricos, produtos químicos, radiação ionizante, animais (água-viva) e plantas (urtiga), entre outros. Os primeiros cuidados com o 'queimado' devem ser:

- I- retirar a vítima do contato com a causa da queimadura.
- II- lavar a área queimada com bastante água corrente no caso de queimadura com fogo e de extensão.
- III- colocar a vítima debaixo do chuveiro, em caso de queimaduras extensas, para resfriar seu corpo e facilitar a retirada das roupas soltas da pele e, em seguida, proteger seu corpo com um lençol ou pano limpo.
- IV- aplicar gelo sobre a queimadura.
- V- aplicar pomadas, cremes ou manteiga sobre a queimadura.

Dos itens acima mencionados, estão corretos, apenas:

- (A) I, II, III.
- (B) I, III, V.
- (C) II, IV, V.
- (D) II, III, IV.
- (E) I, III, IV.

**Questão 29**

Para proteção auditiva, o trabalhador deve utilizar o seguinte EPI:

- (A) cinto de segurança e cinturões.
- (B) óculos e viseiras.
- (C) capacetes com aba lateral.
- (D) abafadores de ruídos ou protetores auriculares.
- (E) máscaras e filtro.

**Questão 30**

Quando não há a sinalização de placas indicando a velocidade máxima da via, o motorista deve respeitar os limites estabelecidos no artigo 61 do CTB. No caso de estradas de vias rurais, a velocidade máxima será de:

- (A) 60km/h.
- (B) 40km/h.
- (C) 80km/h.
- (D) 110km/h.
- (E) 120km/h.

**Questão 31**

De acordo com Luther Gulick, há elementos da administração que constituem as principais funções do administrador. Observe as colunas a seguir e estabeleça a correlação adequada entre os elementos e respectivas definições:

- (1) Planejamento
- (2) Direção
- (3) Informação
- (4) Orçamento

( ) é a função inclusiva de tudo o que diz respeito à elaboração, execução e fiscalização orçamentárias, ou seja, o plano fiscal, a contabilidade e o controle.

( ) é a tarefa contínua de tomar decisões e incorporá-las em ordens e instruções específicas e gerais, e ainda a de funcionar como líder da empresa.

( ) é a tarefa de traçar as linhas gerais das coisas que devem ser feitas e dos métodos de fazê-las, a fim de atingir os objetivos da empresa.

( ) é o esforço de manter as pessoas informadas a respeito do que acontece na empresa e que pressupõe naturalmente a existência de registros, documentação, pesquisa e inspeções.

- (A) ( 4 ) / ( 2 ) / ( 1 ) / ( 3 ).
- (B) ( 4 ) / ( 1 ) / ( 2 ) / ( 3 ).
- (C) ( 3 ) / ( 2 ) / ( 1 ) / ( 4 ).
- (D) ( 2 ) / ( 4 ) / ( 1 ) / ( 3 ).
- (E) ( 1 ) / ( 2 ) / ( 3 ) / ( 4 ).

**Questão 32**

De acordo com a teoria clássica da administração, Fayol diz que as funções administrativas envolvem 5 elementos da Administração. Esses elementos são: (1) previsão, (2) organização, (3) comando, (4) coordenação e (5) controle. Observando a sequência numérica de 1 a 5, as definições de cada elemento são, respectivamente:

- (A) (1) constituir o duplo organismo material e social da empresa; (2) verificar que tudo ocorra de acordo com as regras estabelecidas e as ordens dadas; (3) ligar, unir, harmonizar todos os atos e todos os esforços coletivos; (4) visualizar o futuro e traçar o programa de ação; (5) dirigir e orientar o pessoal.
- (B) (1) visualizar o futuro e traçar o programa de ação; (2) constituir o duplo organismo material e social da empresa; (3) dirigir e orientar o pessoal; (4) ligar, unir, harmonizar todos os atos e todos os esforços coletivos; (5) verificar que tudo ocorra de acordo com as regras estabelecidas e as ordens dadas.
- (C) (1) verificar que tudo ocorra de acordo com as regras estabelecidas e as ordens dadas; (2) visualizar o futuro e traçar o programa de ação; (3) constituir o duplo organismo material e social da empresa; (4) ligar, unir, harmonizar todos os atos e todos os esforços coletivos; (5) dirigir e orientar o pessoal.
- (D) (1) verificar que tudo ocorra de acordo com as regras estabelecidas e as ordens dadas; (2) dirigir e orientar o pessoal; (3) constituir o duplo organismo material e social da empresa; (4) ligar, unir, harmonizar todos os atos e todos os esforços coletivos; (5) visualizar o futuro e traçar o programa de ação.
- (E) (1) visualizar o futuro e traçar o programa de ação; (2) constituir o duplo organismo material e social da empresa; (3) ligar, unir, harmonizar todos os atos e todos os esforços coletivos; (4) dirigir e orientar o pessoal; (5) verificar que tudo ocorra de acordo com as regras estabelecidas e as ordens dadas.

**Questão 33**

O acordo firmado entre a administração federal, estadual ou municipal, autárquica ou fundacional e outra entidade pública ou organização particular, que tem por objetivo a execução descentralizada, em regime de mútua cooperação, de programa, projeto ou atividades de interesse comum é denominado:

- (A) Convênio.
- (B) Termo de Ajustamento de Conduta.
- (C) Contrato.
- (D) Tratado.
- (E) Aliança.

**Questão 34**

Leia atentamente os itens A e B, que tratam de atos oficiais.

A- caracteriza-se pela descrição dos desdobramentos de projetos, apuração de fatos, e outras atividades administrativas que também podem ser consolidadas por meio dele. Assim, esse documento visa apontar análises, interpretações e observações acerca de determinado assunto.

B- instrumento utilizado para expressar a opinião fundamentada, técnica ou jurídica, sobre determinado assunto; é ato processual exarado com base na constatação de fatos e na análise técnica, administrativa ou jurídica, com a indicação de solução, favorável ou contrária, segundo as argumentações apresentadas pelo seu autor; devendo conter assunto ou ementa, relatório das peças processuais e resumo do pedido, legislação aplicável, fundamentação e argumentação do autor, bem como a proposta de solução.

- (A) O conceito A refere-se a Despacho.
- (B) O conceito B refere-se Relatório.
- (C) Os conceitos A e B referem-se, respectivamente, à Relatório e Parecer.
- (D) Os conceitos A e B referem-se, respectivamente, a Despacho e Relatório.
- (E) Os conceitos A e B referem-se, respectivamente, a Despacho e Decreto.

**Questão 35**

Ofício é um documento oficial, que deve ser escrito de acordo com a norma padrão e na língua portuguesa, sendo composto por um texto claro e objetivo. É de extrema importância que no ofício conste argumentos fortes e coerentes. Para produzi-lo de forma coerente, é preciso utilizar as palavras com a devida compreensão, além de não se prolongar muito, tendo sempre que se apresentar de maneira clara e objetiva. Além do número do ofício, os dados que nele precisam constar são:

- (A) nome; CPF ou CNPJ; identificação pessoal; endereço; data e local.
- (B) nome; proposição; CPF ou PIS/ PASEP; data e local; assinatura.
- (C) nome do outorgado; CPF; informações pessoais; endereço; assinatura.
- (D) identificação do objetivo; determinação de metas; proposição; CNPJ; assinatura.
- (E) nome; CNPJ; informações da empresa; metas; endereço; data e local.

**Questão 36**

Os documentos de um arquivo podem ser classificados em diferentes categorias, de acordo com suas características. Baseando-se nelas, podemos classificá-los quanto ao: gênero, espécie, tipologia, natureza do assunto, forma, e formato. A classificação que se refere à maneira de representar o documento de acordo com o seu suporte, que identifica se eles são textuais (quando a informação está escrita), cartográficos (quando o documento representa uma área maior, como em plantas e mapas), iconográfico (quando o documento possui a informação em forma de imagem estática, como em fotografias, partituras, e cartazes), micrográficos (quando o documento possui a informação registrada em microforma, como em microfiches e microfichas) etc., denomina-se:

- (A) Gênero.
- (B) Espécie.
- (C) Tipologia.
- (D) Forma.
- (E) Natureza de assunto.

**Questão 37**

A liderança é necessária em todos os tipos de organização humana, principalmente nas empresas e em cada um de seus departamentos. Ela é igualmente essencial em todas as demais funções da administração: o administrador precisa reconhecer a motivação humana e saber conduzir as pessoas, isto é, liderar. Pode-se entender "liderança" como:

- (A) a troca de informação entre indivíduos, por isso constitui um dos processos fundamentais da experiência humana e da organização social.
- (B) uma decorrência do estado motivacional, uma atitude mental provocada pela satisfação ou não-satisfação das necessidades dos indivíduos.
- (C) uma condição humana de proporcionar informação e compreensão necessárias para que as pessoas possam conduzir-se nas suas tarefas.
- (D) a influência interpessoal exercida numa situação e dirigida através do processo da comunicação humana à consecução de um ou de diversos objetivos específicos.
- (E) o estado motivacional consequente das necessidades dos indivíduos satisfeitas pela organização.

**Questão 38**

Observe os conceitos abaixo:

A- Trata-se de documento de ato administrativo de qualquer autoridade pública, que contém instruções acerca da aplicação de leis ou regulamentos, recomendações de caráter geral, normas de execução de serviço, nomeações, demissões, punições, ou qualquer outra determinação da sua competência.

B- Trata-se de uma ordem emanada de uma autoridade superior ou órgão (civil, militar, leigo ou eclesiástico) que determina o cumprimento de uma resolução.

Sobre eles, é correto dizer que:

- (A) o conceito A refere-se a Decreto.
- (B) o conceito B refere-se à Lei.
- (C) os conceitos A e B referem-se, respectivamente, à Portaria e Resolução.
- (D) os conceitos A e B referem-se, respectivamente, a Decreto e Resolução.
- (E) os conceitos A e B referem-se, respectivamente, à Portaria e Decreto.

**Questão 39**

O instrumento público concedido pela Administração Pública que viabiliza a licença ou autorização para a prática de algum ato. Trata-se de ordem fornecida pela autoridade em favor de alguém para que esse tenha seu ato autorizado, que denomina-se:

- (A) Certidão.
- (B) Declaração.
- (C) Alvará.
- (D) Decreto.
- (E) Portaria.

**Questão 40**

O primeiro passo para realmente começar a dar mais atenção aos materiais do almoxarifado é entender a importância que essa área tem para a instituição como um todo. É nesse setor que estão armazenados os produtos que irão abastecer vários setores do negócio, do escritório à produção, e a ausência de alguns itens pode prejudicar a produtividade. Ao receber materiais, é importante que o funcionário responsável tenha atenção:

- (A) ao controle da compra de materiais.
- (B) à higiene no setor que estão armazenados os produtos.
- (C) à utilização dos relatórios de compra e venda.
- (D) ao controle do almoxarifado.
- (E) ao conferir a quantidade e a qualidade dos produtos.