


PREFEITURA MUNICIPAL DE ARACRUZ- ES

AUXILIAR DE SAÚDE BUCAL

Código da Prova

**F01 Y**  
TARDE

 Verifique se o Código da Prova é o mesmo do seu cartão de respostas

 Duração da prova: **3 horas 30 minutos**

---

**TRANSCREVA, EM ESPAÇO DETERMINADO NO SEU CARTÃO DE RESPOSTAS,  
A FRASE DE CARLOS DRUMMOND DE ANDRADE PARA O EXAME GRAFOTÉCNICO  
“Ser feliz sem motivo é a mais autêntica forma de felicidade.”**



**ATENÇÃO**

Este caderno contém cinquenta questões de múltipla escolha, cada uma com cinco alternativas de resposta – A, B, C, D e E – conforme disposição abaixo.

**Verifique se este material está em ordem, caso contrário, notifique imediatamente o fiscal.  
O tempo de duração da prova inclui o preenchimento do Cartão de Respostas.**

---

**LEIA AS INSTRUÇÕES ABAIXO:**

Siga, atentamente, a forma correta de preenchimento do Cartão de Respostas, conforme estabelecido no próprio. O Cartão de Respostas é personalizado, impossibilitando a substituição.

Por motivo de segurança:

- O candidato só poderá retirar-se definitivamente da sala após 1 (uma) hora do início efetivo da prova
- Somente faltando 1 (uma) hora para o término da prova, o candidato poderá retirar-se levando o seu Caderno de Questões
- O candidato que optar por se retirar sem levar o seu Caderno de Questões não poderá copiar suas respostas por qualquer meio. O descumprimento dessa determinação acarretará a eliminação do candidato
- Ao terminar a prova, o candidato deverá se retirar imediatamente do local, não sendo possível nem mesmo a utilização dos banheiros e/ou bebedouros.

Ao terminar a prova, é de sua responsabilidade entregar ao fiscal o Cartão de Respostas assinado. Não se esqueça dos seus pertences. Os três últimos candidatos deverão permanecer na sala até que o último candidato entregue o Cartão de Respostas. O fiscal de sala não está autorizado a alterar quaisquer dessas instruções. Em caso de dúvida, solicite a presença do coordenador local.

## Língua Portuguesa

### ESTRESSE

Em uma sociedade tecnológica e acelerada, o estresse tem se tornado um importante agente causador de problemas de saúde. Para muita gente, relaxar está cada vez mais difícil.

O estresse é uma combinação de reações físicas e emocionais que todos experimentamos em determinadas situações. Isso pode trazer efeitos positivos (quando melhora a nossa habilidade de lidar com problemas do dia a dia e a enfrentar desafios) ou negativos (quando se torna algo contínuo, levando a uma série de sintomas físicos e psicológicos desagradáveis).

Fisiologicamente, o estresse nada mais é do que uma reação do organismo frente a mudanças bruscas no ambiente.

Os fatores que causam o estresse podem ser perceptíveis ou não, como aborrecimentos acidentais, grandes mudanças na vida profissional ou pessoal e problemas que se arrastam, como dívidas, por exemplo.

Quando o motivo do estresse causa reações físicas e emocionais incessantes, o corpo não relaxa. Isso configura o chamado estresse crônico, que pode levar a uma série de doenças, como pressão alta (e doenças cardíacas, como ataques do coração), dores de cabeça, dores nas costas, gastrites e úlceras. Muitos estudos também associam o estresse crônico com a imunidade do organismo, já que uma pessoa estressada fica doente com mais frequência.

Quem sofre de estresse crônico também está suscetível ao fumo, ao álcool e às drogas, cujas substâncias são capazes de produzir efeitos que parecem amenizar os sintomas do problema. Mas como essa sensação é passageira, a pessoa se sente pior ao cessar os efeitos e o resultado acaba sendo o vício. Por isso, em meio a uma situação estressante, é vital desenvolver mecanismos que protejam o seu organismo. Relaxar o corpo – e a mente – pode ser uma boa alternativa para agregar qualidade à sua vida.

Vale destacar que o papel da mente sobre a saúde começou a ser considerado pela medicina ocidental somente no século XX. A partir de descobertas sobre o controle da dor através do efeito placebo e dos efeitos do estresse sobre a saúde, as terapias complementares se fortaleceram. Entre elas, as técnicas de relaxamento ganharam popularidade, por serem capazes de agir sobre o físico e o psicológico de forma simultânea.

(Revista Saúde, da Proteste)

### Questão 1

Segundo o texto, o estresse produz bastantes efeitos, que podem ser:

- (A) positivos.
- (B) negativos.
- (C) físicos.
- (D) contagiantes.
- (E) emocionais.

### Questão 2

Assinale a alternativa CORRETA quanto à concordância verbal.

- (A) A população da periferia das grandes cidades sofrem com a falta de transporte adequado.
- (B) Perto de dez alunos faltou hoje.
- (C) Foram os alunos quem reivindicou o passeio.
- (D) Os Alpes localiza-se na Europa.
- (E) Vossa Excelência enganastes seus eleitores.

### Questão 3

Todas as alternativas estão corretas quanto à concordância nominal, EXCETO:

- (A) No final, a moça respondeu: – Muito obrigado!
- (B) Foi acusado de crime de lesa-justiça.
- (C) Estamos quites com as nossas obrigações eleitorais.
- (D) As crianças mesmas organizaram a festa.
- (E) A fruta estava meio estragada.

### Questão 4

Aponte a alternativa INCORRETA quanto à correspondência entre o adjetivo e a locução.

- (A) Plúmbeo (de chumbo), sulfúreo (de enxofre).
- (B) Viperino (de vespa), ocular (de olho).
- (C) Especular (de espelho), argênteo (de prata).
- (D) Ebúrneo (de marfim), insípido (sem sabor).
- (E) Farináceo (de farinha), pétreo (de pedra).

### Questão 5

Em “Quem sofre de estresse crônico também está suscetível ao fumo...”, a palavra destacada NÃO pode ser substituída por:

- (A) propenso.
- (B) disposto.
- (C) inclinado.
- (D) vulnerável.
- (E) insensível.

**Questão 6**

Em “O coordenador passou \_\_\_ entregar \_\_\_ imprensa \_\_\_ lista dos aprovados.”, a alternativa que preenche CORRETAMENTE as lacunas é:

- (A) a – a – a.
- (B) a – à – a.
- (C) à – à – à.
- (D) à – a – a.
- (E) a – à – à.

**Questão 7**

A alternativa em que as palavras destacadas NÃO estão de acordo com a norma culta da língua é:

- (A) Depois da sessão de ontem, os diretores discutiram a cessão do filme.
- (B) Não reagi à provocação porque tem bom senso.
- (C) Nas celas da prisão havia muitos presos revoltados.
- (D) Havia indícios de que estava na iminência de ser demitido.
- (E) No estrato bancário não havia indicação do depósito.

**Questão 8**

A alternativa que contempla a frase CORRETA, no padrão da norma culta da língua, quanto à colocação do pronome oblíquo é:

- (A) Nada ajudá-lo-á nessa fase da vida.
- (B) Lhe disse poucas e boas.
- (C) Venderia-lhe um apartamento com problemas?
- (D) Tudo falou-se sobre doenças oriundas do mosquito.
- (E) Nunca o procurei para implorar cargos no governo.

**Questão 9**

Conforme cita o texto, os agentes causadores do estresse podem ser:

- (A) dívidas.
- (B) viagens frequentes.
- (C) aborrecimentos acidentais.
- (D) mudanças profissionais.
- (E) alterações na vida pessoal.

**Questão 10**

A alternativa cujas formas verbais estão CORRETAMENTE empregadas é:

- (A) Assim que os contribuintes se dispuseram a não aceitar as mudanças na cobrança, o gerente interveio.
- (B) O juiz intimou o acusado para que viesse e deposesse sobre o crime em que estava envolvido.
- (C) Nós antevimos a ruptura daquele casamento quando vimos passar com eles um fim de semana.
- (D) Quando deteram o caminhão, o trânsito ficou complicado.
- (E) Se você refazer a obra, ficará, sem dúvida, muito melhor.

**Questão 11**

De acordo com o texto, o estresse crônico pode levar às seguintes doenças, EXCETO:

- (A) dores de cabeça.
- (B) gastrites.
- (C) problemas renais.
- (D) doenças cardiovasculares.
- (E) pressão alta.

**Questão 12**

Em “Os estudos \_\_\_\_\_ estão dando prosseguimento é incompatível \_\_\_\_\_ tradições da Universidade.”, a alternativa que completa CORRETAMENTE as lacunas é:

- (A) que – com as.
- (B) de que – com as.
- (C) que – às.
- (D) à que – as.
- (E) a que – com as.

**Questão 13**

Assinale a alternativa em que a expressão PORQUE deve vir separada.

- (A) Não reclame, porque é pior.
- (B) Entendi o porquê da sua atitude.
- (C) Tomou aquela decisão porque estava triste.
- (D) Não sei porque atiraste a primeira pedra.
- (E) Porque perdeu no jogo, ficou emburrada.

**Questão 14**

Assinale a alternativa INCORRETA quanto à pontuação.

- (A) Brasília, capital da República, tem o clima muito seco.
- (B) Pedro, você não está muito estressado?
- (C) Vereadores, deputados, senadores, funcionários, todos, contribuiram para o sucesso da causa.
- (D) Ele explicou tudo, ou melhor, contou a verdade.
- (E) Em um acidente, quem está só tem menos sorte.

**Questão 15**

O texto “Estresse” pode ser classificado como um texto:

- (A) expositivo.
- (B) narrativo.
- (C) descritivo.
- (D) injuntivo.
- (E) literário.

**Raciocínio Lógico****Questão 16**

O preço de um determinado imóvel à vista é R\$460.000,00. Maria deseja comprar o imóvel e procurou por um financiamento de 30 anos, em que pagaria parcelas mensais de R\$1.600,00. Caso Maria decida financiar o imóvel, terá um aumento no valor total do imóvel de aproximadamente:

- (A) 4%.
- (B) 20%.
- (C) 16%.
- (D) 30%.
- (E) 25%.

**Questão 17**

Joana deu toda a sua barra de chocolate para seus amigos. Rafaela ganhou  $\frac{3}{8}$ , Fábio ganhou  $\frac{1}{4}$ , Natália ganhou  $\frac{1}{5}$  e Thiago ficou com o restante. Quem ganhou o maior pedaço foi:

- (A) Fábio.
- (B) Rafaela.
- (C) Joana.
- (D) Natália.
- (E) Thiago.

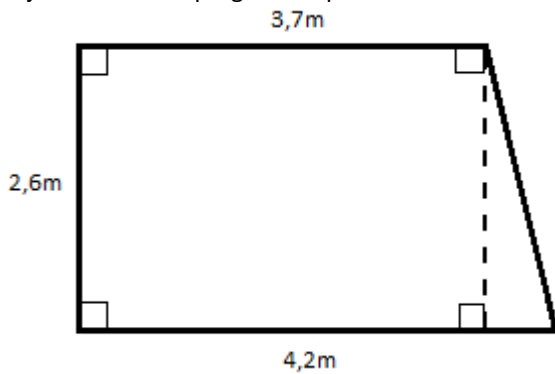
**Questão 18**

O número formado pela soma de 2 centenas de milhar, 4 unidades de milhar, 7 centenas e 3 unidades é igual à:

- (A) 204703.
- (B) 247030.
- (C) 204730.
- (D) 240703.
- (E) 204073.

**Questão 19**

Paula é decoradora de ambientes e foi à casa de uma cliente tirar as medidas de um cômodo para fazer um projeto. A cliente perguntou qual era a área do cômodo.



De acordo com as medidas apresentadas na figura acima, Paula deve responder à cliente que o cômodo tem:

- (A) 10,27 m<sup>2</sup>.
- (B) 9,62 m<sup>2</sup>.
- (C) 10,92 m<sup>2</sup>.
- (D) 40,40 m<sup>2</sup>.
- (E) 5,46 m<sup>2</sup>.

**Questão 20**

Rodrigo possui um apartamento de 80m<sup>2</sup>. A casa da Milena era 25% menor do que a do Rodrigo, mas ela está se mudando para uma casa 30% maior que a anterior. Qual a diferença, em m<sup>2</sup>, entre as residências atuais de Rodrigo e Milena.

- (A) 20.
- (B) 8.
- (C) 2.
- (D) 18.
- (E) 12.

**Questão 21**

Uma sala de aula possui 60 alunos. Todos os alunos deveriam passar por uma avaliação, no entanto, 5% dos alunos não compareceram. O gráfico abaixo representa a distribuição das notas obtidas pelos alunos que realizaram a avaliação, sendo 10 a nota máxima e 0 a nota mínima. Sabendo que os alunos que faltaram reprovaram e que para aprovação era necessário que o aluno obtivesse uma nota igual ou superior à 6, quantos alunos reprovaram?



- (A) 41.
- (B) 19.
- (C) 30.
- (D) 16.
- (E) 3.

**Questão 22**

Sr. Vinicius precisa encher sua piscina de 3m de comprimento, 4m de largura e 1m de altura. Para isso, ele utilizou a água de chuva que ele acumulou nas últimas semanas em uma caixa d'água cilíndrica de 2m de diâmetro e 2m de altura. Considerando  $\pi = 3$  e  $1m^3 = 1000$  litros, quantos litros de água faltam para Sr. Vinicius encher a piscina na capacidade máxima?

- (A) 9.000.
- (B) 12.000.
- (C) 4.000.
- (D) 3.000.
- (E) 6.000.

**Questão 23**

Para fazer uma determinada viagem, o carro a gasolina do Pedro consome 13 litros e o carro a álcool do João consome 16 litros. Sabendo que o preço da gasolina comum é R\$4,65/litro e o preço do álcool R\$3,75/litro, quem gasta mais para fazer essa viagem e a diferença no valor é, respectivamente:

- (A) Pedro gasta R\$0,45 a mais que João.
- (B) Pedro e João gastam o mesmo valor.
- (C) João gasta R\$7,05 a menos que Pedro.
- (D) Pedro gasta R\$25,65 a mais que João.
- (E) João gasta R\$1,10 a menos que Pedro.

**Questão 24**

Julia vende brownies no trabalho por R\$4,00 cada. Levou em sua bolsa duas notas de R\$5,00, cinco notas de R\$2,00 e dez moedas de R\$1,00 para facilitar o troco. Ao longo do dia Julia vendeu 26 brownies. A quantia que tinha na bolsa de Julia no final do dia era de:

- (A) R\$104,00.
- (B) R\$30,00.
- (C) R\$130,00.
- (D) R\$134,00.
- (E) R\$34,00.

**Questão 25**

Laura tinha 60 reais para fazer compras. No mercado ela gastou 48 reais e, com metade do dinheiro que sobrou, fez compras no sacolão.

Qual expressão numérica abaixo tem resultado igual ao valor em reais que restou após as compras de Laura?

- (A)  $60 \div 4 - 3$
- (B)  $12 \times 2 - 4 - 3 \times 3$
- (C)  $5 + 8 \times 2 - 3 \times 5$
- (D)  $15 - 21 \div 3$
- (E)  $30 \div 5 + 6 \div 2$

**Conhecimentos Gerais****Questão 26**

A economia de Aracruz, hoje, conta com um terminal da Portocel, por onde é escoada toda a produção de grandes empresas como Aracruz Celulose, Cenibra, Veracel e Suzano Bahia Sul. Entretanto, antes das grandes empresas e da grande produção de celulose, a economia era essencialmente:

- (A) urbana, com destaque para a mineração, o extrativismo e a pesca.
- (B) doméstica, com destaque para a piscicultura, o milho e as frutas.
- (C) rural, com destaque para as granjas, o leite e a soja.
- (D) urbana, com destaque para a soja, o leite e o feijão branco.
- (E) rural, com destaque para a pecuária, o café e a pesca.

**Questão 27**

Observe a imagem.



A Região Sudeste necessita de bastante energia por concentrar quase metade da população nacional, além de concentrar o maior e mais diversificado parque industrial do país e um amplo sistema de transportes. A maior parte da energia consumida nessa região (assim como acontece no país) é produzida por usinas hidrelétricas. Das hidrelétricas situadas na região sudeste, podem ser citadas:

- (A) Angra I e Angra II.
- (B) Itaipu e Xingu.
- (C) Jupia e Ilha Solteira.
- (D) Tucuruí e Santarém
- (E) Belo Monte e Itaipu.

**Questão 28**

“A região Sudeste registrou mortes e casos confirmados em 2018, de acordo com boletim de fechamento de sazonalidade do Ministério da Saúde. O monitoramento corresponde de julho de 2017 a julho de 2018. Nesse período, o Brasil registrou 1.376 casos e 483 mortes em decorrência da doença - todos nesta região. São Paulo é o Estado mais afetado, com 203 mortes e 555 casos confirmados. Em seguida está Minas Gerais, com 181 mortes e 532 casos. O Rio de Janeiro está em terceiro lugar, com 97 mortes e 282 casos. O único Estado do país que registrou casos e mortes, além dos já mencionados, foi o Espírito Santo, com seis casos e uma morte(...). Assim como é na Amazônia, segundo o Centro de Vigilância Epidemiológica da Secretaria de Estado da Saúde, doença já está disseminada em toda a área de Mata Atlântica”, afirma. (...) Para combatê-la, desde 2017 o Brasil estabeleceu que uma dose da vacina para toda a vida é suficiente para garantir proteção contra a doença – e não mais uma a cada dez anos –, conforme recomendação da Organização Mundial da Saúde”. ( notícias r7.com/2018)

O texto acima refere-se à:

- (A) febre amarela.
- (B) varíola.
- (C) malária.
- (D) tuberculose.
- (E) AIDS.

**Questão 29**

O Norte do estado do Espírito Santo se caracteriza pelos seus solos de tabuleiros terciários com relevo plano e suave ondulado; isto faz com que a aptidão natural desses solos seja para as culturas perenes.

A fruticultura é uma atividade agrícola econômica para Aracruz:

- (A) fundamental, pois é a atividades econômica responsável por 80%da produção agrícola do município.
- (B) importante, pois já ocupa o terceiro lugar entre as atividades agrícolas de importância econômica para Aracruz.
- (C) fundamental, pois é a única atividade econômica agrícola do município.
- (D) sem relevância, pois é o petróleo que ocupa o principal lugar entre as atividades econômicas nessa região de Aracruz.
- (E) sem relevância, pois é a soja que ocupa o primeiro lugar entre as atividades agrícolas de importância econômica para Aracruz.

**Questão 30**

O município de Aracruz, situado no estado do Espírito Santo, faz limite:

- (A) ao Norte com Linhares, ao Sul com Fundão, ao Leste com Oceano Atlântico, ao Oeste com Ibirapu e João Neiva.
- (B) ao Norte com Vila Velha, ao Sul com Cariacica, ao Leste com Oceano Atlântico, Ao Oeste com Guarapari.
- (C) ao Norte com Cariacica, Ao Sul com Fundão, ao Leste com João Neiva, Ao Oeste com Barra de São Francisco.
- (D) ao Norte com Cachoeiro do Itapemirim, ao Sul com Fundão, ao Leste com Oceano Atlântico, ao Oeste com Viana.
- (E) ao Norte com Colatina, ao Sul com São Mateus, ao Leste com Oceano Atlântico, ao Oeste com Fundão.

## Conhecimentos Específicos

### Questão 31

O processamento de filmes radiográficos pode ser feito pelos métodos manual e automático. Considerando o método manual de processamento de radiografias em um consultório odontológico, é exata a seguinte alternativa:

- (A) máquinas especializadas processam o filme sem a intervenção do profissional, desde a revelação até a secagem.
- (B) caso seja necessária a visualização da imagem, pode-se remover o filme após fixação de 2 minutos, mas deve-se completar o tempo de 10 minutos posteriormente.
- (C) imediatamente após a etapa de revelação do filme radiográfico deve-se realizar a fixação deste por 20 segundos.
- (D) no método tempo/temperatura o tempo de revelação determinará a temperatura ideal das soluções reveladora e fixadora.
- (E) o método de revelação por visualização é mais preciso que o por tempo/temperatura, pois quando se visualiza a super-revelação este é removido da solução.

### Questão 32

Os gessos odontológicos são indicados para confecção de modelos e troquéis, montagem em articuladores e como material de moldagem. Considerando a classificação dos tipos de gesso odontológicos e sua indicação clínica é correto afirmar que:

- (A) o gesso tipo I é conhecido como gesso comum ou Paris.
- (B) o gesso tipo II é comumente chamado de gesso pedra.
- (C) o gesso tipo III é denominado especial.
- (D) o gesso tipo IV é de alta expansão de presa.
- (E) o gesso tipo I é solúvel utilizado para moldagens.

### Questão 33

Os dentes são órgãos altamente mineralizados, implantados no osso alveolar das arcadas da mandíbula e maxila. Segundo a classificação anatômica de um elemento dentário este divide-se em 3 partes:

- (A) coroa dentária, colo e raiz.
- (B) coroa dentária, esmalte e dentina.
- (C) esmalte, dentina e cimento.
- (D) esmalte, dentina e polpa dental.
- (E) coroa dentária, raiz e polpa dental.

### Questão 34

As manobras de síntese são executadas pelo Cirurgião Dentista ao final de muitas cirurgias e estão relacionadas ao ato da sutura. É primordial que o(a) Auxiliar em Saúde Bucal tenha conhecimento da nomenclatura dos instrumentais e de sua aplicação durante os procedimentos odontológicos. Sendo assim, considerando a montagem de uma bandeja cirúrgica destinada ao ato de sutura, os instrumentos e materiais que devem estar contidos nessa são:

- (A) pinça clínica, tesoura, pinça porta agulha e fio de sutura agulhado.
- (B) seringa carpule, pinça hemostática, alavancas, cabo de bisturi.
- (C) cabo de bisturi, lâmina de bisturi descartável, tesoura, pinça hemostática.
- (D) pinça Backaus, seringa pra irrigação, pinça porta agulha e fio de sutura agulhado.
- (E) cuba para soro, seringa para irrigação, pinça clínica, tesoura.

### Questão 35

A placa bacteriana tem sido descrita como uma massa mole e aderente, que se deposita continuamente sobre a superfície dos dentes. O conjunto de medidas que objetivam a remoção da placa bacteriana é chamado de controle de placa. Portanto, acerca dos métodos adequados de controle de placa é correto afirmar que:

- (A) são realizados exclusivamente pela equipe de saúde bucal.
- (B) são realizados por meios mecânicos ou químicos.
- (C) podem levar o crescimento da massa bacteriana.
- (D) podem ser realizados através de bochechos com água.
- (E) são realizados exclusivamente pelo paciente.

### Questão 36

A resina acrílica ativada quimicamente tem várias aplicabilidades na odontologia. Sua presa ocorre por polimerização. A polimerização da resina acrílica quimicamente ativada é dividida em quatro fases e sobre essas é exato afirmar que:

- (A) a fase plástica é a primeira fase da polimerização, onde o monômero é umedecido pelo polímero.
- (B) a fase pegajosa é caracterizada pela formação de fios semelhantes a uma teia de aranha.
- (C) a fase arenosa é considerada a fase ideal de trabalho para a modelagem da resina.
- (D) na fase borrachoide os monômeros se difundem no polímero, é a fase de maior plasticidade.
- (E) a fase arenosa é a última fase da polimerização, nela não há mais plasticidade e ocorre a liberação de calor.

**Questão 37**

As resinas compostas são muito utilizadas na dentística restauradora e podem ter polimerização química ou física. Acerca das propriedades e manipulação das resinas compostas, é exata a afirmativa:

- (A) as resinas autopolimerizáveis apresentam-se em seringas com uma pasta pronta para o uso.
- (B) as fotopolimerizáveis tem maior tempo de trabalho, quando comparadas às autopolimerizáveis.
- (C) as autopolimerizáveis tem maior estabilidade de armazenamento comparadas às fotopolimerizáveis.
- (D) as fotopolimerizáveis devem ser manipuladas em papel impermeável em porções iguais de pasta universal e catalisadora.
- (E) a estabilidade da cor e a resistência ao desgaste é maior nas resinas autopolimerizáveis do que na fotoativadas.

**Questão 38**

Há diversos materiais de moldagem com características de impressão consideradas adequadas para confecção de modelos de trabalho para confecção de próteses fixas e removíveis. Considerando os materiais elásticos de moldagem, é correto sustentar que:

- (A) os polissulfetos são compostos por uma pasta base de polidimetilsiloxano, sílica e carbonato de cálcio e pasta catalisadora contendo éster organometálico.
- (B) os poliéteres adquirem propriedades tixotrópicas na medida do aumento de sua viscosidade, possuem grande estabilidade dimensional.
- (C) na manipulação dos silicões de condensação deve-se evitar o contato com o enxofre, que inibe sua reação de polimerização.
- (D) o silicone de adição apresenta três viscosidades para pasta base (densa, regular e fluída) e apenas uma para pasta catalisadora que é de viscosidade baixa.
- (E) as mercaptanas se apresentam comercialmente sob a forma de cartuchos acoplados a um dispensador de pressão mecânica.

**Questão 39**

Os instrumentos usados em Endodontia podem ser divididos em categorias de acordo com sua função. Considerando os instrumentos de uso intracanal, podemos dizer que:

- (A) as limas tipo Kerr são instrumentos rotatórios com pescoço longo usados em contra-ângulo.
- (B) as limas Hedström são hastes metálicas triangulares ou quadrangulares retorcidas com espiral de passo curto.
- (C) o cursor de borracha é colocado nas limas para facilitar a pega no cabo desses instrumentos.
- (D) as brocas Gates são instrumentos cortantes cuja parte ativa é uma espiral composta por cones sobrepostos.
- (E) as limas são numeradas, de acordo com sua ponta ativa em centésimos de milímetros, de 06 a 80.

**Questão 40**

O tratamento periodontal de um paciente muitas vezes se estende por várias consultas, podendo incluir raspagens, alisamentos radiculares, espiantagens, equilíbrio oclusal e tratamentos cirúrgicos. Considerando os instrumentos raspadores utilizados em periodontia, é correto afirmar que:

- (A) as foices possuem ponta ativa achatada, com inclinação de 45° e borda cortante curva.
- (B) as enxadas possuem 2 bordas cortantes que convergem para uma ponta afilada.
- (C) os cinzeis possuem múltiplas superfícies cortantes numa base oval ou circular.
- (D) as sondas periodontais são utilizadas para detectar cáries e irregularidades.
- (E) as curetas são indicadas, principalmente, para remoção de cálculos subgingivais.

**Questão 41**

Manter o campo de trabalho sem umidade excessiva e limpo é uma das funções da auxiliar de saúde bucal. O isolamento químico do campo operatório pode ser obtido por métodos tais quais:

- (A) o isolamento com roletes de algodão.
- (B) o isolamento com diques de borracha.
- (C) o isolamento com grampos de Ainsworth.
- (D) o uso de medicamentos de uso local e sistêmico.
- (E) o uso de sugadores de alta potência.

**Questão 42**

O conhecimento da nomenclatura e classificação das cavidades é imprescindível para todo o membro integrante da equipe de saúde bucal. A classificação mais conhecida e utilizada é a de Black. Segundo essa classificação é correto dizer que uma cavidade que foi preparada envolvendo a toda extensão do sulco principal e englobou o sulco intercuspidico no terço oclusal da superfície vestibular do primeiro molar inferior direito de um paciente, pode ser classificada como:

- (A) classe I.
- (B) classe II.
- (C) classe III.
- (D) classe IV.
- (E) classe V.

**Questão 43**

O auxiliar de saúde bucal deve ajudar o dentista na seleção de moldeiras, manipulação dos materiais de moldagem e confecção de modelos de gesso para a confecção de prótese fixas e removíveis. Sobre a fase de seleção da moldeira para uma moldagem de estudo com hidrocoloide irreversível, é correto afirmar que:

- (A) a moldeira de estoque selecionada deve ser, idealmente, lisa sem retenções.
- (B) a moldeira deve ser justa sem folgas, tocando nos dentes anteriores, tuberosidade ou papila retromolar.
- (C) para moldagem de arcos edentados deve-se utilizar um jogo de moldeiras específico ou individualizá-las.
- (D) se o espaço entre a moldeira e os dentes for menor que 3mm, seleciona-se uma moldeira menor.
- (E) se o espaço entre a moldeira e os dentes for maior que 5mm, seleciona-se uma moldeira maior.

**Questão 44**

As manobras de diérese visam interromper a integridade dos tecidos e separar os planos anatômicos. A incisão pode ser executada com o bisturi ou a tesoura. As lâminas de bisturi são descartáveis e devem ser acopladas à um cabo que pode ser descartável ou esterilizado. Há vários formatos de lâminas, denominados por números. A lâmina representada no desenho abaixo corresponde ao número:



- (A) 10.
- (B) 11.
- (C) 12.
- (D) 15.
- (E) 15C.

**Questão 45**

A literatura odontológica tem descrito várias técnicas de escovação dental. É muito importante que durante uma consulta de controle o paciente receba uma correta instrução de higiene oral. A respeito das técnicas de escovação é correto considerar que:

- (A) se o método utilizado pelo paciente for eficiente, mas não for correto, é necessário modificá-lo.
- (B) a motivação e a condição motora individual não são fatores determinantes para o êxito da técnica.
- (C) é recomendada a adaptação da técnica considerando a capacidade motora individual de cada paciente.
- (D) o paciente deve insistir na execução dos movimentos da técnica mesmo se houver falta de destreza manual.
- (E) há técnicas descritas na literatura que se mostram superiores tanto nos estudos quanto na prática diária.

**Questão 46**

O conhecimento dos diversos materiais dentários e sua correta manipulação é essencial na rotina do atendimento odontológico. Sendo assim, a respeito do cimento de ionômero de vidro podemos dizer que:

- (A) sua presa ocorre através da reação química entre duas pastas.
- (B) é recomendada sua manipulação com espátula nº 1 e inserção com aplicador de hidróxido de cálcio.
- (C) para sua aplicação utiliza-se pincel e aplicam-se várias camadas na cavidade a ser restaurada.
- (D) apresenta-se comercialmente em frascos de pó e líquido ou acondicionado em cápsulas.
- (E) são necessários para sua manipulação placa de vidro grossa resfriada e espátula metálica nº 24.

**Questão 47**

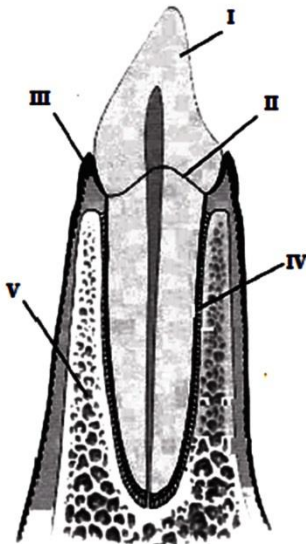
Os profissionais de saúde estão mais expostos ao risco de infecção dentro de hospitais e consultórios do que as pessoas comuns. Sendo assim, o controle de infecção é realizado através de um conjunto de procedimentos, dentre eles a imunização dos profissionais de saúde.

Acerca da imunização dos profissionais de saúde como medida preventiva é correto afirmar que:

- (A) a vacinação contra Hepatite A deve ser administrada em três doses em 0, 30 e 180 dias.
- (B) a vacinação contra Influenza deve ser realizada em duas doses com intervalo de 4 a 8 semanas entre elas.
- (C) a vacinação contra Tétano deve ser reforçada a cada 10 anos.
- (D) a BCG deve ser administrada contra a pneumonia em dose intramuscular, com reforço a cada 6 meses.
- (E) a Tríplice Viral é administrada em três doses e é recomendada apenas para o sexo feminino.

**Questão 48**

O conhecimento da anatomia dentária básica e anatomia oral é primordial para o auxiliar de saúde bucal. Considerando as estruturas anatômicas de um órgão dentário representadas abaixo é correto afirmar que são componentes do periodonto os componentes identificados pelos numerais:



C. F. S. Lobato. Odontologia de qualidade. Ed. Santos, SP, 2006, p. 48 (com adaptações).

- (A) I, II e III.
- (B) I, II e IV.
- (C) III, IV e V.
- (D) II, III e V.
- (E) II, III e IV.

**Questão 49**

A Odontologia é considerada uma das profissões mais insalubres, portanto, além da imunização, os profissionais de saúde devem se preocupar com o uso correto dos equipamentos de proteção individual (EPIs). Com relação ao uso dos EPIs, sua frequência e sua importância, é exato considerar que:

- (A) o uso de roupas brancas é importante para conferir um status perante à sociedade.
- (B) o uso de roupas brancas de trabalho dispensa o uso do avental.
- (C) a máscara deve ser descartada ao final de cada atendimento ou toda vez que for contaminada.
- (D) o avental deve ter mangas curtas para estimular o uso nas estações mais quentes como primavera e verão.
- (E) o uso de gorro ou touca não é obrigatório ao sexo masculino ou à profissionais com cabelo muito curto.

**Questão 50**

O isolamento mecânico do campo operatório pode ser obtido através das técnicas de isolamento relativo e absoluto. Considerando essas duas técnicas de isolamento é correto afirmar que:

- (A) a principal vantagem do isolamento relativo é manter o ambiente limpo e totalmente sem umidade.
- (B) o isolamento absoluto diminui a saliva em contato com o campo através do uso de roletes de algodão colocados próximos aos ductos das glândulas salivares.
- (C) o isolamento relativo utiliza lençol de borracha cortado ao meio e dois grampos dentários, uma em cada extremidade do hemiarco a ser trabalhado.
- (D) o isolamento absoluto possibilita a proteção do paciente contra a aspiração ou deglutição de resíduos e instrumentos menores.
- (E) o isolamento relativo é o único dispositivo capaz de eliminar a umidade e melhorar a visibilidade do campo operatório.